

1 Omkring het juiste spiegelbeeld.



a



b



c



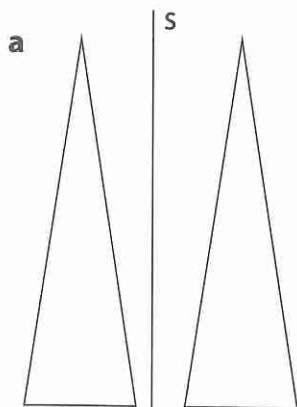
d

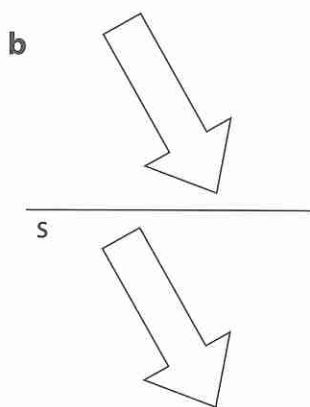


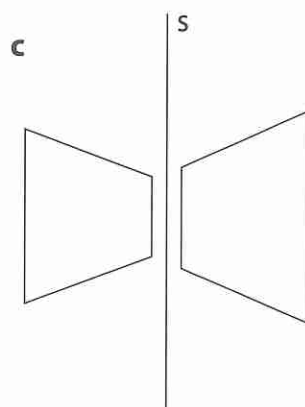
2 Onderzoek de figuren. Kruis het vakje aan als ze elkaars spiegelbeeld zijn.

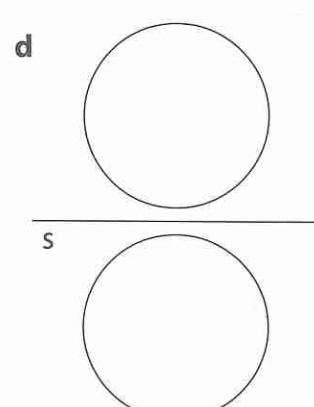


Waarom wel of niet? Bespreek het met je buur.









**3** Onderzoek de afbeeldingen. Zijn ze symmetrisch of niet? Kruis aan.



Waarom wel of niet? Bespreek het met je buur.

**a**



- symmetrisch  
 niet symmetrisch



- symmetrisch  
 niet symmetrisch



- symmetrisch  
 niet symmetrisch

**b**



- symmetrisch  
 niet symmetrisch



- symmetrisch  
 niet symmetrisch



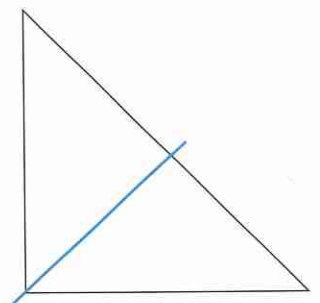

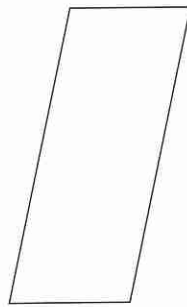
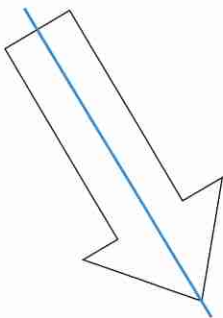
- symmetrisch  
 niet symmetrisch

**4** Onderzoek de vlakke figuren. Kruis het vakje aan als ze symmetrisch zijn.



Teken een symmetrieas waar het kan.

**a**



**b**

