

3101 Bestäm y' om

a) $y = 5x^3 - \frac{1}{4}x^8$

b) $y = 3\sqrt{x} - \frac{4}{\sqrt{x}}$

c) $y = \frac{3}{x} + \frac{x}{3}$

d) $y = \frac{2x^{5/2}}{3} - \frac{5x^{-7/2}}{4}$

3101. a) $y' = 15x^2 - 2x^7$

c) $y' = -\frac{3}{x^2} + \frac{1}{3}$

b) $y' = \frac{3}{2\sqrt{x}} - \frac{2}{x\sqrt{x}}$

d) $y' = \frac{5x\sqrt{x}}{3} + \frac{35x^{-9/2}}{8}$

3102 Derivera följande funktioner

a) $y = 5 \cos 3x - 3 \sin 4x$

b) $y = 2e^{3x} - 5e^{-2x}$

c) $y = \ln 3x - \frac{1}{3x} + 3^x$

d) $y = (x^3 + 1)^{10}$

3102. a) $y' = -15 \sin 3x - 12 \cos 4x$

b) $y' = 6e^{3x} + 10e^{-2x}$

c) $y' = \frac{1}{x} + \frac{1}{3x^2} + 3^x \cdot \ln 3$

d) $y' = 30x^2(x^3 + 1)^9$

Som en modell för hur många bakterier N som återstår i en kultur t min efter det att den behandlats med ett bakteriedödande medel används funktionen

$$N = 20\,000 \cdot e^{-0,45t}$$

Med vilken hastighet minskar antalet bakterier vid tidpunkten 4,0 min?

$$3103, \quad N' = -0,45 \cdot 20000 \cdot e^{-0,45t}$$

$$N'(4) = -1488 \approx -1500 \text{ st/min}$$

3104 Derivera

a) $y = x \cdot \sin x$

c) $y = \frac{e^x}{x^2}$

b) $y = 2x \cdot e^{3x}$

d) $y = \frac{\sin x}{\cos x}$

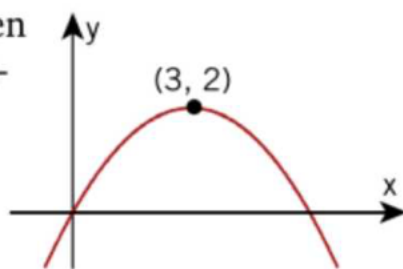
$$3104, \quad a) \quad y' = \sin x + x \cdot \cos x$$

$$b) \quad y' = 2 \cdot e^{3x} + 6x \cdot e^{3x} = 2e^{3x}(1 + 3x)$$

$$c) \quad y' = -\frac{2}{x^3} \cdot e^x + \frac{1}{x^2} \cdot e^x = e^x \left(\frac{1}{x^2} - \frac{2}{x^3} \right)$$

$$d) \quad y' = \frac{\cos^2 x + \sin^2 x}{\cos^2 x} = \frac{1}{\cos^2 x} = 1 + \tan^2 x$$

3105 I figuren har grafen till en andrags-funktion f ritats.



Vilka av nedanstående påståenden är sanna?

- A $f'(x) \geq 0$ för $x \geq 0$
- B $f'(x) \geq 0$ för $x \leq 3$
- C $f'(x) \leq 0$ för $x \leq 0$
- D $f'(x) \leq 0$ för $x \geq 3$

3105. B och D.

3106 Ange med hjälp av tabellen ett ungefärligt värde på $f'(3,3)$.

x	3,1	3,2	3,3	3,4
$f(x)$	7,1	6,6	6,2	5,9

3106.
$$f'(3,3) \approx \frac{5,9 - 6,6}{3,4 - 3,2} = -0,7 / 0,2 = -0,7 \cdot 5 = \underline{\underline{-3,5}}$$

3107 Ange en funktion som uppfyller att $f'(0) = 2$ och $f''(0) = 4$.

3107. ex.v $f(x) = 2x^2 + 2x$

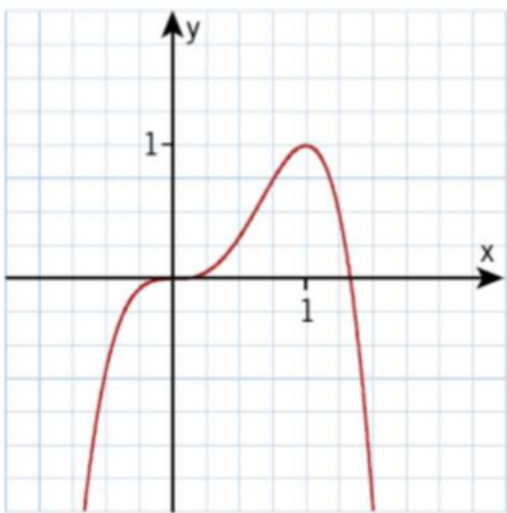
3108 a) Bestäm $\frac{dN}{dt}$ om $N = t^3 \cdot \ln t$.

b) Bestäm y' om $y = \frac{1+x}{1-x}$

$$3108. \quad a) \quad \frac{dN}{dt} = 3t^2 \cdot \ln t + t^3 \cdot \frac{1}{t} = \underline{t^2(3 \ln t + 1)}$$

$$b) \quad y' = \frac{1 \cdot (1-x) - (1+x) \cdot (-1)}{(1-x)^2} = \underline{\frac{2}{(1-x)^2}}$$

3109 Figuren visar grafen till en tredjegradsfunktion $y = f(x)$.



a) Förklara hur man i figuren kan se att $f'(1) = 0$ och $f'(-0,5) > 0$.

b) För vilka x är funktionen växande?

c) För vilka x är funktionen avtagande?

3109.

a) Funktionen har en extrempunkt i $f(1) \Rightarrow f'(1) = 0$
~" - är växande för $x = -0,5 \Rightarrow f'(-0,5) > 0$

b) $x \leq 1$

c) $x \geq 1$

3110 Bestäm $f''(4)$ exakt om

b $f(x) = 1/\sqrt{2x+1}$

3110, $f(x) = (2x+1)^{-\frac{1}{2}}$

$$f'(x) = -(2x+1)^{-\frac{3}{2}}$$

$$f''(x) = 3(2x+1)^{-\frac{5}{2}} \Rightarrow$$

$$f''(4) = 3 \cdot 9^{-\frac{5}{2}} = \frac{3}{9 \cdot 9 \cdot \sqrt{9}} = \underline{\underline{\frac{1}{81}}}$$

3111 Låt $f(x) = x \cdot e^x$ och lös ekvationen

a) $f(x) = 0$

b) $f'(x) = 0$

c) $f'(x) + f(x) = 0$

3111, a) $x \cdot e^x = 0 \Rightarrow \underline{x=0}$ (då $e^x \neq 0$)

b) $e^x(1+x) = 0 \Rightarrow \underline{x=-1}$

c) $e^x(1+x) + x e^x = 0$

$$e^x(1+2x) = 0 \Rightarrow \underline{x = -\frac{1}{2}}$$

3112 Undersök om ekvationerna
 $f(x) = 0$ och $f'(x) = 0$
har några reella lösningar då
 $f(x) = 0,5x + 1 + 4,5/x$

$$3112. \quad 0,5x + 1 + \frac{4,5}{x} = 0$$

$$0,5x^2 + x + 4,5 = 0, \quad x \neq 0$$

$0,5(x^2 + 2x + 9) = 0 \Rightarrow f(x) = 0$ saknar reella lösningar.

$$0,5 - \frac{4,5}{x^2} = 0$$

$x^2 = 9$; $x = \pm 3 \Rightarrow f'(x)$ har 2 reella lösningar.

3113 Låt $f(x) = \frac{2 - \cos x}{\sin x}$ och lös ekvationen

a) $f(x) = 0$ b) $f'(x) = 0$

$$3113. \quad a) \quad \frac{2 - \cos x}{\sin x} = 0 \Rightarrow 2 = \cos x > 1 \Rightarrow \text{saknar lösning}$$

$$b) \quad \frac{\sin^2 x - 2\cos x + \cos^2 x}{\sin^2 x} = \frac{1 - 2\cos x}{\sin^2 x}$$

$$\frac{1 - 2\cos x}{\sin^2 x} = 0 \Rightarrow$$

$$x = \arccos\left(\frac{1}{2}\right) = \pm \frac{\pi}{3} + n \cdot 2\pi$$

3114 Lös ekvationen $y' = 0$, om

a) $y = \frac{2x}{1+x^2}$ b) $y = x^2 \cdot \ln x$

$$3114. \quad a) \quad y' = \frac{2(1+x^2) - 4x^2}{(1+x^2)^2} = \frac{2(1-x^2)}{(1+x^2)^2} =$$

$$y' = 0 \Rightarrow \underline{x = \pm 1}$$

$$b) \quad y' = 2x \cdot \ln x + x^2 \cdot \frac{1}{x} = x(2 \ln x + 1)$$

$$y' = 0 \Rightarrow \underline{x = e^{-\frac{1}{2}}}$$

3115 Temperaturen i en bastu är $f(t)$ °C vid tiden t timmar efter uppvärmningens början. Man vet att

$$f'(t) = e^{-t}(200 - 200t)$$

- a) När börjar temperaturen att sjunka?
b) Hur förändras temperaturen då $t = 0,50$?
c) Hur förändras temperaturen då $t = 3,0$?

$$3115. \quad a) \quad \text{Temp. sjunker då } f'(t) < 0 \Rightarrow$$

$$200 - 200t < 0 \Rightarrow t > 1 \text{ timme.}$$

$$b) \quad f'(0,5) = e^{-0,5} (200 - 100) = 100 e^{-0,5} \approx +61 \text{ °C/h.}$$

$$c) \quad f'(3) = e^{-3} (200 - 600) = -400 e^{-3} \approx -20 \text{ °C/h.}$$

3116 Låt $y = \frac{\sin x + \cos x}{\sin x - \cos x}$ och visa att

y' i förenklad form kan skrivas

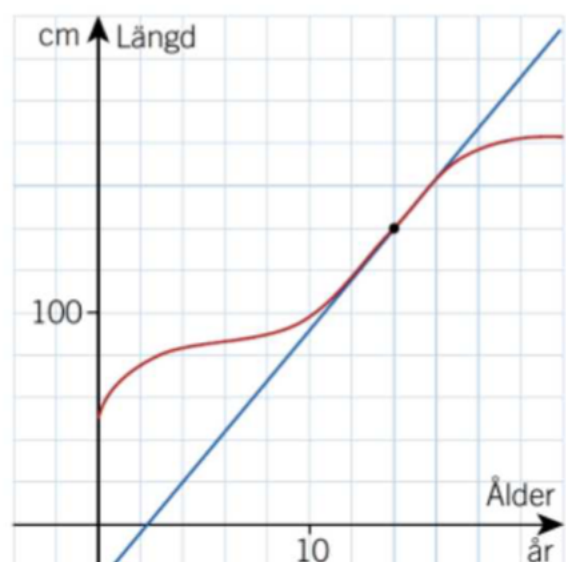
$$y' = -\frac{2}{(\sin x - \cos x)^2}$$

3116,

$$\begin{aligned} y' &= \frac{(\cos x - \sin x)(\sin x - \cos x) - (\cos x + \sin x)(\sin x + \cos x)}{(\sin x - \cos x)^2} = \\ &= \frac{\sin x \cdot \cos x - (\cos^2 x + \sin^2 x) + \sin x \cdot \cos x - (\cos^2 x + \sin^2 x) - 2 \sin x \cos x}{(\sin x - \cos x)^2} \\ &= -\frac{2}{(\sin x - \cos x)^2} \quad \# \end{aligned}$$

3117 Den röda grafen visar Kalles längd som en funktion av åldern.

Bestäm den inritade tangentens lutning samt ange med enhet vad det beräknade värdet betyder i detta sammanhang.



3117,

$$f'(14) \approx \frac{140}{12} = \underline{12 \text{ cm/år}}$$

Kalles längd ökar med
12 cm/år då han är 14 år.

3118 Antag att $g(t)$ är vattenförbrukningen i kubikmeter i en kommun under ett normaldygn och att t är tiden i timmar efter midnatt.

Vad betyder det i detta sammanhang att

a) $g(8) - g(6) = 180$

b) $g(24) = 1000$

c) $\frac{g(12) - g(0)}{12} = 40$

d) $g'(8) = 30$?

3118.

a) Vattenförbrukningen mellan kl. 6 och kl. 8 "är" 180 m^3 .

b) Vattenförbrukningen "är" 1000 m^3 för ett normaldygn.

c) Medelförbrukningen per timme "är" 40 m^3 under de första 12 timmarna.

d) Vattenförbrukningen "är" $30 \text{ m}^3/\text{h}$ kl. 8.

3119 Beräkna $h'(2)$, om

$$f'(2) = 4, g'(2) = -3, f(2) = -1,$$

$$g(2) = 1, f'(1) = 2 \text{ och}$$

a) $h(x) = f(x) + g(x)$

b) $h(x) = f(x) \cdot g(x)$

c) $h(x) = f(x)/g(x)$

d) $h(x) = f(g(x))$

3119.

$$a) h'(x) = f'(x) + g'(x) \Rightarrow h'(2) = 4 - 3 = \underline{1}$$

$$b) h'(x) = f'(x) \cdot g(x) + f(x) \cdot g'(x) \Rightarrow h'(2) = 4 \cdot 1 + (-1) \cdot (-3) = \underline{7}$$

$$c) h'(x) = \frac{f'(x) \cdot g(x) - f(x) \cdot g'(x)}{(g(x))^2} \Rightarrow h'(2) = \frac{4 \cdot 1 - (-1) \cdot (-3)}{1^2} = \underline{1}$$

$$d) h'(x) = f'(g(x)) \cdot g'(x) \Rightarrow h'(2) = 2 \cdot (-3) = \underline{-6}$$

3120 Den sträcka $s(t)$ m som ett föremål rör sig på tiden t s beskrivs av formeln

$$s(t) = t^3 + 3t \quad 0 \leq t \leq 4,0$$

- Bestäm medelhastigheten i tidsintervallet $1,0 \leq t \leq 3,0$.
- Bestäm hastigheten $s'(t)$ då $t = 2,0$.
- Bestäm accelerationen då $t = 2,0$.
- När är hastigheten 45 m/s?
- Bestäm accelerationen vid den tidpunkt då hastigheten är 18 m/s.

3120.

$$a) \quad s_m = \frac{s(3,0) - s(1,0)}{3,0 - 1,0} = \frac{36 - 4}{2} = \underline{16 \text{ m/s}}$$

$$b) \quad s'(t) = 3t^2 + 3 \Rightarrow s'(2) = 3 \cdot 2^2 + 3 = \underline{15 \text{ m/s}}$$

$$c) \quad s''(t) = 6t \Rightarrow s''(2) = 6 \cdot 2 = \underline{12 \text{ m/s}^2}$$

$$d) \quad 3t^2 + 3 = 45 \Rightarrow t = \sqrt{14} \approx \underline{3,7 \text{ s}}$$

$$e) \quad 3t^2 + 3 = 18 \Rightarrow t = \sqrt{5} \Rightarrow s''(\sqrt{5}) \approx \underline{13,4 \text{ m/s}^2}$$

3121 Bestäm derivatan av

$$y = (g(x))^{100} \text{ om } g(x) = 2 + x^4$$

$$3121. \quad y' = 100 \cdot g(x)^{99} \cdot g'(x) =$$

$$= 100 \cdot (2 + x^4)^{99} \cdot 4x^3 = \underline{400x^3(2 + x^4)^{99}}$$

3122 Visa att för funktionen $f(x)$ gäller

$$f'(x) = k \cdot f(x).$$

Vilket värde har k ?

a) $f(x) = 6 \cdot e^{x/2}$ b) $f(x) = 3 \cdot 4^x$

3122. a) $f'(x) = \frac{1}{2} \cdot 6 e^{\frac{x}{2}} = \frac{1}{2} \cdot f(x) \Rightarrow \underline{k = \frac{1}{2}}$

b) $f'(x) = \ln 4 \cdot 3 \cdot 4^x = \ln 4 \cdot f(x) \Rightarrow \underline{k = \ln 4}$

3123 Visa att om $y = \frac{\sin(x^2)}{2x}$ så är

$$y' + y/x = \cos(x^2)$$

3123. $y' = \frac{2x \cos x^2 \cdot 2x - 2 \sin x^2}{4x^2}$

$$y' = \frac{2x \cos x^2 \cdot 2x - 2 \sin x^2}{4x^2} + \frac{\sin x^2}{2x^2}$$

$$= \frac{2x \cos x^2 \cdot 2x - 2 \sin x^2 + 2 \sin x^2}{4x^2} = \cos x^2 = \text{HL} \#$$

3124 Bestäm utan räknare



$$\lim_{h \rightarrow 0} \frac{\cos(\pi/6 + h) - \cos(\pi/6)}{h}$$

$$3124. \quad f(x) = \cos x, \quad x = \frac{\pi}{6}$$

$$f'(x) = -\sin x$$

$$\lim_{h \rightarrow 0} \frac{\cos(\frac{\pi}{6} + h) - \cos(\frac{\pi}{6})}{h} = f'(\frac{\pi}{6}) = -\sin \frac{\pi}{6} = \underline{-\frac{1}{2}}$$

Alt. lösning:

$$\frac{\cos(\frac{\pi}{6} + h) - \cos(\frac{\pi}{6})}{h} = \frac{\cos(\frac{\pi}{6})\cosh - \sin(\frac{\pi}{6})\sinh - \cos(\frac{\pi}{6})}{h} =$$

$$= \frac{\frac{\sqrt{3}}{2}(\cosh - 1) - \frac{1}{2}\sinh}{h} = \frac{\sqrt{3}}{2} \frac{\cosh - 1}{h} - \frac{1}{2} \frac{\sinh}{h} \Rightarrow$$

$$\lim_{h \rightarrow 0} \frac{\cos(\frac{\pi}{6} + h) - \cos(\frac{\pi}{6})}{h} = \frac{\sqrt{3}}{2} \cdot 0 - \frac{1}{2} \cdot 1 = \underline{-\frac{1}{2}}$$

3125 En svängningsrörelse beskrivs av funktionen

$$s = 0,045 \cdot \sin 7,5t$$

där s mäts i m och t i s.

Bestäm de tre första tidpunkterna då $t > 0$ och

a) hastigheten är noll

b) accelerationen är maximal.

$$3125. a) v = s' = k \cdot \cos 7,5t, \quad k > 0$$

$$v = 0 \Rightarrow \cos 7,5t = 0 \Rightarrow 7,5t = \frac{\pi}{2} + n \cdot \pi$$

$$t = \frac{\pi}{15} + n \cdot \frac{2\pi}{15}$$

$$n = 0, 1, 2 \Rightarrow t = \frac{\pi}{15}, \frac{3\pi}{15}, \frac{5\pi}{15} \approx \underline{0,21, 0,63, 1,05 \text{ s}}$$

$$b) s'' = -l \cdot \sin 7,5t, \quad s''' = -m \cdot \cos 7,5t, \quad s^{(4)} = p \cdot \sin 7,5t$$

$$l, m, p > 0$$

$$s''' = 0 \Rightarrow \cos 7,5t = 0 \Rightarrow t = \frac{\pi}{15} + n \cdot \frac{2\pi}{15}$$

$$(n=0) \quad s^{(4)}\left(\frac{\pi}{15}\right) = p \cdot \sin \frac{\pi}{2} = p > 0 \Rightarrow \text{minimum}$$

$$(n=1) \quad s^{(4)}\left(\frac{3\pi}{15}\right) = p \cdot \sin \frac{3\pi}{2} = -p < 0 \Rightarrow \text{maximum} \quad \underline{t_1 = 0,63 \text{ s}}$$

$$(n=2) \quad s^{(4)}\left(\frac{5\pi}{15}\right) = p \cdot \sin \frac{5\pi}{2} = p > 0 \Rightarrow \text{minimum}$$

$$(n=3) \quad s^{(4)}\left(\frac{7\pi}{15}\right) = p \cdot \sin \frac{7\pi}{2} = -p < 0 \Rightarrow \text{maximum} \quad \underline{t_2 = 1,47 \text{ s}}$$

$$(n=4) \quad s^{(4)}\left(\frac{9\pi}{15}\right) = p \cdot \sin \frac{9\pi}{2} = p > 0 \Rightarrow \text{minimum}$$

$$(n=5) \quad s^{(4)}\left(\frac{11\pi}{15}\right) = p \cdot \sin \frac{11\pi}{2} = -p < 0 \Rightarrow \text{maximum} \quad \underline{t_3 = 2,30 \text{ s}}$$

3126 På en obemannad fyr finns en lampa som ger ljusstyrkan L enheter, där $L = 90 \cdot \ln(0,045P)$ om effekten P W varierar i intervallet $200 \leq P \leq 2000$.

Med den använda strömkällan avtar effekten med tiden t i månader enligt ekvationen $P = 2000 - 75t$

Beräkna och tolka $\frac{dL}{dt}$ då strömkällan varit i bruk i 1 år.

$$3126. \quad L = 90 \cdot \ln(0,045(p(t)))$$

$$\frac{dL}{dt} = \frac{90}{p(t)} \cdot p'(t) = \frac{90}{2000-75t} \cdot (-75) = -\frac{6750}{2000-75t}$$

$$\frac{dL}{dt}(12 \text{ mån}) = -\frac{6750}{2000-75 \cdot 12} = -6,1 \text{ L/mån}, \text{ dvs}$$

Ljusstyrkan minskar med 6,1 L enheter per månad.

3127 a) Bestäm numeriskt genom att studera

differenskvoten $\frac{f(x+h) - f(x)}{h}$

ett närmevärde, med tre värdesiffror, till $f'(1)$ om $f(x) = 5^x$

b) Bestäm gränsvärdet $\lim_{h \rightarrow 0} \frac{(3+h)^7 - 3^7}{h}$

genom att tolka det som värdet av en derivata i en punkt.

$$3127. \text{ a) } f'(1) \approx \frac{5^{1+0,0001} - 5^1}{0,0001} \approx \underline{8,05}$$

$$\text{b) } f(x) = x^7, \quad f'(x) = 7x^6$$

$$f'(3) = 7 \cdot 3^6 = \underline{5103}$$

3128 Visa att den centrala differenskvoten

$$\frac{f(x+h) - f(x-h)}{2h}$$

är lika med $f'(x)$ för alla polynom av andra graden.

3128. $f(x) = k \cdot x^2$

$$\lim_{h \rightarrow 0} \frac{f(x+h) - f(x-h)}{2h} = k \cdot \lim_{h \rightarrow 0} \frac{(x+h)^2 - (x-h)^2}{2h}$$

$$= k \cdot \lim_{h \rightarrow 0} \frac{x^2 + 2xh + h^2 - x^2 + 2xh - h^2}{2h} = k \cdot \lim_{h \rightarrow 0} (2x) = k \cdot 2x$$

3129 Visa att $\frac{dP}{dt} = P(1000 - P)$ om

$$P = \frac{1000}{1 + C \cdot e^{-1000t}} \text{ där } C \text{ är en konstant.}$$

Låt $q = 1 + C \cdot e^{-1000t} \Rightarrow$

$$q' = -1000 C e^{-1000t}$$

3129.

$$P = 1000 \cdot (1 + C \cdot e^{-1000t})^{-1} = 1000 \cdot q(t)^{-1}$$

$$VL = \frac{dP}{dt} = -1000 \cdot q(t)^{-2} \cdot q'(t) = \frac{1000^2 C e^{-1000t}}{(1 + C e^{-1000t})^2} =$$

$$= P^2 \cdot C e^{-1000t} = P^2 \cdot \left(\frac{1000}{P} - 1 \right) = P(1000 - P) = HL$$

#

3133 Visa med derivatans definition att

- a) om $f(x) = k$ där k är en konstant så är $f'(x) = 0$.
b) om $f(x) = kx + m$ där k och m är konstanter så är $f'(x) = k$.
c) om $f(x) = 5x^2 + k$ där k är en konstant så är $f'(x) = 10x$.

3133.

$$a) \lim_{h \rightarrow 0} \frac{f(x+h) - f(x)}{h} = \lim_{h \rightarrow 0} \frac{k - k}{h} = 0$$

$$b) \lim_{h \rightarrow 0} \frac{f(x+h) - f(x)}{h} = \lim_{h \rightarrow 0} \frac{k(x+h) + m - (kx + m)}{h} = k$$

$$c) \lim_{h \rightarrow 0} \frac{f(x+h) - f(x)}{h} = \lim_{h \rightarrow 0} \frac{5(x+h)^2 + k - (5x^2 + k)}{h} =$$
$$= \lim_{h \rightarrow 0} \frac{5x^2 + 10xh + h^2 - 5x^2}{h} = \lim_{h \rightarrow 0} (10x + h) = 10x$$

3134 Använd definitionen av derivata för att bestämma $f'(x)$ då

- a) $f(x) = x^2$ b) $f(x) = x^3$

3134.

$$a) \lim_{h \rightarrow 0} \frac{(x+h)^2 - x^2}{h} = \lim_{h \rightarrow 0} \frac{x^2 + 2xh + h^2 - x^2}{h} = \lim_{h \rightarrow 0} (2x + h) = 2x$$

$$b) \lim_{h \rightarrow 0} \frac{(x+h)^3 - x^3}{h} = \lim_{h \rightarrow 0} \frac{x^3 + 3x^2h + 3xh^2 + h^3 - x^3}{h} =$$

$$= \lim_{h \rightarrow 0} (3x^2 + 3xh + h^2) = 3x^2$$

3135 Använd definitionen av derivata för att

b bestämma $f'(x)$ då $f(x) = \frac{2}{x}$

3135,

$$\lim_{h \rightarrow 0} \frac{\frac{2}{x+h} - \frac{2}{x}}{h} = \lim_{h \rightarrow 0} \frac{2x - 2(x+h)}{hx(x+h)} = \lim_{h \rightarrow 0} \frac{-2}{x(x+h)} = -\frac{2}{x^2}$$

3136 Visa med derivatans definition att om $f(x) = ax^2 + bx + c$ där a, b och c är konstanter så är $f'(x) = 2ax + b$.

3136,

$$\begin{aligned} \lim_{h \rightarrow 0} \frac{a(x+h)^2 + b(x+h) + c - (ax^2 + bx + c)}{h} &= \\ = \lim_{h \rightarrow 0} \frac{2axh + ah^2 + bh}{h} &= \lim_{h \rightarrow 0} (2ax + ah + b) = 2ax + b \end{aligned} \quad \#$$

3137 Visa med hjälp av regeln för derivering av en kvot att

$$D\left(\frac{1}{f(x)}\right) = -\frac{f'(x)}{(f(x))^2}$$

3137,

$$D\left(\frac{1}{f(x)}\right) = \frac{0 \cdot f'(x) - 1 \cdot f'(x)}{(f(x))^2} = -\frac{f'(x)}{(f(x))^2} \quad \#$$

3138 Funktionen f är deriverbar och $f(0) = 0$.

För alla x gäller sambandet

$$f(x) + \sin f(x) = x.$$

Visa att $f'(0) = \frac{1}{2}$

3138.

$$f'(x) + f'(x) \cdot \cos f(x) = 1$$

$$f(0) = 0 \Rightarrow 2f'(0) = 1 \Rightarrow f'(0) = \frac{1}{2}$$

3139 a) Visa att om $f(x) = |x|$ så är

$$\lim_{x \rightarrow 0} \frac{f(x) - f(0)}{x - 0} = 1 \text{ då } x > 0$$

$$\lim_{x \rightarrow 0} \frac{f(x) - f(0)}{x - 0} = -1 \text{ då } x < 0$$

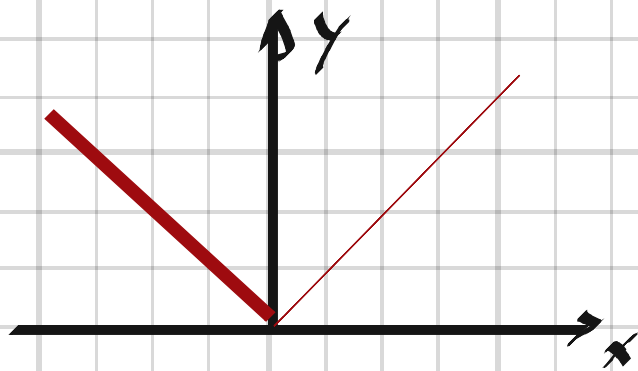
b) Rita grafen till $f(x) = |x|$ och förklara varför funktionen är kontinuerlig men inte deriverbar då $x = 0$.

3139.

a) $\lim_{x \rightarrow 0} \frac{x - 0}{x - 0} = 1, x > 0$

$$\lim_{x \rightarrow 0} \frac{-x - 0}{x - 0} = -1, x < 0$$

b)



I punkten $(0,0)$ kan man inte avgöra kurvans lutning.

3140 Använd derivatans definition och binomialsatsen för att visa att
f(x) = x⁵ ⇒ f'(x) = 5x⁴

3140,

$$f'(x) = \lim_{h \rightarrow 0} \frac{f(x+h) - f(x)}{h} = \lim_{h \rightarrow 0} \frac{(x+h)^5 - x^5}{h} =$$

$$= \lim_{h \rightarrow 0} \frac{\binom{5}{0} x^5 + \binom{5}{1} x^4 h + \binom{5}{2} x^3 h^2 + \binom{5}{3} x^2 h^3 + \binom{5}{4} x h^4 + \binom{5}{5} h^5 - x^5}{h} =$$

$$= \lim_{h \rightarrow 0} (5x^4 + 10x^3 h + 10x^2 h^2 + 5x h^3 + h^4) = 5x^4 \quad \#$$

3141 Visa med derivatans definition att

om $f(x) = x\sqrt{x}$ så är

$$f'(x) = \frac{3\sqrt{x}}{2}$$

Du får använda att $D\sqrt{x} = \frac{1}{2\sqrt{x}}$

3141.

$$\begin{aligned} f(x+h) - f(x) &= (x+h)(x+h)^{1/2} - x \cdot x^{1/2} = \\ &= (x+h)(x+h)^{1/2} - x(x+h)^{1/2} + x(x+h)^{1/2} - x^{3/2} = \\ &= (x+h-x)(x+h)^{1/2} + x(x+h)^{1/2} - x^{3/2} = \\ &= h(x+h)^{1/2} + x((x+h)^{1/2} - x^{1/2}) \Rightarrow \end{aligned}$$

$$f'(x) = \lim_{h \rightarrow 0} \frac{f(x+h) - f(x)}{h} =$$

$$= \lim_{h \rightarrow 0} \frac{h(x+h)^{1/2} + x((x+h)^{1/2} - x^{1/2})}{h} =$$

$$= \lim_{h \rightarrow 0} (x+h)^{1/2} + \lim_{h \rightarrow 0} x \cdot \frac{(x+h)^{1/2} - x^{1/2}}{h} =$$

$$= x^{1/2} + x \cdot D\sqrt{x} = x^{1/2} + x \cdot \frac{1}{2\sqrt{x}} = \frac{2x + x}{2\sqrt{x}} =$$

$$= \frac{3x}{2\sqrt{x}} = \frac{3 \cdot \sqrt{x} \cdot \sqrt{x}}{2\sqrt{x}} = \frac{3\sqrt{x}}{2} \quad \#$$

3143 Bestäm riktningskoefficienten för

- a) tangenten till kurvan $y = x^2 + 3x$ i den punkt på kurvan som har x-koordinaten 1
- b) normalen till kurvan $y = x^2 + 3x$ i origo.

3143. a) $y' = 2x + 3$

$$k = y'(1) = 2 \cdot 1 + 3 = \underline{5}$$

b) $k_n = -\frac{1}{y'(0)} = -\frac{1}{2 \cdot 0 + 3} = \underline{-\frac{1}{3}}$

3144 Bestäm ekvationen för dels tangenten, dels normalen till kurvan

- a) $y = x^3 - x$ i punkten där $x = -1$.
- b) $y = \frac{1}{x}$ i punkten där $x = 2$.
- c) $y = \sqrt{3x + 1}$ i punkten där $x = 5$.

3144. a) $y' = 3x^2 - 1$

$$g - y(-1) = y'(-1)(x - (-1))$$

$$g - 0 = 2(x + 1) \Rightarrow \underline{g = 2x + 2}$$

$$g_n - 0 = -\frac{1}{2}(x + 1) \Rightarrow \underline{g_n = -\frac{1}{2}x - \frac{1}{2}}$$

$$b) \quad y' = -\frac{1}{x^2}$$

$$h - \frac{1}{2} = -\frac{1}{4}(x-2) \Rightarrow h = -\frac{1}{4}x + 1$$

$$h_n - \frac{1}{2} = 4(x-2) \Rightarrow h_n = 4x - \frac{15}{2}$$

$$c) \quad y' = \frac{3}{2\sqrt{3x+1}}$$

$$j - 4 = \frac{3}{8}(x-5) \Rightarrow j = \frac{3}{8}x + \frac{17}{8}$$

$$j_n - 4 = -\frac{8}{3}(x-5) \Rightarrow j_n = -\frac{8}{3}x + \frac{52}{3}$$

3145 a) Bestäm en linjär approximation till

$$f(x) = \frac{2}{x} + x \text{ kring } x = 1.$$

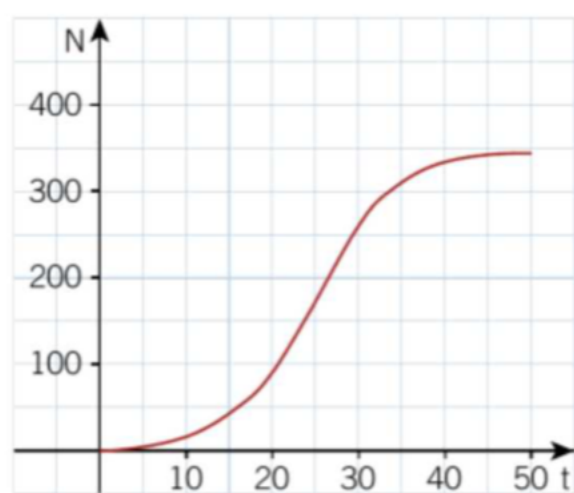
b) Bestäm felet om $f(1,1)$ bestäms med hjälp av approximationen.

$$3145 \quad a) \quad f'(x) = -\frac{2}{x^2} + 1 \Rightarrow f'(1) = -2 + 1 = -1$$

$$g - f(1) = f'(1)(x-1) \Rightarrow g = -x + 4$$

$$b) \quad \text{felet} = g(1,1) - f(1,1) = 2,9 - 2,918 = -0,018$$

3146 Diagrammet visar en matematisk modell för antalet bananflugor N som funktion av tiden t dygn.



- a) När är tillväxthastigheten störst och hur stor är den då?
b) Bestäm en linjär approximation till $N(t)$ kring den tidpunkt då tillväxthastigheten är som störst.

3146.

a) Vid $t \approx 25$ dygn då tillväxthastigheten \approx
 $\approx \frac{170}{10} = 17$ bananflugor/dygn.

b) $N(25) \approx 175$

$$N - 175 = 17(t - 25) \Rightarrow \underline{N = 17t - 250}$$

3147 Linjen $y = 2x - 2$ är tangent till kurvan $y = x^2 + ax + b$ i punkten $(3, 4)$.
b) Finn talen a och b .

$$y'_1 = 2$$

3147, $y' = 2x + a$

$$y'_1(3) = 2 \Rightarrow 2 = 2 \cdot 3 + a \Rightarrow \underline{a = -4}$$

$$y_1(3) = 4 \Rightarrow 4 = 3^2 - 4 \cdot 3 + b \Rightarrow \underline{b = 7}$$

3148 a) Bestäm en linjär approximation till funktionen $f(x) = e^{2x} \cdot \sin 3x$ kring $x = 0$.
b) Bestäm, utan räknare, ett närmevärde till $f(0,05)$.

3148,

$$a) f'(x) = 2e^{2x} \cdot \sin 3x + e^{2x} \cdot 3 \cos 3x = e^{2x} (2 \sin 3x + 3 \cos 3x)$$

$$f'(0) = 3 ; f(0) = 0$$

$$g - f(0) = f'(0)(x - 0) \Rightarrow$$

$$\underline{g = 3x}$$

$$b) f(0,05) \approx g(0,05) = 3 \cdot 0,05 = \underline{0,15}$$

3149 Ekvationen $\sqrt{1+x} = 0,5 - \sin x$
har en lösning nära $x = 0$.

a) Bestäm, utan räknare, ett närmevärde
till lösningen med hjälp av två linjära
approximationer.

b) Bestäm lösningen grafiskt med hjälp av
din räknare.

$$3149, \quad f(x) = \sqrt{1+x} \quad ; \quad g(x) = 0,5 - \sin x$$

$$a) \quad f'(x) = \frac{1}{2\sqrt{1+x}} \quad ; \quad g'(x) = -\cos x$$

$$f'(0) = 0,5 \quad ; \quad g'(0) = -1$$

$$f(0) = 1 \quad ; \quad g(0) = 0,5$$

$$0,5 \cdot (x-0) + 1 \approx -1(x-0) + 0,5$$

$$1,5x \approx -0,5$$

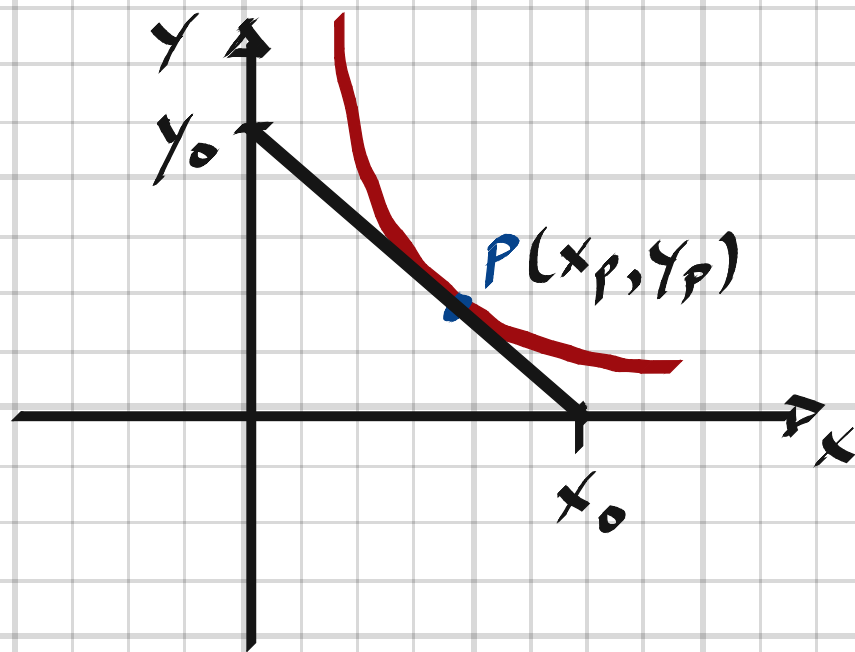
$$x \approx -\frac{1}{3} = -0,333$$

$$b) \quad \underline{\text{Geogebra ger } x \approx -0,326}$$

3150 I en punkt P på kurvan $y = 4/x$ i första kvadranten dras tangenten. Denna begränsar tillsammans med koordinat-axlarna en triangel.

Ⓒ

Visa att arean av denna triangel är oberoende av valet av P .



3150.

$$y = \frac{4}{x}$$

$$y' = -\frac{4}{x^2}$$

$$f - y(x_p) = y'(x_p)(x - x_p) \Rightarrow$$

$$f(x) = -\frac{4}{x_p^2}x + \frac{4}{x_p} + \frac{4}{x_p} = -\frac{4}{x_p^2}x + \frac{8}{x_p}$$

$$i) -\frac{4}{x_p^2} \cdot x_0 + \frac{8}{x_p} = 0 \Rightarrow x_0 = 2x_p$$

$$ii) -\frac{4}{x_p^2} \cdot 0 + \frac{8}{x_p} = y_0 \Rightarrow y_0 = \frac{8}{x_p}$$

$$\text{Triangelarean, } T = \frac{x_0 \cdot y_0}{2} = \frac{2x_p \cdot \frac{8}{x_p}}{2} = 8 \text{ a.e.}$$

#

3151 Undersök hur man kan göra en kvadratisk approximation $y = g(x)$ till $f(x) = e^x$ kring $x = 0$.

$$3151. \quad f(x) = e^x; \quad f'(x) = e^x; \quad f''(x) = e^x$$

$$g(x) = ax^2 + bx + c$$

$$g'(x) = 2ax + b$$

$$g''(x) = 2a$$

$$g''(0) = f''(0) = 1 \quad \Rightarrow \quad 2a = 1 \quad \Rightarrow \quad a = \frac{1}{2}$$

$$g'(0) = f'(0) = 1 \quad \Rightarrow \quad b = 1$$

$$g(0) = f(0) = 1 \quad \Rightarrow \quad c = 1$$

$$\Rightarrow \quad \underline{g(x) = \frac{1}{2}x^2 + x + 1}$$

3152 a) Bestäm en linjär approximation till $f(x) = e^{ax}$ kring $x = 0$.

b) Hastigheten v hos ett fritt fallande föremål med massan m ökar enligt ekvationen

$$v(t) = \frac{mg}{k} (1 - e^{-(k/m)t})$$

där t är tiden, k en konstant som beror av luftmotståndet och g är tyngdaccelerationen.

Visa med hjälp av approximationen i a) att $v(t) \approx gt$ för små värden på t .

$$3152. \quad a) \quad f(x) = e^{ax}; \quad f'(x) = ae^{ax}$$

$$g - f(0) = f'(0)(x - 0)$$

$$g - 1 = a(x - 0) \Rightarrow \underline{g = ax + 1}$$

$$b) \quad \text{små } t \Rightarrow e^{-\frac{k}{m}t} \approx -\frac{k}{m}t + 1 \Rightarrow$$

$$v(t) \approx \frac{mg}{k} \left(1 + \frac{k}{m}t - 1\right) = gt \quad \#$$

3155 Låt A vara arean av en cirkel med radien r .

a) Bestäm ett samband mellan

$$\frac{dA}{dt} \text{ och } \frac{dr}{dt}$$

3155. $A = \pi r^2$

$$\frac{dA}{dt} = \frac{dA}{dr} \cdot \frac{dr}{dt} = \underline{2\pi r \cdot \frac{dr}{dt}}$$

3156 Låt en kub med kantlängden a cm ha volymen V cm³.

a) Bestäm ett samband mellan

$$\frac{dV}{dt} \text{ och } \frac{da}{dt}$$

b) Anta att kubens volym ökar med 15 cm³/s. Hur snabbt ökar kubens kantlängd då $a = 25$?

c) Anta att kubens volym minskar med 12 cm³/s. Hur snabbt minskar kubens kantlängd då $a = 18$?

3156. a) $V = a^3$

$$\frac{dV}{dt} = \frac{dV}{da} \cdot \frac{da}{dt} = 3a^2 \cdot \frac{da}{dt}$$

b) $\frac{da}{dt} = \frac{dV}{dt} \cdot \frac{1}{3a^2} = 15 \cdot \frac{1}{3 \cdot 25^2} = 0.008 \text{ cm/s}$

Kantlängden ökar med 80 $\mu\text{m/s}$

c) $\frac{da}{dt} = -12 \cdot \frac{1}{3 \cdot 18^2} = -0.012 \text{ cm/s}$

Kantlängden minskar med 120 $\mu\text{m/s}$

3157 En sten kastas i en damm. En cirkulär vågfront sprider sig då över dammen på ett sådant sätt att dess radie ökar med hastigheten 0,90 m/s i det ögonblick radien är 1,20 m.
Hur snabbt ökar arean av det cirkulära området som omsluts av vågen?

3157. $A = \pi r^2$

$$\frac{dA}{dt} = \frac{dA}{dr} \cdot \frac{dr}{dt} = 2\pi r \cdot \frac{dr}{dt} = 2\pi \cdot 1,2 \cdot 0,9 = \underline{6,8 \text{ m}^2/\text{s}}$$

3158 Kantlängden i en kub minskar med hastigheten 10 cm/min.
a) Hur snabbt minskar kubens volym, då kantlängden är 20 cm?
b) Hur snabbt minskar kubens totala begränsningsarea då kantlängden är 20 cm?

3158. a) $V = a^3$

$$\frac{dV}{dt} = \frac{dV}{da} \cdot \frac{da}{dt} = 3a^2 \cdot \frac{da}{dt} = 3 \cdot 20^2 \cdot (-10) = -12000 \text{ cm}^3/\text{min}$$

$$\Rightarrow \underline{\text{Minskningen} = 12000 \text{ cm}^3/\text{min}}$$

b) $A = 6a^2$

$$\frac{dA}{dt} = \frac{dA}{da} \cdot \frac{da}{dt} = 12a \cdot \frac{da}{dt} = 12 \cdot 20 \cdot (-10) = -2400 \text{ cm}^2/\text{min}$$

$$\Rightarrow \underline{\text{Minskningen} = 2400 \text{ cm}^2/\text{min}}$$

3159 En cylindrisk vattentank har höjden 5,0 m och radien 2,0 m. Vatten pumpas in i tanken med hastigheten 75 liter/min. Hur snabbt stiger vattenytan?

$$V = h \cdot \pi r^2$$

$$\frac{dV}{dh} = \pi r^2 \Rightarrow \frac{dh}{dV} = \frac{1}{\pi r^2}$$

3159,

$$\frac{dh}{dt} = \frac{dh}{dV} \cdot \frac{dV}{dt} = \frac{1}{\pi r^2} \cdot \frac{dV}{dt} = \frac{1}{\pi \cdot 2^2} \cdot 75 \cdot 10^{-3} = \underline{6 \text{ mm/min}}$$

3160 Låt V vara volymen av en kon med basradien r och höjden $6r$.

Bestäm ett samband mellan

$$\frac{dV}{dt} \text{ och } \frac{dr}{dt}$$

3160,

$$V = \frac{\pi r^2 \cdot 6r}{3} = 2\pi r^3$$

$$\frac{dV}{dt} = \frac{dV}{dr} \cdot \frac{dr}{dt} = 6\pi r^2 \cdot \frac{dr}{dt}$$

3161 Radien i en sfärisk ballong ökar med hastigheten 0,30 cm/min. I ett visst ögonblick är radien 4,0 cm.

Hur snabbt ändras då sfärens

a) volym b) area?

3161,

$$a) \quad V = \frac{4}{3}\pi r^3, \quad A = 4\pi r^2$$

$$\frac{dV}{dt} = \frac{dV}{dr} \cdot \frac{dr}{dt} = 4\pi r^2 \cdot \frac{dr}{dt} = 4\pi \cdot 4^2 \cdot 0,3 = \underline{60,3 \text{ cm}^3/\text{min}}$$

$$b) \quad \frac{dA}{dt} = \frac{dA}{dr} \cdot \frac{dr}{dt} = 8\pi r \cdot \frac{dr}{dt} = 8\pi \cdot 4 \cdot 0,3 = \underline{30,2 \text{ cm}^2/\text{min}}$$

3162 En sfärisk snöboll smälter på ett sådant sätt att volymen minskar med hastigheten $1,5 \text{ cm}^3/\text{min}$.
Hur snabbt minskar diametern i det ögonblick då radien är $6,0 \text{ cm}$?

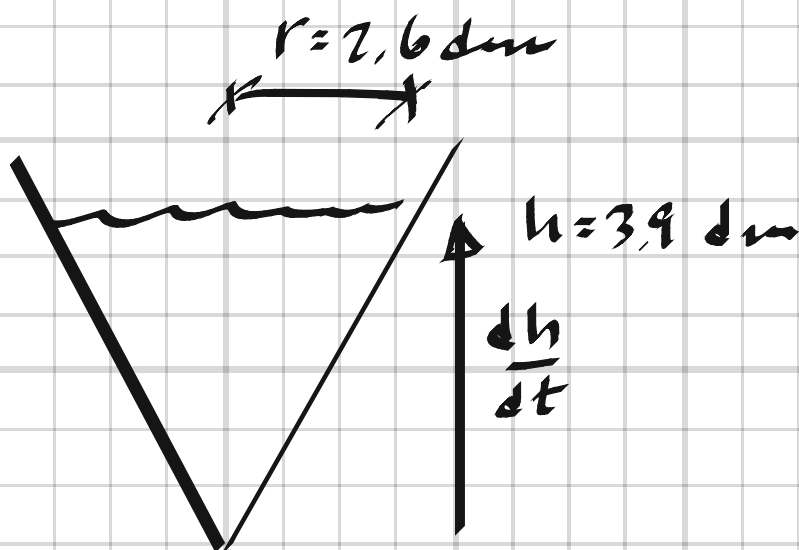
$$3162, \quad V = \frac{4}{3} \pi r^3 = \frac{4}{3} \pi \cdot \left(\frac{D}{2}\right)^3 = \frac{1}{6} \pi D^3$$

$$\frac{dV}{dD} = \frac{1}{2} \pi D^2$$

$$\frac{dD}{dt} = \frac{dD}{dV} \cdot \frac{dV}{dt} = \frac{2}{\pi D^2} \cdot \frac{dV}{dt} = \frac{2}{\pi \cdot 12^2} \cdot (-1,5) = -6,6 \cdot 10^{-3} \text{ cm/min}$$

Diametern minskar med $6,6 \cdot 10^{-3} \text{ cm/min}$

3163 En vattentank har formen av en kon med spetsen nedåt och basytan horisontell. Tankens basradie är $2,6 \text{ dm}$ och höjden $5,2 \text{ dm}$. Vatten pumpas in i tanken med hastigheten $2,6 \text{ dm}^3/\text{min}$.
Hur snabbt stiger vattennivån när vattendjupet är $3,9 \text{ dm}$?



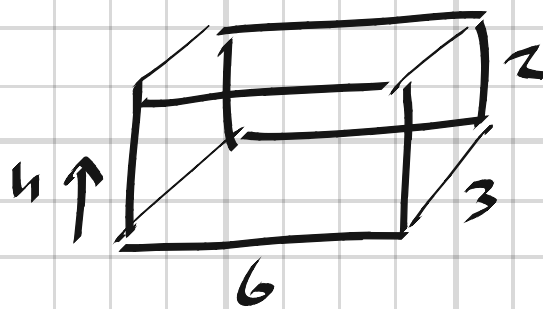
$$3163, \quad V = \frac{\pi r^2 \cdot h}{3}$$

$$r = \frac{2,6}{5,2} \cdot h = \frac{h}{2} \Rightarrow V(h) = \frac{\pi h^3}{12}$$

$$\frac{dV}{dh} = \frac{\pi h^2}{4}$$

$$\frac{dh}{dt} = \frac{dh}{dV} \cdot \frac{dV}{dt} = \frac{4}{\pi h^2} \cdot \frac{dV}{dt} = \frac{4}{\pi \cdot 3,9^2} \cdot 2,6 = \underline{0,22 \text{ dm/min}}$$

3164 En vattenbehållare har formen av ett rätblock där basytan har måtten $3,0 \text{ dm} \times 6,0 \text{ dm}$ och höjden är $2,0 \text{ dm}$. Vatten läcker ut ur tanken med hastigheten $0,40 \text{ liter/min}$. Hur snabbt sjunker vattennivån då vattendjupet är $1,0 \text{ dm}$?



3164,

$$V = 18h$$

$$\frac{dV}{dh} = 18 \text{ liter/dm}$$

$$\frac{dh}{dt} = \frac{dh}{dV} \cdot \frac{dV}{dt} = \frac{1}{18} \cdot (-0,4) = -0,022 \text{ dm/min}$$

Vattennivån sjunker 2,2 mm/min

3165 I en kaffemaskin rinner kaffe från det koniska filtret ner i en cylindrisk kaffebehållare med hastigheten $150 \text{ cm}^3/\text{min}$.

b Hur snabbt ökar nivån i kaffebehållaren och hur snabbt sjunker nivån i filtret när kaffet i filtret har höjden $12,5 \text{ cm}$?



3165,

Filtret: $V = \frac{\pi r^2 h}{3}$

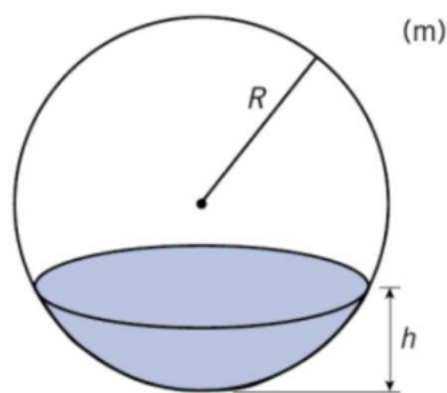
$$r = \frac{h}{2} \Rightarrow V = \frac{\pi h^3}{12} \Rightarrow \frac{dV}{dh} = \frac{\pi h^2}{4}$$

$$\frac{dh}{dt} = \frac{dh}{dV} \cdot \frac{dV}{dt} = \frac{4}{\pi h^2} \cdot \frac{dV}{dt} = \frac{4}{\pi \cdot 12,5^2} \cdot (-150) = \underline{\underline{-1,22 \text{ cm/min}}}$$

Behållaren: $V = \pi r^2 h \Rightarrow \frac{dV}{dh} = \pi r^2$

$$\frac{dh}{dt} = \frac{dh}{dV} \cdot \frac{dV}{dt} = \frac{1}{\pi r^2} \cdot \frac{dV}{dt} = \frac{1}{\pi \cdot 7,5^2} \cdot 150 = \underline{\underline{0,85 \text{ cm/min}}}$$

3166 En sfärisk oljetank med radien R m är fylld med olja till en höjd av h m (se figur).



Olja pumpas in i tanken med hastigheten 25 l/min.

Med vilken hastighet stiger oljenivån då $h = 0,5$ om $R = 5,0$?

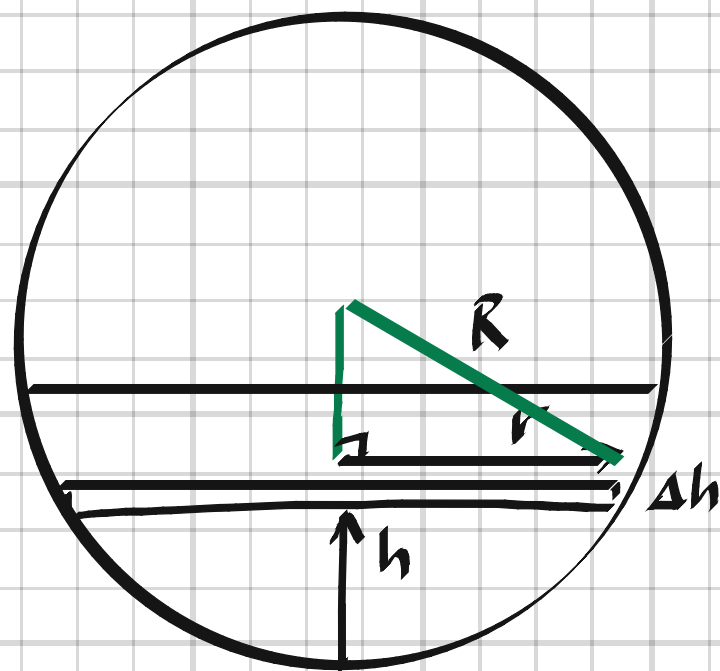
Bestäm detta genom

a) att betrakta en cylindrisk skiva med höjden Δh och volymen ΔV .

b) att använda formeln

$$V = \frac{1}{3} \pi h^2 (3R - h)$$

för oljans volym V m³.



3166. a) $r^2 = R^2 - (R-h)^2 = 2Rh - h^2$

$$\Delta V = \pi \cdot r^2 \cdot \Delta h = \pi (2Rh - h^2) \cdot \Delta h$$

$$\frac{dh}{dt} = \lim_{\Delta t \rightarrow 0} \frac{\Delta h}{\Delta t} = \lim_{\Delta t \rightarrow 0} \frac{\Delta h}{\Delta V} \cdot \frac{\Delta V}{\Delta t} = \frac{1}{\pi (2Rh - h^2)} \cdot \frac{dV}{dt} =$$

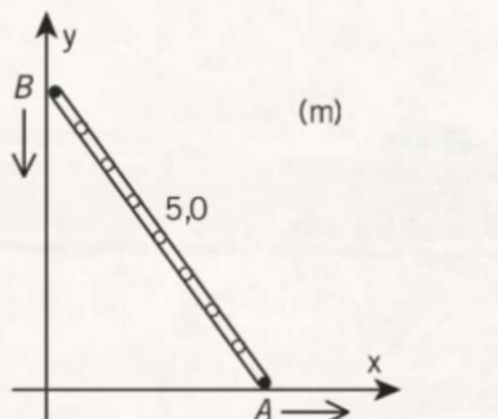
$$= \frac{1}{\pi (2 \cdot 5 \cdot 0,5 - 0,5^2)} \cdot 25 \cdot 10^{-3} \approx \underline{1,7 \text{ mm/min}}$$

b) $V = \frac{1}{3} \pi h^2 (3R - h) \Rightarrow \frac{dV}{dh} = 2\pi R h - \pi h^2 = \pi (2Rh - h^2)$

$$\frac{dh}{dt} = \frac{dh}{dV} \cdot \frac{dV}{dt} = \frac{1}{\pi (2Rh - h^2)} \cdot \frac{dV}{dt} = \underline{1,7 \text{ mm/min}}$$

En steg AB som är 5,0 m lång står lutad mot en vägg som figuren visar. Fotpunkten A glider horisontellt med hastigheten 0,60 m/s.

Hur snabbt rör sig stegens topp B nedåt när A är 3,0 m från väggen?



3167.

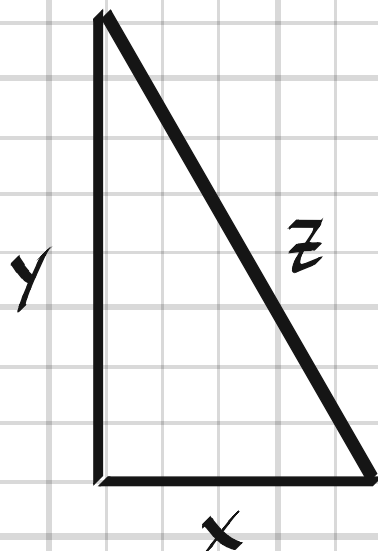
$$z^2 = x^2 + y^2$$

$$\frac{d}{dt}(z^2) = \frac{d}{dt}(x^2 + y^2)$$

$$0 = 2x \cdot \frac{dx}{dt} + 2y \cdot \frac{dy}{dt} \Rightarrow$$

$$\frac{dy}{dt} = -\frac{x}{y} \cdot \frac{dx}{dt} = -\frac{x}{\sqrt{z^2 - x^2}} \cdot \frac{dx}{dt}$$

$$= -\frac{3}{\sqrt{5^2 - 3^2}} \cdot 0,6 = -0,45 \text{ m/s}$$

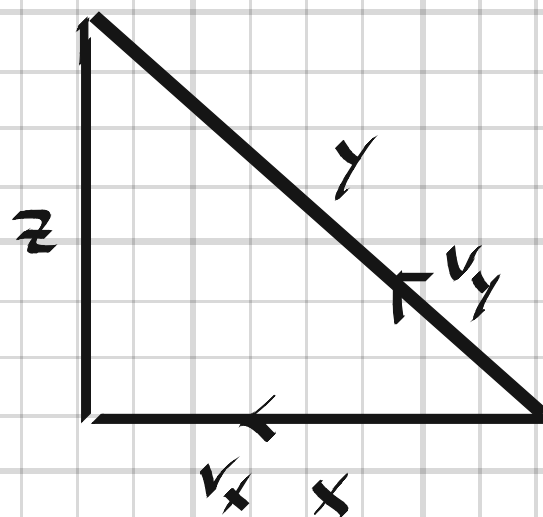


3168



En fiskare befinner sig på en klippa 25 m över vattennivån. Han vevar in fisken med hastigheten 1,5 m/s.

Hur snabbt rör sig fisken då linan är 40 m?



$$3168. \quad y^2 = x^2 + z^2 \quad \Rightarrow$$

$$2y \cdot \frac{dy}{dt} = 2x \frac{dx}{dt} \quad (z^2 \text{ konstant})$$

$$\frac{dx}{dt} = \frac{y}{x} \cdot \frac{dy}{dt} = \frac{y}{\sqrt{y^2 - z^2}} \cdot \frac{dy}{dt} = \frac{40}{\sqrt{40^2 - 25^2}} \cdot 1,5 = \underline{1,9 \text{ m/s}}$$

Alt. lösning Geogebra:

g(x) = 1.5x

f(x) = g(x) cos(sin⁻¹($\frac{25}{g(x)}$))

→ 1.5x cos(sin⁻¹($\frac{25}{1.5x}$))

a = f'($\frac{40}{1.5}$)

→ 1.922

+ Input...

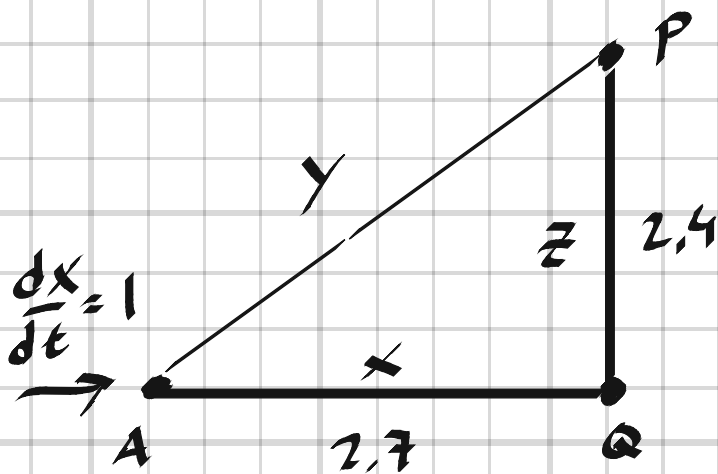
x = tiden

g(x) = längd i y-led
(hypotenusan)

f(x) = längd i x-led

$$\frac{40}{1.5} = \text{tiden vid 40 m}$$

3169 En apparat A rör sig på ett löpande band med hastigheten 1,0 m/s. En robotarm P befinner sig 2,4 m rakt över punkten Q på bandet.
Hur ändras avståndet PA då $AQ = 2,7$ m?



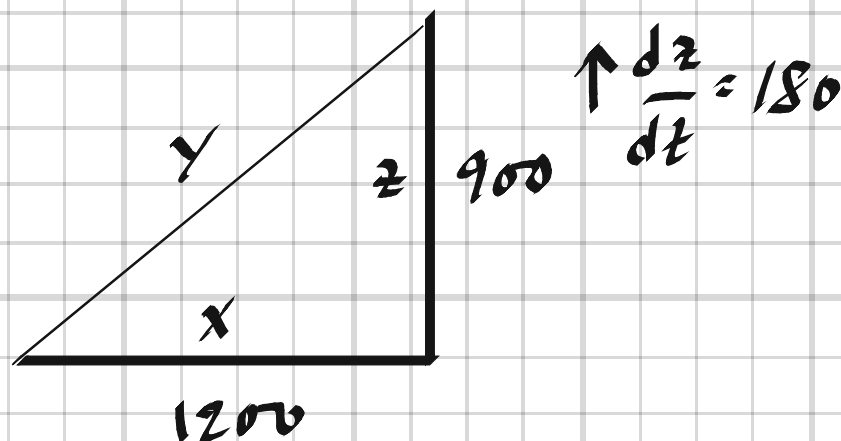
3169,

$$y^2 = x^2 + z^2 \Rightarrow$$

$$2y \frac{dy}{dt} = 2x \frac{dx}{dt}$$

$$\frac{dy}{dt} = \frac{x}{y} \cdot \frac{dx}{dt} = \frac{x}{\sqrt{x^2 + z^2}} \cdot \frac{dx}{dt} = \frac{2,7}{\sqrt{2,7^2 + 2,4^2}} \cdot 1 = \underline{0,75 \text{ m/s}}$$

3170 En person ser en raketuppskjutning på avståndet 1200 m. När raketten når höjden 900 m är dess hastighet 180 m/s.
Hur snabbt ändras i detta ögonblick avståndet mellan iakttagaren och raketten?



$$y^2 = x^2 + z^2$$

$$2y \cdot \frac{dy}{dt} = 2z \cdot \frac{dz}{dt}$$

$$\frac{dy}{dt} = \frac{z}{y} \cdot \frac{dz}{dt} = \frac{z}{\sqrt{x^2 + z^2}} \cdot \frac{dz}{dt} = \frac{900}{\sqrt{1200^2 + 900^2}} \cdot 180 = \underline{108 \text{ m/s}}$$

3171 Om två resistanser på x ohm och z ohm parallellkopplas, kan ersättningsresistansen y ohm beräknas med formeln

$$\frac{1}{y} = \frac{1}{x} + \frac{1}{z}$$

Om vi parallellkopplar två resistanser och vet att resistansen för den ena ökar med 4,0 ohm/min och för den andra minskar med 6,0 ohm/min, hur förändras ersättningsresistansen då $x = z = 40$?

$$y = \left(\frac{1}{x} + \frac{1}{z} \right)^{-1} = \left(\frac{x+z}{xz} \right)^{-1}$$

$$y = \frac{xz}{x+z}$$

$$3171, \quad \frac{1}{y} = \frac{1}{x} + \frac{1}{z} \quad \Rightarrow$$

$$-\frac{1}{y^2} \cdot \frac{dy}{dt} = -\frac{1}{x^2} \cdot \frac{dx}{dt} - \frac{1}{z^2} \cdot \frac{dz}{dt}$$

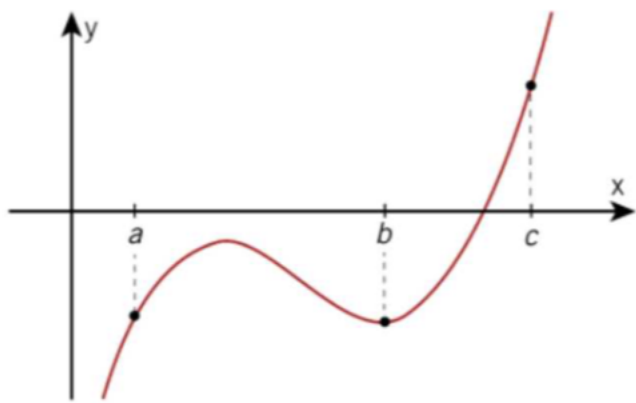
$$\frac{dy}{dt} = y^2 \left(\frac{1}{x^2} \cdot \frac{dx}{dt} + \frac{1}{z^2} \cdot \frac{dz}{dt} \right) = \left(\frac{xz}{x+z} \right)^2 \left(\frac{1}{x^2} \cdot \frac{dx}{dt} + \frac{1}{z^2} \cdot \frac{dz}{dt} \right) =$$

$$= \left(\frac{40^2}{40+40} \right)^2 \cdot \left(\frac{1}{40^2} \cdot 4 - \frac{1}{40^2} \cdot 6 \right) = 400 \cdot \frac{-2}{1600} = -\frac{2}{4} = -0,5 \text{ } \Omega/\text{min}$$

Ersättningsresistansen minskar med 0,5 Ω /min

3204 Figuren visar grafen till funktionen

① $y = f(x)$



Är det sant att

a) både $f'(a)$ och $f'(c)$ är positiva

b) $f'(b) = 0$ och $f''(b) > 0$

Motivera dina svar.

3204.

a) Ja, "bägge punkterna"
"ligger på en växande
funktionsdel."

b) Ja, punkten ligger på
ett minimum.

3205 För funktionen $y = f(x)$ vet vi att

$$f(2) = 5 \quad f'(2) = 0 \quad f''(2) = -3.$$

Är $f(2)$ ett maximi- eller minimivärde?

Motivera ditt svar.

3205. " $f(2)$ är ett maxvärde, då förstaderivatan
är noll och andraderivatan negativ.

3206 För en tredjegradsfunktion som är
definierad för alla x gäller

x		0		3	
y'	+	0	-	0	+

a) För vilka x är funktionen avtagande?

b) För vilka x är funktionen växande?

c) Vilket x -värde ger ett minimum?

d) Vilket x -värde ger ett maximum?

3206. a) $0 \leq x \leq 3$

c) $x = 3$

b) $x \leq 0, x \geq 3$

d) $x = 0$

3207 För $y = g(x)$ vet vi att $g'(x) = x(x-3)$.

a) Är $g(0)$ ett maximi- eller minimivärde?

b) Är $g(3)$ ett maximi- eller minimivärde?

3207, $g''(x) = 2x - 3$

a) $g''(0) = 2 \cdot 0 - 3 = -3 < 0 \Rightarrow g(0) = \text{maxivärde}$

b) $g''(3) = 2 \cdot 3 - 3 = 3 > 0 \Rightarrow g(3) = \text{minivärde}$

3208 Var är funktionen $f(x) = x^3 + 2x^2 - 4x + 1$

a) växande

b) avtagande?

3208, $f'(x) = 3x^2 + 4x - 4$

$$f'(x) = 0 \Rightarrow 3\left(x^2 + \frac{4}{3}x - \frac{4}{3}\right) = 3(x+2)\left(x - \frac{2}{3}\right) = 0$$

$$\Rightarrow \text{Extremvärden då } x_1 = -2, x_2 = \frac{2}{3}$$

x	-2	$\frac{2}{3}$				
$f'(x)$	$+$	0	$-$	0	$+$	$- \cdot - = +$
$f(x)$						$+ \cdot - = -$
						$+ \cdot + = +$

\nearrow max \searrow min \nearrow

a) $x \leq -2, x \geq \frac{2}{3}$

b) $-2 \leq x \leq \frac{2}{3}$

3209 Ge ett exempel på en funktion som för $x > 0$ har positiv andraderivata men är avtagande.

3209. ex. v. $f(x) = e^{-x}$

3210 Bestäm med hjälp av andraderivatan eventuella extremvärden (max och min) till funktionen $y = -x^3 + 12x$.

3210. $y' = -3x^2 + 12$
 $y'' = -6x$

$y' = 0 \Rightarrow$ Extremvärden då $x = \pm 2$

$y''(-2) > 0 \Rightarrow$ minvärde $y(-2) = -(-2)^3 + 12 \cdot (-2) = -16$

$y''(2) < 0 \Rightarrow$ maxvärde $y(2) = -2^3 + 12 \cdot 2 = 16$

3211 För vilket värde på x har funktionen

$$y = 5x^3 - 4x^2 - 12x - 25$$

ett lokalt minimum?

$$\begin{aligned} 3211, \quad y' &= 15x^2 - 8x - 12 = 15\left(x^2 - \frac{8}{15}x - \frac{12}{15}\right) = \\ &= 15\left(x + \frac{2}{3}\right)\left(x - \frac{6}{5}\right) \end{aligned}$$

$$y' = 0 \Rightarrow \text{Extremvärden då } x_1 = -\frac{2}{3}, x_2 = \frac{6}{5}$$

$$y'' = 30x - 8$$

$$y''(x_1) = y''\left(-\frac{2}{3}\right) < 0 \Rightarrow \text{maximum}$$

$$y''(x_2) = y''\left(\frac{6}{5}\right) > 0 \Rightarrow \text{minimum} \Rightarrow$$

Funktionen har minimum för $x = \frac{6}{5}$

3212 Funktionen f definieras genom

$$f(x) = x^3 + 6x^2$$

a) Bestäm lokala maximi- och minimipunkter.

b) Bestäm största och minsta värde
i intervallet $-2 \leq x \leq 2$.

$$3212. \quad f'(x) = 3x^2 + 12x = 3x(x+4)$$

$$f'(x) = 0 \Rightarrow \text{Extremvärden då } x_1 = 0, x_2 = -4$$

$$a) \quad f''(x) = 6x + 12 = 6(x+2)$$

$$f''(x_1) = f''(0) > 0 \Rightarrow \text{Minpunkt i } (0, f(0)) = (0, 0)$$

$$f''(x_2) = f''(-4) < 0 \Rightarrow \text{Maxpunkt i } (-4, f(-4)) = (-4, 32)$$

$$b) \quad f(-2) = (-2)^3 + 6 \cdot (-2)^2 = -8 + 24 = 16$$

$$f(2) = 2^3 + 6 \cdot 2^2 = 8 + 24 = 32$$

$$-2 \leq x \leq 2 \Rightarrow \begin{cases} \text{Största värde} = 32 \text{ då } x = 2 \\ \text{Minsta värde} = 0 \text{ då } x = 0 \end{cases}$$

3213 Funktionen $f(x) = x^4 - 8x^2 + 8$ är definierad för $-1 \leq x \leq 3$.

Rita funktionskurvan och ange funktionens största och minsta värde i intervallet.

$$3213. \quad f'(x) = 4x^3 - 16x = 4x(x^2 - 4)$$

$$f'(x) = 0 \Rightarrow \text{Extremvärden för } x_1 = -2, x_2 = 0, x_3 = 2$$

$$f''(x) = 12x^2 - 16$$

$$f''(x_1) = f''(-2) > 0 \Rightarrow \text{Minvärde } f(-2) = (-2)^4 - 8(-2)^2 + 8 = -8$$

$$f''(x_2) = f''(0) < 0 \Rightarrow \text{Maxvärde } f(0) = 8$$

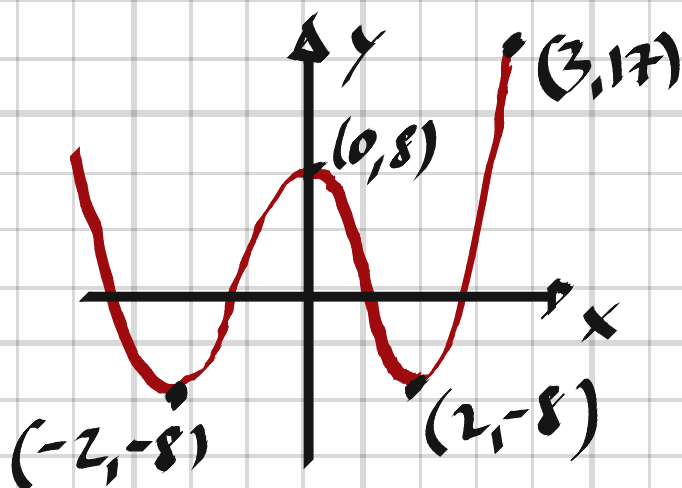
$$f''(x_3) = f''(2) > 0 \Rightarrow \text{Minvärde } f(2) = 2^4 - 8 \cdot 2^2 + 8 = -8$$

Ändpunkter:

$$f''(-1) < 0 \Rightarrow \text{Maxvärde } f(-1) = (-1)^4 - 8 \cdot (-1)^2 + 8 = 1$$

$$f''(3) > 0 \Rightarrow \text{Minvärde } f(3) = 3^4 - 8 \cdot 3^2 + 8 = 17$$

$$-1 \leq x \leq 3 \Rightarrow \begin{cases} \text{Största värde} = 17 & \text{då } x = 3 \\ \text{Minsta värde} = -8 & \text{då } x = 2 \end{cases}$$



3214 Rita kurvan $y = x^4 - 2x^2 + 2$ genom att använda derivata.

$$3214. \quad y' = 4x^3 - 4x = 4x(x^2 - 1)$$

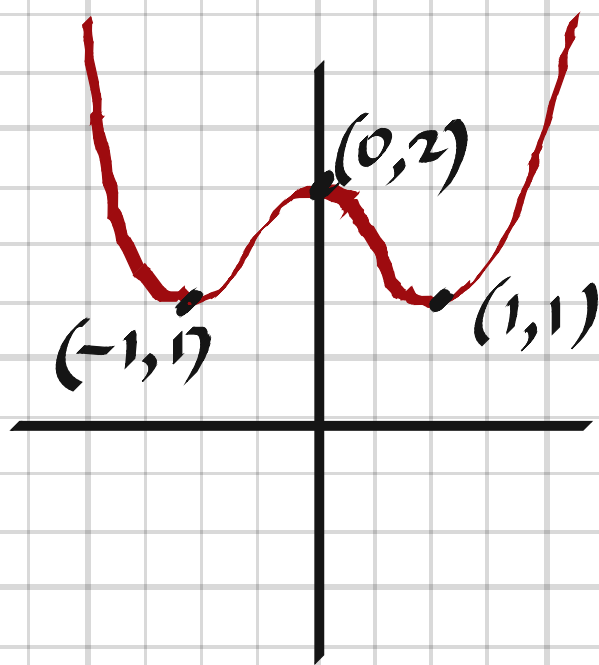
$$y' = 0 \Rightarrow x_1 = -1, x_2 = 0, x_3 = 1$$

$$y'' = 12x^2 - 4 = 4(3x^2 - 1)$$

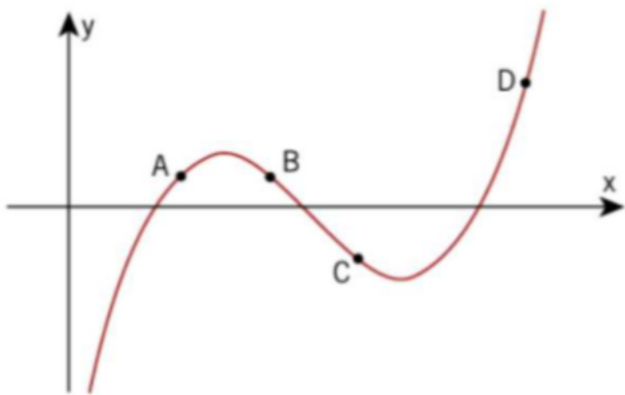
$$y''(x_1) = y''(-1) > 0 \Rightarrow \text{Minpunkt i } (-1, y(-1)) = (-1, 1)$$

$$y''(x_2) = y''(0) < 0 \Rightarrow \text{Maxpunkt i } (0, y(0)) = (0, 2)$$

$$y''(x_3) = y''(1) > 0 \Rightarrow \text{Minpunkt i } (1, y(1)) = (1, 1)$$



3215 I vilken eller vilka av de markerade punkterna är $f(x) \cdot f'(x) > 0$?



3215, A: $+$ · $+$ = $+$

B: $+$ · $-$ = $-$

C: $-$ · $-$ = $+$

D: $+$ · $+$ = $+$

\Rightarrow $f(x) \cdot f'(x) > 0$ i

punkterna A, C och D

3216 Bestäm extremvärdena för

$$f(x) = 2x + 2 + \frac{1}{x^2}$$

3216, $f'(x) = 2 - \frac{2}{x^3}$

$$f'(x) = 0 \Rightarrow x^3 = 1 \Rightarrow x = e^{i k \frac{2\pi}{3}}, k = 0, 1, 2$$

Endast en reel rot i $x = 1 \Rightarrow$ Extremvärde då $x = 1$,

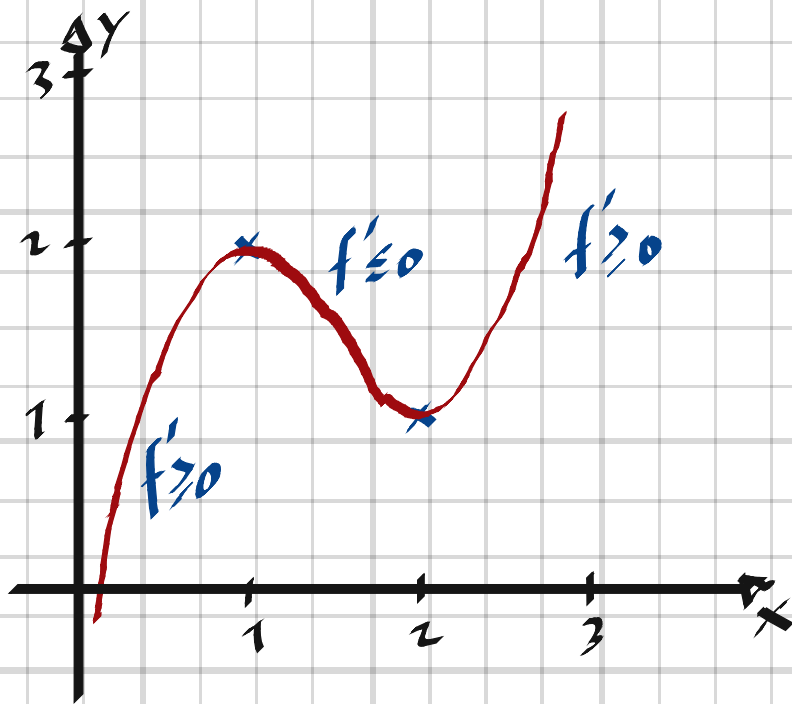
$$f''(x) = \frac{6}{x^4}$$

$f''(x) = f''(1) > 0 \Rightarrow$ Minvärde $f(1) = 5$

3217 Skissa en tänkbar graf till en funktion $y = f(x)$ för vilken
 $f(1) = 2$ och $f(2) = 1$
 $f'(x) \geq 0$ för $x \leq 1$ och för $x \geq 2$
 $f'(x) \leq 0$ för $1 \leq x \leq 2$

Vi förutsätter att $y = f(x)$ har derivata för alla x .

3217.



3218 I vilket intervall är $y = \frac{e^x}{x+2}$ växande?

- a) Använd en grafisk metod.
 b) Använd en metod med derivata.

3218. a)

Geogebra:



$$b) \quad y' = \frac{e^x(x+2) - e^x}{(x+2)^2} = \frac{e^x(x+1)}{(x+2)^2}$$

$$y' = 0 \Rightarrow x = -1$$

$y'(x < -1) < 0$, $y'(x > -1) > 0 \Rightarrow$ Funktionen växande
för $x > -1$

3219 Strömstyrkan i A
i en krets varierar
med tiden t s enligt
ekvationen

$$i = 4,4 + 2,5 \sin(50\pi t),$$

där $t > 0$



- Ange största värde på i .
- Ange minsta värde på i .
- Ange det minsta t för vilket $i = 5,5$.

3219. a) Största värde = $4,4 + 2,5 = \underline{6,9 \text{ A}}$

b) Minsta värde = $4,4 - 2,5 = \underline{1,9 \text{ A}}$

c) $5,5 = 4,4 + 2 \cdot \sin(50\pi t)$

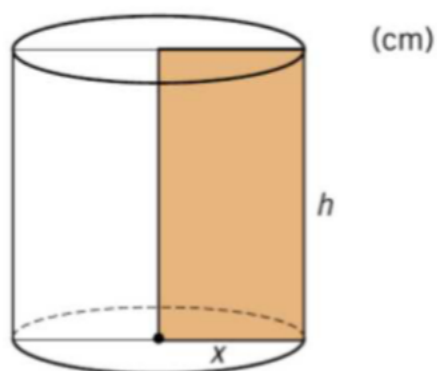
$$\sin(50\pi t) = 0,55 \Rightarrow$$

$$50\pi t = 0,5824 + n \cdot 2\pi$$

$$\underline{t = 3,7 \text{ ms} \text{ då } n=0}$$

3220 En rektangel med sidorna x cm och h cm har omkretsen 24 cm. Om rektangeln får rotera kring en av sina sidor alstras en cylinder med volymen y cm³ (se figuren).

- Uttryck y som en funktion av x .
- Ange funktionens definitionsmängd.
- Bestäm såväl exakt som med tre värdesiffror den största volym som cylindern kan anta.



$$2x + 2h = 24 \Rightarrow$$

$$h = 12 - x$$

3220, a) $y(x) = \pi x^2 \cdot h = \pi x^2 (12 - x) = \underline{\underline{\pi (12x^2 - x^3)}}$

b) $0 < x < 12$

c) $y' = \pi (24x - 3x^2) = 3\pi x (8 - x)$

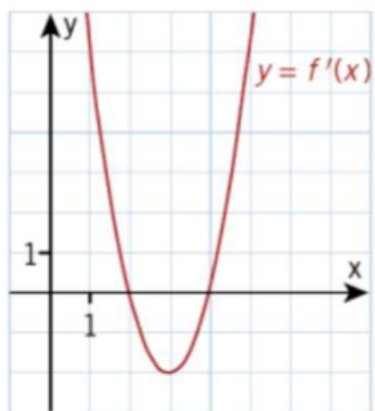
$$y' = 0, x \neq 0 \Rightarrow x = 8$$

$$y'' = \pi (24 - 6x) = 6\pi (4 - x)$$

$$y''(8) < 0 \Rightarrow \underline{\underline{\text{Maxvärde } y(8) = 256\pi \approx 804 \text{ cm}^3}}$$

3221 Figuren visar grafen till derivatan av $f(x)$

b



- För vilket eller vilka x har kurvan $y = f(x)$ en minimipunkt?
- För vilka x är andraderivatan negativ?
- Har andraderivatan $f''(x)$ något nollställe?
- Har funktionen $f(x)$ något nollställe?
Motivera dina svar.

3221. a) $x = 4$, f' växlar från $-$ till $+$ vid $x = 4$

b) $x < 3$, f' avtagande för $x < 3$

c) $x = 3$, där f' har en extrempunkt

d) 1, 2 eller 3, f är en tredjegradsfunktion

3222 Ange i exakt form koordinaterna för eventuella maximipunkter på kurvan $y = 2 \sin x - x$ i intervallet $0 \leq x \leq 2\pi$.

$$3222, \quad y' = 2 \cos x - 1$$

$$y' = 0 \Rightarrow \cos x = \frac{1}{2} \Rightarrow x = \pm \frac{\pi}{3} + n \cdot 2\pi$$

$$0 \leq x \leq 2\pi \Rightarrow x_1 = \frac{\pi}{3}, \quad x_2 = -\frac{\pi}{3} + 2\pi = \frac{5\pi}{3}$$

$$y'' = -2 \sin x$$

$$y''(x_1) = y''\left(\frac{\pi}{3}\right) < 0 \Rightarrow \text{Maxpunkt } \left(\frac{\pi}{3}, y\left(\frac{\pi}{3}\right)\right) = \left(\frac{\pi}{3}, \sqrt{3} - \frac{\pi}{3}\right)$$

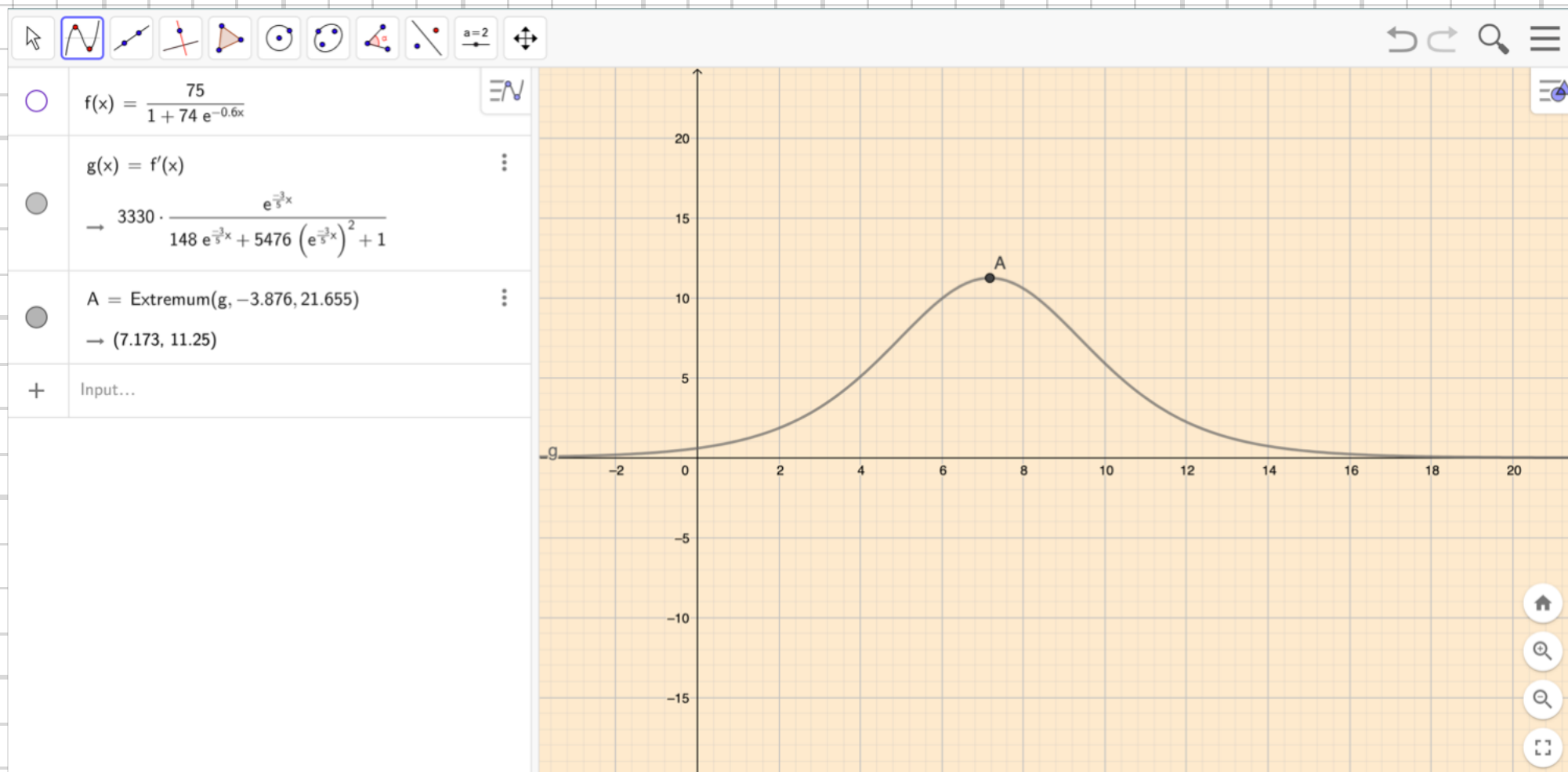
$$y''(x_2) = y''\left(\frac{5\pi}{3}\right) > 0 \Rightarrow \text{Minpunkt}$$

$$0 \leq x \leq 2\pi \Rightarrow \text{En maxpunkt } \left(\frac{\pi}{3}, \sqrt{3} - \frac{\pi}{3}\right)$$

3223 Bestäm det x-värde för vilket derivatan till

$$y = \frac{75}{1 + 74e^{-0,6x}} \text{ antar sitt största värde.}$$

3223, Geogebra ger $x = 7,17$



3224 I en rak cirkulär kon med basradien x cm, höjden h cm och volymen y cm³ är summan av höjden och basdiametern 12 cm. Bestäm konens maximivolym.

$$h + 2r = 12 \Rightarrow h = 12 - 2r$$

$$3224 \quad y(r) = \frac{\pi r^2 \cdot h}{3} = \frac{\pi r^2 (12 - 2r)}{3} = \pi \left(4r^2 - \frac{2r^3}{3} \right)$$

$$y'(r) = \pi (8r - 2r^2) = 2\pi r(4 - r)$$

$$y' = 0, r \neq 0 \Rightarrow r = 4 \text{ cm}$$

$$y''(r) = \pi (8 - 4r) = 4\pi (2 - r)$$

$$y''(4) < 0 \Rightarrow \text{Maxvärde } V(4) = \frac{\pi \cdot 4^2 (12 - 2 \cdot 4)}{3} = \underline{\underline{67 \text{ cm}^3}}$$

3225 Bestäm konstanten a så att $f(x) = x^2 + a/x$ får ett lokalt minimum för $x = 2$.

$$3225, \quad f'(x) = 2x - \frac{a}{x^2}$$

$$f'(x) = 0 \Rightarrow 2x - \frac{a}{x^2} = 0 \Rightarrow x^3 = \frac{a}{2}$$

$$x = 2 \Rightarrow 2^3 = \frac{a}{2} \Rightarrow \underline{a = 16}$$

3226 Vattendjupet y m vid en hamnfart t h efter midnatt ges av ekvationen $y = 10 + 3 \cos kt$, där k är en konstant.

- Ange vattendjupet vid lågvatten respektive vid högvatten.
- Beräkna och tolka största värdet för y' om tiden mellan lågvatten och högvatten är 6 timmar.

$$3226, \quad a) \quad \underline{y_{\text{lågv}} = 10 - 3 = 7 \text{ m}}$$

$$\underline{y_{\text{högv}} = 10 + 3 = 13 \text{ m}}$$

$$b) \quad y' = -3k \sin kt$$

$$k = \frac{2\pi}{T}, \quad T = 2 \cdot 6 = 12 \text{ h} \Rightarrow k = \frac{2\pi}{12} = \frac{\pi}{6}$$

$$y' = -\frac{\pi}{2} \cdot \sin \frac{\pi}{6} \cdot t \Rightarrow y'_{\text{max}} = \frac{\pi}{2} \Rightarrow$$

Vattnet stiger/sjunker med maxhastigheten $\frac{\pi}{2}$ m/h.

3227 Sök eventuella extremvärden till

a) $y = x^2 \cdot \ln x$ b) $f(x) = \frac{\sqrt{x-1}}{x}$

3227. a) $y' = 2x \cdot \ln x + x = x(2 \ln x + 1)$

$$y' = 0, x \neq 0 \Rightarrow x = e^{-\frac{1}{2}}$$

Extremvärdet $f(e^{-\frac{1}{2}}) = \frac{1}{e} \cdot \ln e^{-\frac{1}{2}} = -\frac{1}{2e}$

b) $f'(x) = \frac{\frac{1}{2}(x-1)^{-\frac{1}{2}} \cdot x - (x-1)^{\frac{1}{2}}}{x^2}$

$$f'(x) = 0 \Rightarrow \frac{x}{2\sqrt{x-1}} = \sqrt{x-1} \Rightarrow$$

$$x = 2(x-1) \Rightarrow x = 2$$

Extremvärdet $f(2) = \frac{\sqrt{2-1}}{2} = \frac{1}{2}$

3228 Undersök hur antalet rötter till ekvationen
 $2x^3 - 3x^2 + 1 + a = 0$ varierar med talet a .

$$3228, \quad f(x) = 2x^3 - 3x^2 + 1 + a$$

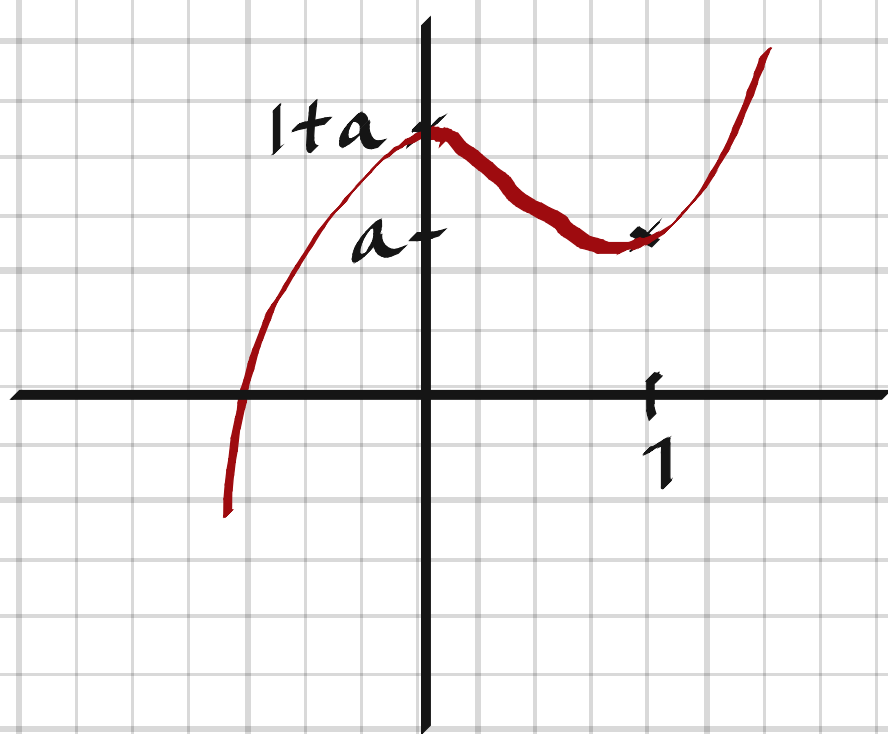
$$f'(x) = 6x^2 - 6x = 6x(x-1)$$

$$f'(x) = 0 \Rightarrow x_1 = 0, x_2 = 1$$

$$f''(x) = 12x - 6 = 6(2x - 1)$$

$$f''(x_1) = f''(0) < 0 \Rightarrow \text{Maxpunkt } (0, f(0)) = (0, 1+a)$$

$$f''(x_2) = f''(1) > 0 \Rightarrow \text{Minpunkt } (1, f(1)) = (1, a)$$



$$a > 0 \Rightarrow 1 \text{ rotställe}$$

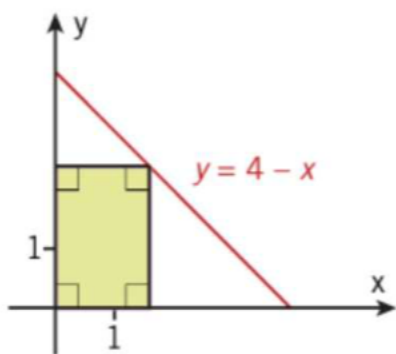
$$a = 0 \Rightarrow 2 \text{ rotställen}$$

$$-1 < a < 0 \Rightarrow 3 \text{ rotställen}$$

$$a = -1 \Rightarrow 2 \text{ rotställen}$$

$$a < -1 \Rightarrow 1 \text{ rotställe}$$

3229 Figuren visar en del av den räta linjen $y = 4 - x$. Vid rotation kring x -axeln alstrar figurens rektangel en cylinder. Beräkna maximivärdet för cylinderns volym.



$$3229, \quad V(x) = \pi(4-x)^2 \cdot x = \pi(x^3 - 8x^2 + 16x)$$

$$\begin{aligned} V'(x) &= \pi(3x^2 - 16x + 16) = 3\pi\left(x^2 - \frac{16}{3}x + \frac{16}{3}\right) = \\ &= 3\pi\left(x - 4\right)\left(x - \frac{4}{3}\right) \end{aligned}$$

$$V'(x) = 0, \quad x \neq 4 \Rightarrow x = \frac{4}{3}$$

$$V''(x) = \pi(6x - 16)$$

$$V''\left(\frac{4}{3}\right) = \pi(8 - 16) < 0 \Rightarrow \text{Maxvärde } f\left(\frac{4}{3}\right) = \underline{\underline{9,48\pi \approx 29,8 \text{ v.e.}}}$$

3230 Bestäm konstanterna a och b så att

$$f(x) = x^3 + ax^2 + bx$$

har ett lokalt maximum för $x = -1$

och ett lokalt minimum för $x = 3$.

$$3230. \quad f'(x) = 3x^2 + 2ax + b = 3\left(x^2 + \frac{2a}{3}x + \frac{b}{3}\right)$$

Extrempunkter för $x = -1$ och $x = 3 \Rightarrow$

$$f'(x) = (x+1)(x-3) = 0 \Rightarrow$$

$$(x+1)(x-3) = x^2 + \frac{2a}{3}x + \frac{b}{3}$$

$$x^2 - 2x - 3 = x^2 + \frac{2a}{3}x + \frac{b}{3} \Rightarrow$$

$$\frac{2a}{3} = -2 \Rightarrow a = -3$$

$$\frac{b}{3} = -3 \Rightarrow b = -9$$

Kontroll: $f''(x) = 6x + 2a$

$$f''(-1) < 0 \Rightarrow 2a - 6 < 0 \Rightarrow a < 3$$

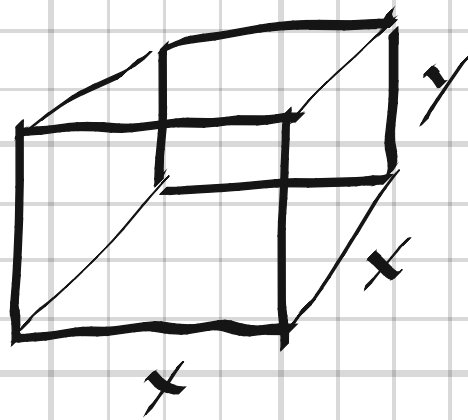
$$f''(3) > 0 \Rightarrow 18 + 2a > 0 \Rightarrow a > -9$$

$$\left. \begin{array}{l} \Rightarrow a < 3 \\ \Rightarrow a > -9 \end{array} \right\} \Rightarrow -9 < a < 3$$

$$a = -3 \text{ ok!}$$

konstanterna $a = -3$ och $b = -9$

3231 Ett företag ska tillverka små burkar med volymen 900 cm^3 . Burkarna ska vara utan lock och ha formen av ett rätblock med kvadratisk bottenyta. Materialet till sidoytorna kostar dubbelt så mycket per cm^2 som materialet till botten. Vilka dimensioner på burken ger lägsta möjliga materialkostnad?



$$3231, \quad V = x^2 y = 900$$

Antag kostnad/ cm^2 för botten = 1 \Rightarrow
 kostnad/ cm^2 för sidoytorna = 2

$$K(x) = x^2 \cdot 1 + 4xy \cdot 2 = x^2 + \frac{8 \cdot 900}{x}$$

$$K'(x) = 2x - \frac{7200}{x^2}$$

$$K' = 0 \Rightarrow x^3 = 3600 \Rightarrow x = 3600^{1/3} \text{ i.k.z}\pi, \quad k=0,1,2$$

$$\text{En reell lösning } x = 3600^{1/3} \approx 15,33$$

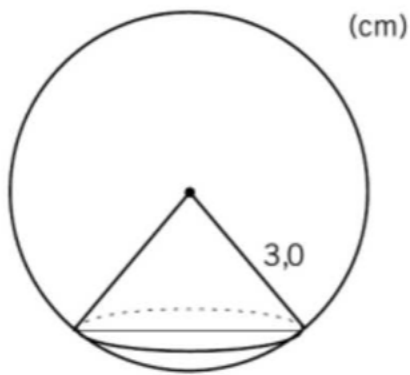
$$K''(x) = 2 + \frac{14400}{x^3} > 0 \Rightarrow \text{minimum}$$

$$y = \frac{900}{x^2} \approx \frac{900}{15,33^2} = 3,83$$

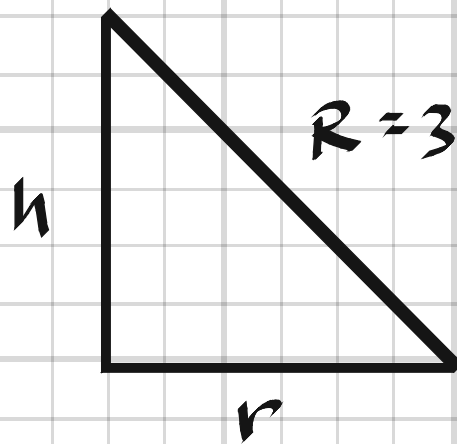
Dimensionerna $x \times x \times y = 15,3 \times 15,3 \times 3,8 \text{ cm}$

3232 I ett klot med radien 3,0 cm placeras en rak cirkulär kon med spetsen i klotets medelpunkt och basytans periferi på klotytan (se figur).

Bestäm konens maximivolum.



$$V = \frac{bh}{3} = \frac{\pi r^2 h}{3}$$



3232,

$$r^2 = R^2 - h^2 \Rightarrow$$

$$V(h) = \frac{\pi (R^2 - h^2) h}{3} = \frac{\pi}{3} (9h - h^3)$$

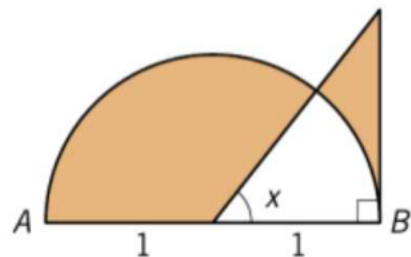
$$V'(h) = \frac{\pi}{3} (9 - 3h^2) = \pi (3 - h^2)$$

$$V'(h) = 0 \Rightarrow h = \pm \sqrt{3}$$

$$V''(h) = -2\pi h$$

$$V''(\sqrt{3}) < 0 \Rightarrow \text{Maxvärde } V(\sqrt{3}) = \frac{\pi}{3} (9\sqrt{3} - 3\sqrt{3}) = 2\pi\sqrt{3} \approx 11 \text{ cm}^3$$

3233



I figuren är AB diameter i en halvcirkel med radien 1 l.e.

För vilket värde på vinkeln x är de färgade områdenas sammanlagda area minst?

Cirkelsektorns area =

$$= \frac{x}{2\pi} \cdot \pi \cdot 1^2 = \frac{x}{2}$$

3233, $h = \tan x$

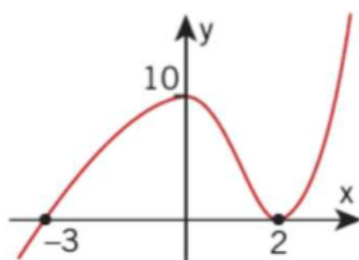
$$A(x) = \frac{\pi \cdot 1^2}{2} + \frac{1 \cdot \tan x}{2} - 2 \cdot \frac{x}{2}$$

$$A'(x) = 0 + \frac{1 + \tan^2 x}{2} - 1 = \frac{\tan^2 x - 1}{2}$$

$$A'(x) = 0 \Rightarrow \tan^2 x = 1 \Rightarrow x = \arctan(1) = \frac{\pi}{4}$$

3234 Grafen till ett tredjegradspolynom skär koordinataxlarna som figuren visar.

Bestäm polynomet.



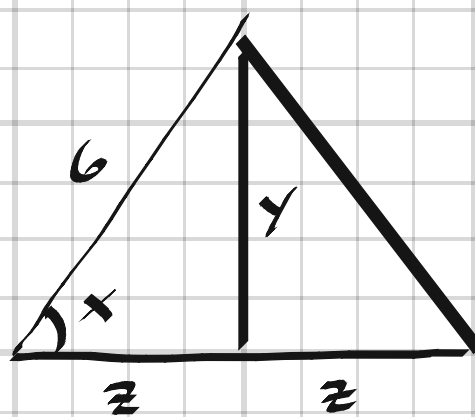
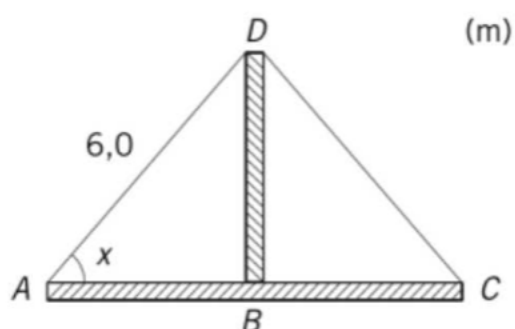
3234 $p(x) = k(x+3)(x-2)^2$

$$p(0) = 10 \Rightarrow k \cdot 3 \cdot (-2)^2 = 10 \Rightarrow k = \frac{5}{6}$$

$$p(x) = \frac{5}{6}(x+3)(x-2)^2$$

3235 Figuren visar en takkonstruktion, där AC och BD är två bjälkar.

Vilken är den största sammanlagda längden av dessa två bjälkar?



3235.

$$L = 2z + y$$

$$z = 6 \cos x$$

$$y = 6 \sin x$$

$$L = 12 \cos x + 6 \sin x$$

$$L' = -12 \sin x + 6 \cos x$$

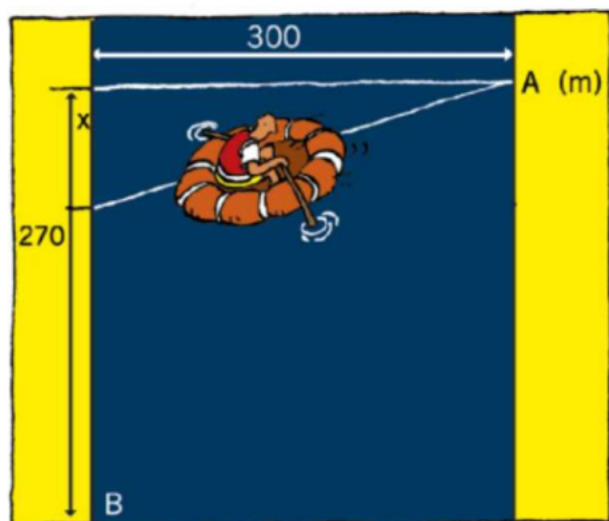
$$L' = 0 \Rightarrow 2 \sin x = \cos x \Rightarrow \tan x = \frac{1}{2} \Rightarrow x = 0,464$$

$$L''(x) = -12 \cos x - 6 \sin x$$

$$L''(0,464) = -13,4 < 0 \Rightarrow \text{Maxlängden} = L(0,464) = 13,4 \text{ m}$$

3236 En person befinner sig med en liten, bärbar gummibåt i punkten A på ena sidan av en sjö med parallella stränder. Han ska förflytta sig från A till en punkt B på sjöns andra sida enligt figuren. Den totala tiden för förflyttningen antas vara y s.

Han paddlar i 3,0 m/s och springer i 5,0 m/s.



- Uttryck y som funktion av x (se figur).
- Undersök grafiskt om han kan klara förflyttningen under 2 min.
- Bestäm genom derivering den kortaste tid förflyttningen kan ta.

$$3236. \quad a) \quad y(x) = \frac{\sqrt{300^2 + x^2}}{3,0} + \frac{270 - x}{5,0}$$

$$b) \quad \underline{\text{Nej, } x = 225 \text{ ger } y_{\min} = 134 \text{ s.}}$$

$$c) \quad y' = \frac{x}{3\sqrt{300^2 + x^2}} - \frac{1}{5}$$

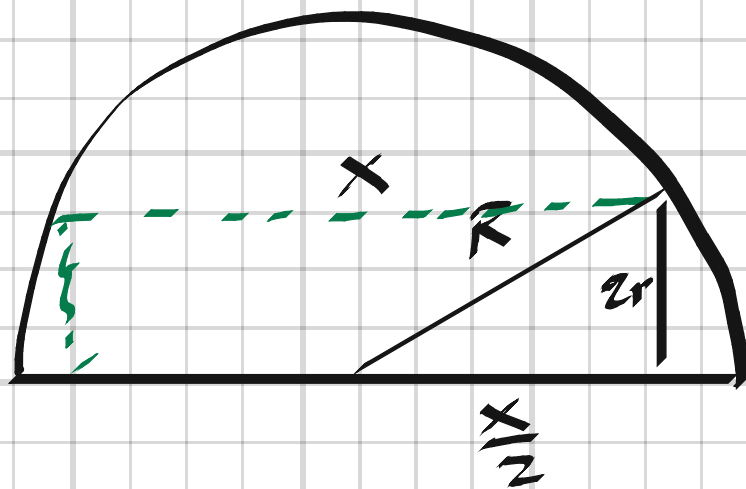
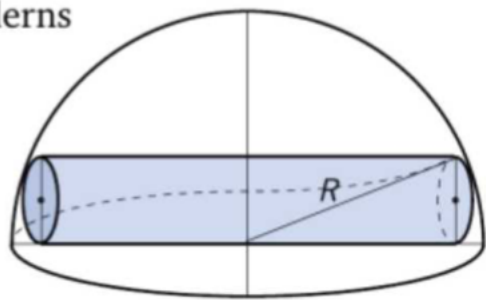
$$y' = 0 \Rightarrow \frac{5x}{3} = \sqrt{300^2 + x^2} \Rightarrow \frac{25x^2}{9} = 300^2 + x^2$$

$$x^2 = \frac{9 \cdot 300^2}{16} \Rightarrow x = \pm 225$$

$$y(225) = \frac{\sqrt{300^2 + 225^2}}{3} + \frac{270 - 225}{5} = \underline{134 \text{ s} = 2 \text{ min } 14 \text{ s}}$$

3237 I ett halvklot med radien R inskrivs en rak cirkulär cylinder enligt figuren.

Bestäm cylinderns maximala volym.



3237.

$$R^2 = (2r)^2 + \left(\frac{x}{2}\right)^2 \Rightarrow$$

$$r^2 = \frac{R^2 - \frac{x^2}{4}}{4} = \frac{R^2}{4} - \frac{x^2}{16}$$

$$V(x) = \pi r^2 \cdot x = \pi \left(\frac{R^2}{4} x - \frac{x^3}{16} \right)$$

$$V'(x) = \pi \left(\frac{R^2}{4} - \frac{3x^2}{16} \right)$$

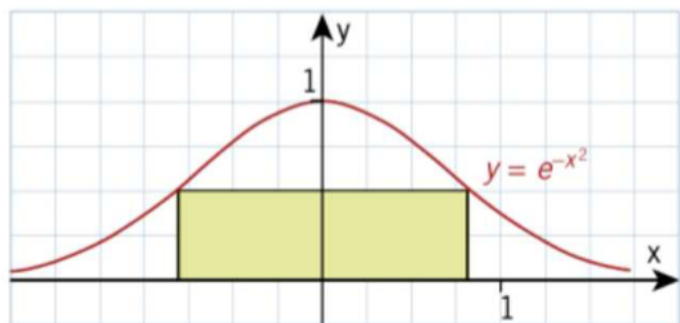
$$V'(x) = 0 \Rightarrow \frac{R^2}{4} = \frac{3x^2}{16} \Rightarrow x = \pm \sqrt{\frac{4R^2}{3}} = \frac{2R}{\sqrt{3}}$$

$$V''(x) = -\frac{6x}{16}$$

$$V''\left(\frac{2R}{\sqrt{3}}\right) < 0 \Rightarrow \text{Max volymen} = V\left(\frac{2R}{\sqrt{3}}\right) =$$

$$= \pi \cdot \left(\frac{R^3}{2\sqrt{3}} - \frac{R^3}{6\sqrt{3}} \right) = \pi \cdot \frac{R^3}{3\sqrt{3}} = \underline{\underline{\frac{\pi\sqrt{3}R^3}{9} \text{ v.e.}}}$$

3238 Undersök om arean av den i figuren markerade rektangeln mellan kurvan $y = e^{-x^2}$ och x -axeln antar något största värde. Ange i så fall detta i exakt form.



$$3238 \quad A(x) = 2x \cdot e^{-x^2}$$

$$A'(x) = 2(e^{-x^2} - 2x^2 e^{-x^2}) = 2e^{-x^2}(1 - 2x^2)$$

$$A'(x) = 0 \Rightarrow x^2 = \frac{1}{2} \Rightarrow x = \pm \frac{1}{\sqrt{2}} = \pm \frac{\sqrt{2}}{2}$$

$$\begin{aligned} A''(x) &= -4x e^{-x^2} - (8x e^{-x^2} - 8x^3 e^{-x^2}) = \\ &= 4x e^{-x^2} (2x^2 - 3) \end{aligned}$$

$$A''\left(\frac{1}{\sqrt{2}}\right) = 2\sqrt{2} e^{-\frac{1}{2}} (1 - 3) = -4\sqrt{2} e^{-\frac{1}{2}} < 0 \Rightarrow$$

$$\underline{\text{Maxarean}} = A\left(\frac{1}{\sqrt{2}}\right) = \sqrt{2} e^{-\frac{1}{2}} = \sqrt{\frac{2}{e}} \text{ a.e.}$$

3301 För funktionen f gäller att $f(x) = 4x - 1$

- a) Bestäm en primitiv funktion till $f(x)$.
b) Bestäm samtliga primitiva funktioner till $f(x)$.
c) Bestäm den primitiva funktion till $f(x)$ för vilken gäller att $F(-2) = 15$.

3301. a) $F(x) = 2x^2 - x$

b) $F(x) = 2x^2 - x + C$

c) $2(-2)^2 - (-2) + C = 15 \Rightarrow C = 5$

$F(x) = 2x^2 - x + 5$

3302 Beräkna integralen

a) $\int_0^{\pi/4} \sin 2x \, dx$

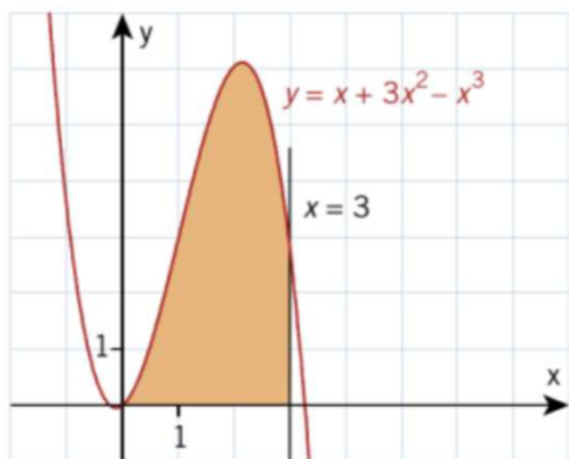
b) $\int_1^e \frac{2}{x} \, dx$

3302.
 $\pi/4$

a) $\int_0^{\pi/4} \sin 2x \, dx = \left[-\frac{\cos 2x}{2} \right]_0^{\pi/4} = \frac{1}{2} (\cos 0 - \cos \frac{\pi}{2}) = \underline{\underline{\frac{1}{2}}}$

b) $\int_1^e \frac{2}{x} \, dx = [2 \ln x]_1^e = 2 - 0 = \underline{\underline{2}}$

3303 Beräkna arean av det färgade området i figuren.



3303,

$$A = \int_0^3 (x + 3x^2 - x^3) dx = \left[\frac{x^2}{2} + x^3 - \frac{x^4}{4} \right]_0^3 = 4,5 + 27 - 20,25 = \underline{11,25 \text{ a.e.}}$$

3304 Bestäm den primitiva funktion $F(x)$ till $f(x)$ som uppfyller villkoret $F(0) = 10$
a) $f(x) = 3e^{-0,2x}$ b) $f(x) = 24\cos 3x$

3304, a) $F(x) = -15e^{-0,2x} + C$

$$F(0) = 10 \Rightarrow C = 10 + 15e^0 = 25$$

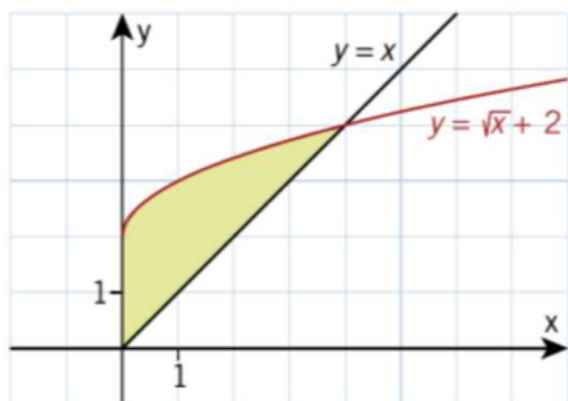
$$\underline{F(x) = -15e^{-0,2x} + 25}$$

b) $F(x) = 8\sin 3x + C$

$$F(0) = 10 \Rightarrow C = 10$$

$$\underline{F(x) = 8\sin 3x + 10}$$

3305 Beräkna arean av det färgade området i figuren.



Skärningspunkt:

$$x = \sqrt{x} + 2$$

$$x - \sqrt{x} = 2 \Rightarrow x = 4$$

3305.

$$A = \int_0^4 (\sqrt{x} + 2 - x) dx = \left[\frac{2x^{3/2}}{3} + 2x - \frac{x^2}{2} \right]_0^4 =$$

$$= \frac{2 \cdot 4 \cdot 2}{3} + 2 \cdot 4 - \frac{16}{2} = \frac{16 \cdot 2 + 8 \cdot 6 - 16 \cdot 3}{6} = \frac{16}{3} \approx 5,3 \text{ a.e.}$$

3306 För funktionen f gäller att $f(x) = \frac{x}{3} + \frac{1}{\sqrt{x}}$

Bestäm den primitiva funktion till $f(x)$ för vilken gäller att $F(4) = 0$.

3306.

$$F(x) = \frac{x^2}{6} + 2\sqrt{x} + C$$

$$F(4) = 0 \Rightarrow \frac{16}{6} + 4 + C = 0 \Rightarrow C = -\frac{20}{3}$$

$$\underline{F(x) = \frac{x^2}{6} + 2\sqrt{x} - \frac{20}{3}}$$

3307 Julia påstår följande:

Eftersom derivatan av x^2 är $2x$ och derivatan av $\sin x$ är $\cos x$ så är

$$F(x) = \frac{x^2 \cdot \sin x}{2}$$

en primitiv funktion till $f(x) = x \cdot \cos x$.

Är Julias påstående sant eller falskt?

Motivera ditt svar.

3307.

$$f(x) = F'(x) = \frac{1}{2}(2x \cdot \sin x + x^2 \cos x) \neq x \cdot \cos x$$

Påståendet är falskt.

3308 Bestäm det positiva talet a så att

$$\int_1^a (2x + 1) dx = \int_0^2 x^3 dx$$

3308,

$$[x^2 + x]_1^a = \left[\frac{x^4}{4}\right]_0^2$$

$$a^2 + a - 2 = 4 \quad ; \quad a^2 + a - 6 = 0$$

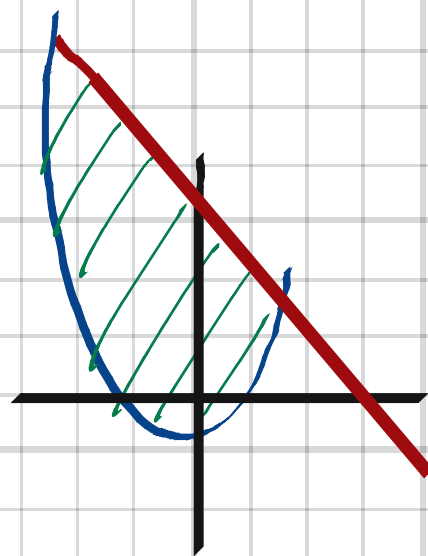
$$(a - 2)(a + 3) = 0 \Rightarrow$$

Positiva $a = 2$

3309 Skissa figur och beräkna arean av det område som begränsas av kurvan

a) $y = x^2 - 1$ och linjen $y = -x + 5$

b) $y = e^{-x}$, linjerna $y = x + 1$, $x = 2$ och x -axeln.



3309. a) $x^2 - 1 = -x + 5$

$$x^2 + x - 6 = 0$$

$$(x+3)(x-2) = 0 \Rightarrow x_1 = -3, x_2 = 2$$

$$A = \int_{x_1}^{x_2} (-x + 5 - x^2 + 1) dx = \left[-\frac{x^2}{2} + 6x - \frac{x^3}{3} \right]_{-3}^2 =$$

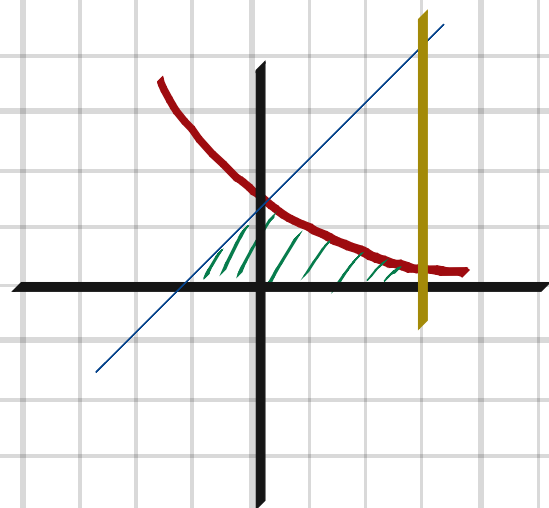
$$= -2 + 12 - \frac{8}{3} - \left(-\frac{9}{2} - 18 + 9 \right) = 10 - \frac{8}{3} + \frac{9}{2} + 9 =$$

$$= \frac{60 - 16 + 27 + 54}{6} = \frac{125}{6} \approx 20.8 \text{ a.e.}$$

b) $x_1 = -1, x_2 = 0, x_3 = 2$

$$A = \int_{x_1}^{x_2} (x+1) dx + \int_{x_2}^{x_3} e^{-x} dx = \left[\frac{x^2}{2} + x \right]_{-1}^0 +$$

$$- \left[e^{-x} \right]_0^2 = 0 - \left(\frac{1}{2} - 1 \right) - (e^{-2} - 1) = \frac{3}{2} - e^{-2} \approx 1.36 \text{ a.e.}$$



3310 Beräkna integralen

a) $\int_1^e \frac{1}{x+1} dx$ b) $\int_0^4 \frac{1}{2x+1} dx$

3310,

a) $\int_1^e \frac{1}{x+1} dx = [\ln(x+1)]_1^e = \ln(e+1) - \ln 2 = \ln \frac{e+1}{2}$

b) $\int_0^4 \frac{1}{2x+1} dx = \left[\frac{1}{2} \cdot \ln(2x+1) \right]_0^4 = \frac{1}{2} \ln 9 = \ln 3$

3311 a) Visa att $x \cdot \ln x - x$ är en primitiv funktion till $\ln x$.

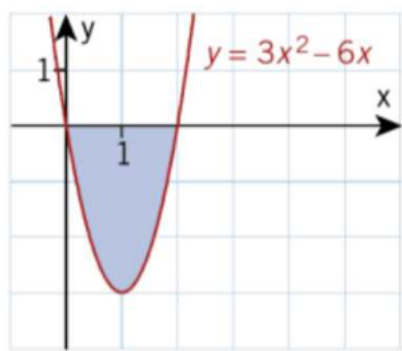
b) Beräkna integralen $\int_1^e \ln x dx$.

3311. a) $F(x) = x \cdot \ln x - x$

$$f(x) = F'(x) = \ln x + 1 - 1 = \ln x$$

b) $\int_1^e \ln x dx = [x \cdot \ln x - x]_1^e = e - e - (0 - 1) = 1$

3312



- a) Visa att arean av det färgade området i figuren är exakt 4 a.e.
 b) Christoffer påstår att det finns ett positivt heltal n sådant att

$$\int_0^n (3x^2 - 6x) = 0$$

Undersök om detta är sant.

3312,

$$a) \quad A = \int_2^0 (3x^2 - 6x) dx = \left[x^3 - 3x^2 \right]_2^0 = -8 + 12 = \underline{4 \text{ a.e.}}$$

$$b) \quad \left[x^3 - 3x^2 \right]_0^n = 0$$

$$n^3 - 3n^2 = 0$$

$$n^2(n-3) = 0$$

$$n > 0 \Rightarrow \underline{n = 3}$$

3313 Bestäm talet a så att integralen

b $\int_0^2 (x - ax^2) dx$ får värdet

- a) 4 b) 0

3313.

a) $\int_0^2 (x - ax^2) dx = 4$; $\left[\frac{x^2}{2} - \frac{ax^3}{3} \right]_0^2 = 4$

$$2 - \frac{8a}{3} = 4 \Rightarrow \underline{a = -\frac{3}{4}}$$

b) $2 - \frac{8a}{3} = 0 \Rightarrow \underline{a = \frac{3}{4}}$

3314 Ett föremål rör sig rätlinjigt.

Dess hastighet $v(t)$ m/s ges av ekvationen

$$v(t) = 18t^2 - 12, \text{ där } t \text{ är tiden i s.}$$

a) Bestäm vägfunktionen $s(t)$,
om $s(0) = 15$.

b) Hur långt hinner kroppen från
 $t = 10$ till $t = 12$?

3314. a) $s(t) = \int_0^t v(t) dt + C = \underline{6t^3 - 12t + 15}$

b) $s(12) - s(10) = 6 \cdot 12^3 - 12 \cdot 12 - 6 \cdot 10^3 + 12 \cdot 10 = \underline{4344 \text{ m}}$

3315 Beräkna integralen

a) $\int_0^4 \sqrt{2x+1} dx$

d) $\int_0^{\pi/2} 8 \sin x \cos x dx$

b) $\int_0^1 (x^2+1)^2 dx$

e) $\int_1^4 \frac{x+1}{\sqrt{x}} dx$

c) $\int_1^3 \frac{x+1}{x} dx$

f) $\int_0^1 \frac{x}{x+3} dx$

3315,

a) $\int_0^4 \sqrt{2x+1} dx = \frac{1}{3} \left[(2x+1)^{3/2} \right]_0^4 = \frac{1}{3} (27-1) = \underline{\frac{26}{3}}$

b) $\int_0^1 (x^2+1)^2 dx = \int_0^1 (x^4+2x^2+1) dx = \left[\frac{x^5}{5} + \frac{2x^3}{3} + x \right]_0^1 = \frac{1}{5} + \frac{2}{3} + 1 = \underline{\frac{28}{15}}$

c) $\int_1^3 \left(\frac{x+1}{x} \right) dx = \left[x + \ln x \right]_1^3 = 3 + \ln 3 - 1 - 0 = \underline{2 + \ln 3}$

d) $\int_0^{\pi/2} 8 \sin x \cos x dx = 4 \int_0^{\pi/2} \sin 2x dx = 2 \left[-\cos 2x \right]_0^{\pi/2} = \underline{4}$

e) $\int_1^4 \frac{x+1}{\sqrt{x}} dx = \int_1^4 (x^{1/2} + x^{-1/2}) dx = 2 \left[\frac{x^{3/2}}{3} + x^{1/2} \right]_1^4 = 2 \left(\frac{8}{3} + \frac{6}{3} - \frac{1}{3} - \frac{3}{3} \right) = \underline{\frac{20}{3}}$

f) $\int_0^1 \frac{x}{x+3} dx = \int_0^1 \frac{x+3-3}{x+3} dx = \int_0^1 (x - 3 \ln(x+3)) dx = \underline{1 - 3 \ln 4 + 3 \ln 3}$

3316 Beräkna integralen

a) $\int_0^6 r^2 \cdot h dh$

b) $\int_0^n r^2 \cdot h dr$

3316. a) $\int_0^6 r^2 h dh = r^2 \left[\frac{h^2}{2} \right]_0^6 = \underline{18 r^2}$

b) $\int_0^n r^2 h dr = h \left[\frac{r^3}{3} \right]_0^n = \underline{\frac{h n^3}{3}}$

3317 En sportbil håller i tidsintervallet $0 \leq t \leq 25$, där t är tiden i sekunder, en hastighet v m/s som bestäms av funktionen

$$v(t) = 10 \cdot t^{0,56}$$

a) Vilken hastighet har bilen då $t = 10$ och då $t = 25$?

b) Bestäm bilens acceleration då $t = 10$ och då $t = 25$.

c) Hur långt hinner bilen under tidsintervallet $0 \leq t \leq 25$?

d) Bestäm bilens medelhastighet under tidsintervallet $0 \leq t \leq 25$.

$$v(t) = 10 \cdot t^{0,56}$$

$$a(t) = \frac{dv}{dt} = 5,6 t^{-0,44}$$

$$s(t) = \int_0^t v(t) dt = 6,41 \cdot t^{1,56}$$

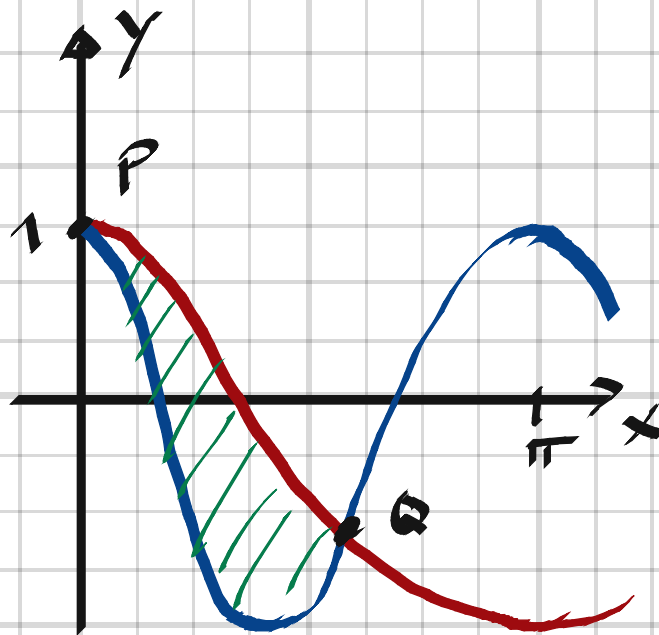
3317. a) $v(10) = 10 \cdot 10^{0,56} = \underline{36,3 \text{ m/s}}$; $v(25) = 10 \cdot 25^{0,56} = \underline{60,7 \text{ m/s}}$

b) $a(10) = 5,6 \cdot 10^{-0,44} = \underline{2,03 \text{ m/s}^2}$; $a(25) = 5,6 \cdot 25^{-0,44} = \underline{1,39 \text{ m/s}^2}$

c) $s(25) = 6,41 \cdot 25^{1,56} = \underline{972 \text{ m}}$

d) $v_m = \frac{s(25) - s(0)}{25 - 0} = \frac{972}{25} = \underline{38,9 \text{ m/s}}$

3318 Rita kurvorna $y = \cos x$ och $y = \cos 2x$ för $0 \leq x \leq \pi$. De skär varandra dels i en punkt P på y -axeln, dels i en punkt Q . Beräkna arean av det område som begränsas av kurvbågarna PQ .



3318.

$$\cos x = \cos 2x$$

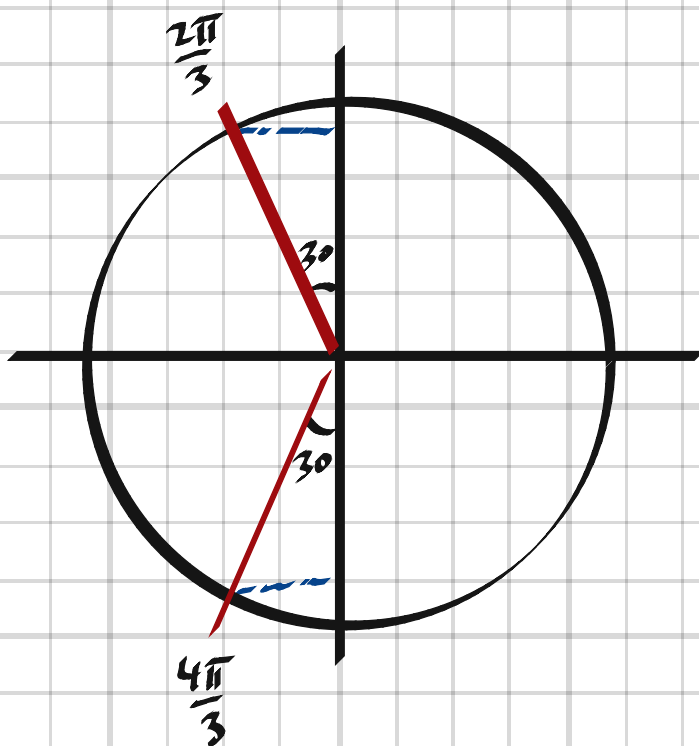
$$x = \pm 2x + n \cdot 2\pi$$

$$x > 0, n = 1 \Rightarrow x = \frac{2\pi}{3}$$

$$A = \int_0^{\frac{2\pi}{3}} (\cos x - \cos 2x) dx = \left[\sin x - \frac{1}{2} \sin 2x \right]_0^{\frac{2\pi}{3}} =$$

$$= \sin \frac{2\pi}{3} - \frac{1}{2} \sin \frac{4\pi}{3} = \cos \frac{\pi}{6} - \frac{1}{2} \cdot (-\cos \frac{\pi}{6}) =$$

$$= \frac{\sqrt{3}}{2} + \frac{1}{2} \cdot \frac{\sqrt{3}}{2} = \frac{3\sqrt{3}}{4} \approx 1,30 \text{ a.e.}$$



3319 Medelvärde av en funktion f över ett intervall $a \leq x \leq b$ definieras av integralen

$$\frac{1}{b-a} \int_a^b f(x) dx$$

- a) Finn medelvärdet av $f(x) = \sin x$ över intervallet $0 \leq x \leq \pi$.
- b) Medelvärdet av funktionen $f(x) = 6/x^2$ över intervallet $1 \leq x \leq b$, där $b > 1$ är lika med 1. Vilket värde har b ?

3319. a) $\frac{1}{\pi} \int_0^{\pi} \sin x dx = -\frac{1}{\pi} [\cos x]_0^{\pi} = -\frac{1}{\pi} (-1 - 1) = \underline{\underline{\frac{2}{\pi}}}$

b) $\frac{1}{b-1} \int_1^b \frac{6}{x^2} dx = 1 \Rightarrow -\frac{1}{b-1} \left[\frac{6}{x} \right]_1^b = 1 \Rightarrow$

$$\frac{-1}{b-1} \left(\frac{6}{b} - 6 \right) = 1 \Rightarrow \frac{6}{b} - 6 = 1 - b$$

$$6 - 6b = b - b^2 \Rightarrow b^2 - 7b + 6 = 0 \Rightarrow$$

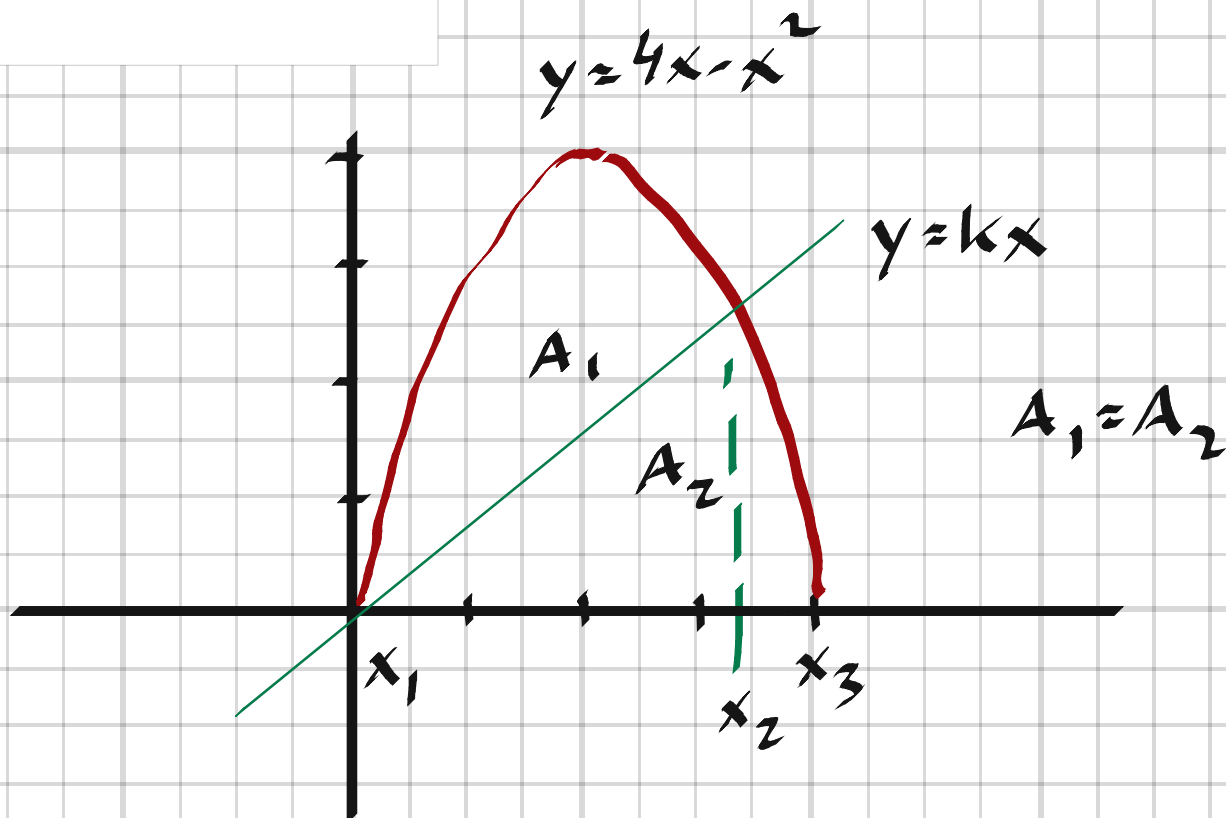
$$(b-1)(b-6)$$

$$b > 1 \Rightarrow \underline{\underline{b = 6}}$$

3320 Kurvan $y = 4x - x^2$ begränsar tillsammans med x-axeln ett område.

Välj själv en linje som inte är parallell med axlarna och som delar området i två delar med lika stor area. Vilken ekvation får din linje?

3320,



$$4x - x^2 = kx \Rightarrow x^2 + kx - 4x = 0 \quad x(x - (4 - k)) = 0$$

$$x_1 = 0, \quad x_2 = 4 - k, \quad x_3 = 4$$

$$A_1 = A_2 \Rightarrow \int_{x_1}^{x_2} (4x - x^2 - kx) dx = \int_{x_1}^{x_2} kx dx + \int_{x_2}^{x_3} (4x - x^2) dx$$

$$\left[(4 - k) \cdot \frac{x^2}{2} - \frac{x^3}{3} \right]_0^{4-k} = \left[\frac{kx^2}{2} \right]_0^{4-k} + \left[2x^2 - \frac{x^3}{3} \right]_{4-k}^4$$

$$\frac{(4-k)^3}{2} - \frac{(4-k)^3}{3} = \frac{k(4-k)^2}{2} + 32 - \frac{64}{3} - 2(4-k)^2 + \frac{(4-k)^3}{3}$$

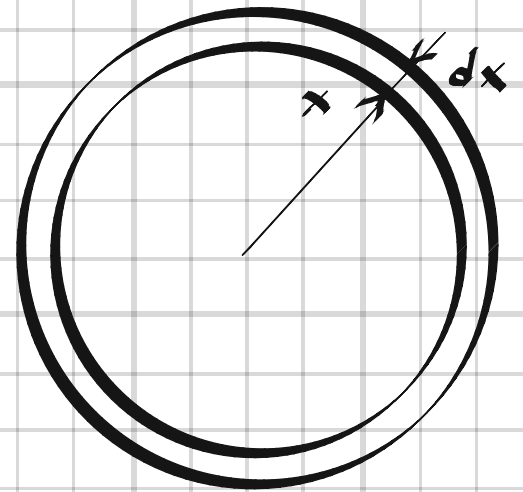
$$\text{Ekv. löst i Geogebra} \Rightarrow k = 0.825 \Rightarrow \underline{y = 0.825x}$$

3321 I en kommun bedömer man att befolknings-
tätheten $f(x)$ invånare per kvadrat-
kilometer varierar enligt formeln

$$f(x) = \frac{8000}{x\sqrt{x}}$$

där x km är avståndet till kommunens
centrum.

Hur många personer bor det i cirkelringen
från $x = 1$ till $x = 4$?



3321,

$$dA = 2\pi x dx$$

$$\text{Antal invånare} = \int_1^4 f(x) \cdot dA = 16000\pi \int_1^4 \frac{1}{\sqrt{x}} dx = 32000\pi [\sqrt{x}]_1^4$$

$$= 32000\pi (2-1) = 32000\pi = \underline{\underline{100500}}$$

3322 Antag att vi slumpvis väljer två tal x och y , sådana att $0 < x < \pi$ och $0 < y < 1$.

a

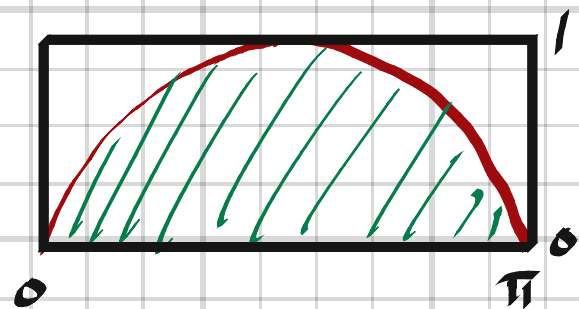
Vad är då sannolikheten att

a) $y < \sin x$ c) $y < \cos x$

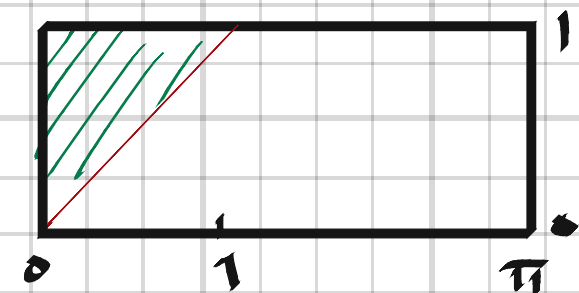
b) $y > x$ d) $y > 2x - x^2$?

3322,

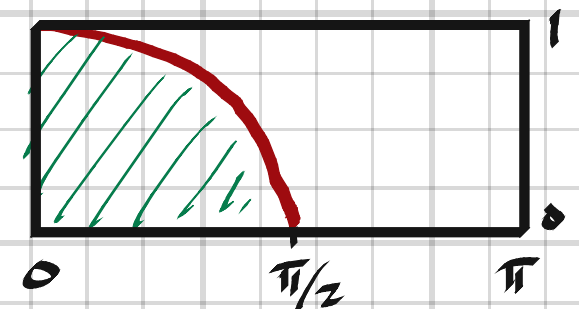
$$a) P = \frac{\int_0^{\pi} \sin x \, dx}{1 \cdot \pi} = \frac{[\cos x]_0^{\pi}}{\pi} = \frac{1 - (-1)}{\pi} = \underline{\underline{\frac{2}{\pi}}}$$



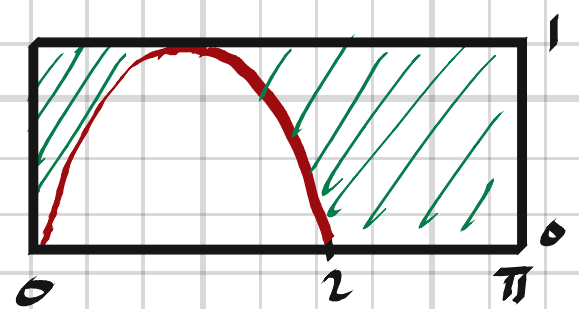
$$b) P = \frac{\frac{1 \cdot 1}{2}}{\pi} = \underline{\underline{\frac{1}{2\pi}}}$$



$$c) P = \frac{\int_0^{\pi/2} \cos x \, dx}{\pi} = \frac{[\sin x]_0^{\pi/2}}{\pi} = \underline{\underline{\frac{1}{\pi}}}$$



$$d) P = \frac{\pi - \int_0^2 (2x - x^2) \, dx}{\pi} = \frac{\pi - (4 - \frac{8}{3})}{\pi} = \underline{\underline{\frac{\pi - \frac{4}{3}}{\pi}}}$$



3323 Undersök sannolikheten för att andragrads-
 ekvationen $x^2 + px + q = 0$
 har reella rötter, om p och q väljs slumpvis
 som reella tal i intervallet

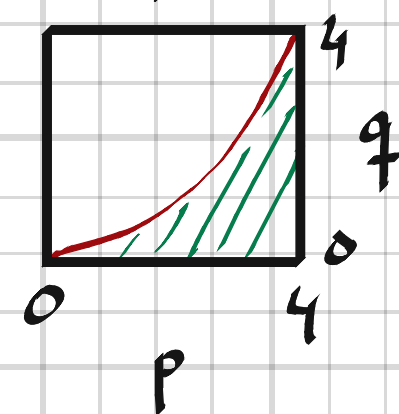
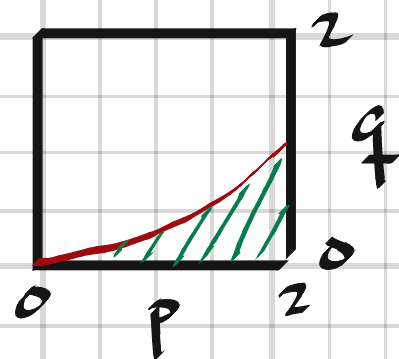
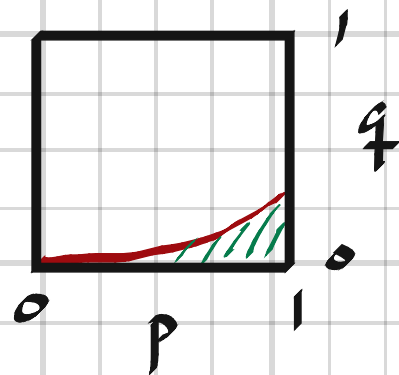
- a) mellan 0 och 1
- b) mellan 0 och 2
- c) mellan 0 och 4.

3323 Reella rötter $\Rightarrow q \leq \frac{p^2}{4}$

$$a) P = \frac{\int_0^1 p^2 dp}{1} = \frac{1}{4} \cdot \frac{1}{3} = \underline{\frac{1}{12}}$$

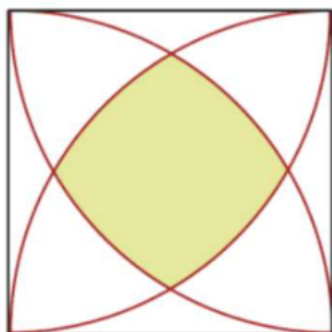
$$b) P = \frac{\int_0^2 p^2 dp}{4} = \frac{1}{4} \cdot \frac{8}{3} = \underline{\frac{1}{6}}$$

$$c) P = \frac{\int_0^4 p^2 dp}{16} = \frac{1}{4} \cdot \frac{64}{3} = \underline{\frac{1}{3}}$$

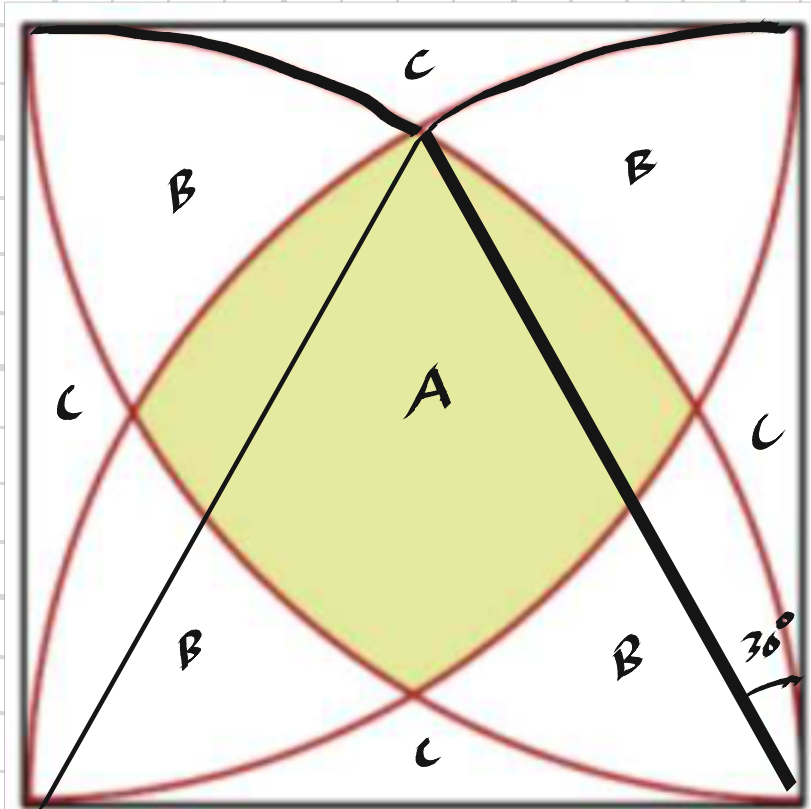


3324 En fallskärmshoppare landar slumpvis inom ett kvadratisk skogsområde med sidan 1 mil.

I områdets fyra hörn finns radiosändare.



Vad är sannolikheten att hon i sin radio kan höra alla sändarna om räckvidden är 1 mil?



3324,

$$\begin{cases} A + 4B + 4C = 1 & (\text{Hel kvadrat}) \\ A + 3B + 2C = \frac{\pi}{4} & (\text{Kvartscirkel}) \\ \frac{1 \cdot \frac{\sqrt{3}}{2}}{2} + 2 \cdot \frac{30}{360} \cdot \pi \cdot 1^2 + C = 1 & \text{Hel kvadrat} \\ & (\text{Triangelarean} + 2 \text{ cirkelbågar} + C) \end{cases}$$

$$\Rightarrow C = 1 - \frac{\sqrt{3}}{4} - \frac{\pi}{6} ; 4C = 4 - \sqrt{3} - \frac{2\pi}{3} = \frac{12 - 3\sqrt{3} - 2\pi}{3}$$

$$A + 4B = 1 - 4C = -3 + \sqrt{3} + \frac{2\pi}{3} = \frac{-36 + 12\sqrt{3} + 8\pi}{12}$$

$$A + 3B = \frac{\pi}{4} - 2C = \frac{\pi}{4} + \frac{\pi}{3} - 2 + \frac{\sqrt{3}}{2} = \frac{7\pi + 6\sqrt{3} - 24}{12}$$

$$B = \frac{-12 + 6\sqrt{3} + \pi}{12} ; 4B = \frac{-12 + 6\sqrt{3} + \pi}{3}$$

$$A = 1 - 4B - 4C = \frac{3 - 3\sqrt{3} + \pi}{3} \approx \underline{\underline{0.315}}$$

3327 Bestäm med partiell integration

a) $\int x \cdot e^{2x} dx$ b) $\int x \cdot \cos 2x dx$

3327,

$$a) \int x e^{2x} dx = \frac{x e^{2x}}{2} - \int 1 \cdot \frac{e^{2x}}{2} dx + C = \frac{x e^{2x}}{2} - \frac{e^{2x}}{4} + C$$

$$b) \int x \cdot \cos 2x dx = x \cdot \frac{1}{2} \sin 2x - \int 1 \cdot \frac{1}{2} \sin 2x dx + C = \\ = \frac{x}{2} \sin 2x + \frac{1}{4} \cos 2x + C$$

Lösning i Geogebra:

The screenshot shows the Geogebra CAS interface. The top toolbar contains various mathematical symbols: equals, approximate, checkmark, 15/3.5, parentheses, a square with a diagonal line, x=, x≈, f', ∫, and a calculator icon. The main workspace is divided into two columns. The left column contains a list of functions: f(x) = x e^{2x} (green circle), g(x) = x cos(2x) (red circle), and an 'Input...' field. The right column shows the results of the integrations: 1. integralsymbolic(f) → $\frac{1}{4} e^{2x} (2x - 1) + c_1$; 2. integralsymbolic(g) → $\frac{1}{4} \cos(2x) + \frac{1}{2} x \sin(2x) + c_2$; 3. (empty row). A small 'x=' button is visible in the top right corner of the workspace.

3328 Bestäm

a) $\int x \cdot \ln x dx$

b) $\int x^2 \cdot e^x dx$

3328.

$$\begin{aligned} \text{a) } \int x \cdot \ln x dx &= \frac{x^2}{2} \cdot \ln x - \int \frac{x^2}{2} \cdot \frac{1}{x} dx + C = \\ &= \underline{\underline{\frac{x^2 \ln x}{2} - \frac{x^2}{4} + C}} \end{aligned}$$

$$\begin{aligned} \text{b) } \int x^2 \cdot e^x dx &= x^2 e^x - \int 2x \cdot e^x dx + C = \\ &= x^2 e^x - 2x e^x + \int 2 \cdot e^x dx + C = \underline{\underline{e^x (x^2 - 2x + 2) + C}} \end{aligned}$$

3329 Beräkna

a) $\int_0^{\pi/2} x \cos x dx$

b) $\int_1^2 x^2 \ln x dx$

3329.

$$\begin{aligned} \text{a) } \int_0^{\pi/2} x \cos x dx &= [x \sin x]_0^{\pi/2} - \int_0^{\pi/2} 1 \cdot \sin x dx \\ &= [x \sin x]_0^{\pi/2} + [\cos x]_0^{\pi/2} = \underline{\underline{\frac{\pi}{2} - 1}} \end{aligned}$$

$$\begin{aligned} \text{b) } \int_1^2 x^2 \ln x dx &= \left[\frac{x^3}{3} \ln x \right]_1^2 - \int_1^2 \frac{x^3}{3} \cdot \frac{1}{x} dx \\ &= \left[\frac{x^3}{3} \ln x \right]_1^2 - \left[\frac{x^3}{9} \right]_1^2 = \frac{8}{3} \ln 2 - \frac{7}{9} = \underline{\underline{\frac{24 \ln 2 - 7}{9}}} \end{aligned}$$

3330 Beräkna

$$\int_0^2 (2x+1)(3x-1) dx$$

på två olika sätt, dels med partiell integration, och dels genom att först multiplicera ihop parenteserna.

Blev resultatet detsamma?

3330,

$$\int_0^2 (2x+1)(3x-1) dx = \left[(2x+1) \left(\frac{3x^2}{2} - x \right) \right]_0^2 - \int_0^2 2 \cdot \left(\frac{3x^2}{2} - x \right) dx =$$
$$= \left[(2x+1) \left(\frac{3x^2}{2} - x \right) \right]_0^2 - \left[x^3 - x^2 \right]_0^2 =$$

$$= 5 \cdot 4 - 0 - 4 + 0 = \underline{16}$$

$$\int_0^2 (6x^2 + x - 1) dx = \left[2x^3 + \frac{x^2}{2} - x \right]_0^2 = 16 + 2 - 2 = \underline{16}$$

3331 Beräkna

b

a) $\int_1^{e^2} (x + \ln x) dx$

b) $\int_0^1 e^x (x + 1) dx$

3331,

$$a) \int_1^{e^2} (x + \ln x) dx = \left[\frac{x^2}{2} \right]_1^{e^2} + \int_1^{e^2} \ln x dx =$$

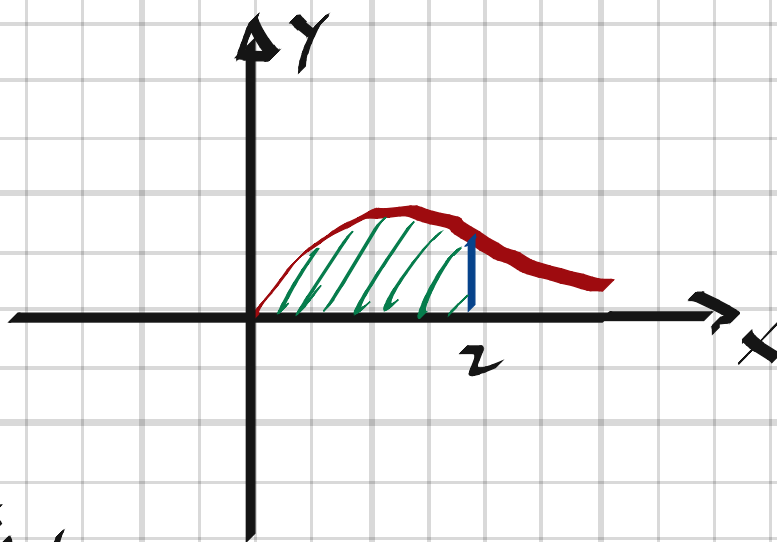
$$= \left[\frac{x^2}{2} \right]_1^{e^2} + [x \cdot \ln x]_1^{e^2} - \int_1^{e^2} x \cdot \frac{1}{x} dx =$$

$$= \left[\frac{x^2}{2} \right]_1^{e^2} + [x \cdot \ln x]_1^{e^2} - [x]_1^{e^2} = \frac{e^4}{2} - \frac{1}{2} + 2e^2 - 0 - e^2 + 1 =$$

$$= \underline{\frac{e^4}{2} + e^2 + \frac{1}{2}}$$

$$b) \int_0^1 e^x (x+1) dx = \int_0^1 e^x x dx + [e^x]_0^1 = [x e^x]_0^1 - \int_0^1 e^x dx + [e^x]_0^1 =$$
$$= [x e^x]_0^1 - [e^x]_0^1 + [e^x]_0^1 = \underline{e}$$

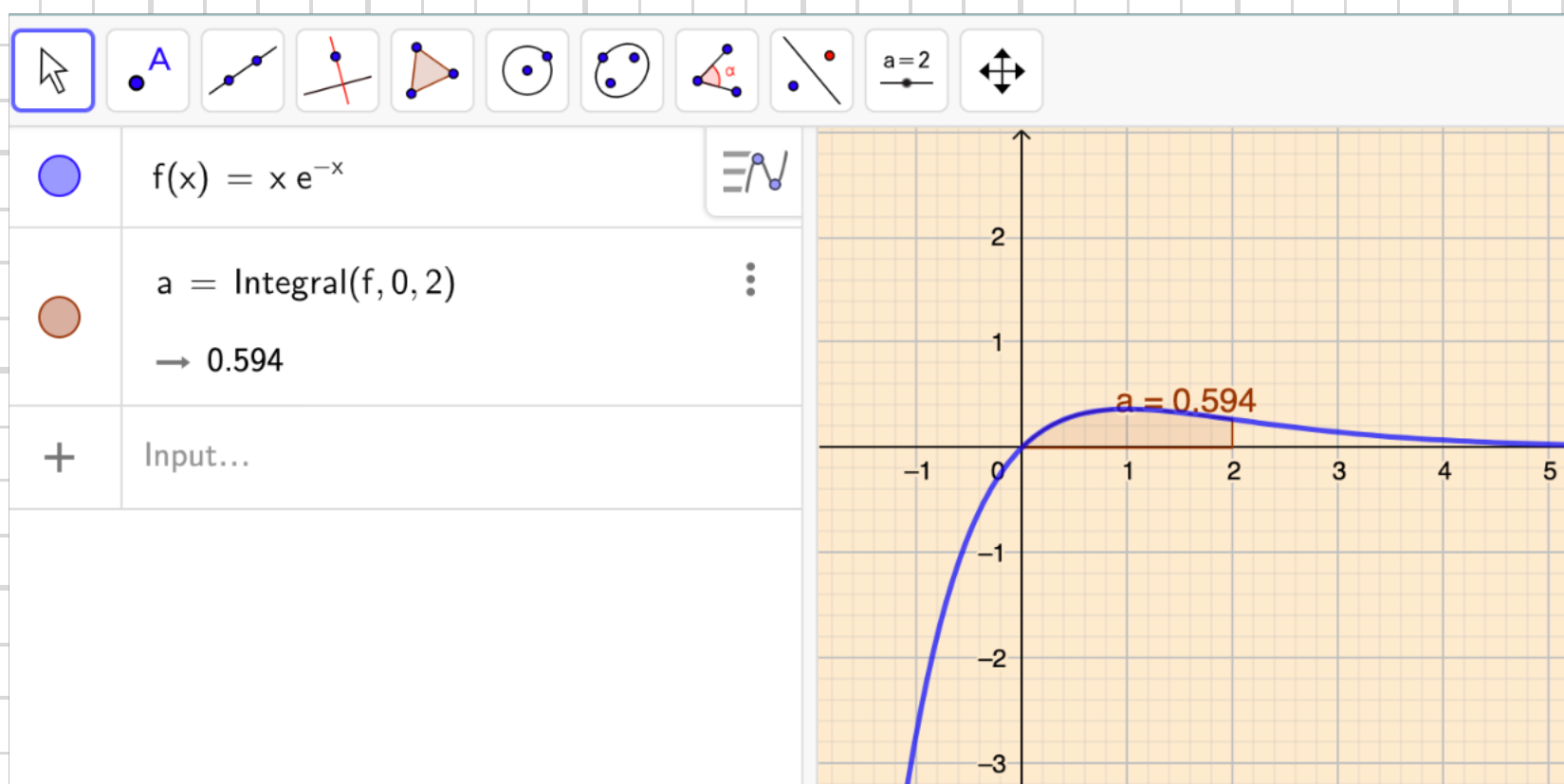
3332 Beräkna arean av det område som begränsas av kurvan $y = xe^{-x}$, x-axeln och linjen $x = 2$.



3332,

$$\begin{aligned} A &= \int_0^2 x e^{-x} dx = \left[-x \cdot e^{-x} \right]_0^2 - \int_0^2 (-e^{-x}) dx = \\ &= \left[-x e^{-x} \right]_0^2 - \left[e^{-x} \right]_0^2 = -2e^{-2} - e^{-2} + 1 \approx \underline{0.594 \text{ a.e.}} \end{aligned}$$

Lösning i Geogebra:



3333 Anna påstår att hon med partiell integration

kan "bevisa" att $0 = 1$.

$$\int \frac{1}{x} dx = \int 1 \cdot \frac{1}{x} dx =$$

$$= x \cdot \frac{1}{x} - \int x \cdot \left(-\frac{1}{x^2}\right) dx = 1 + \int \frac{1}{x} dx$$

$$\text{Alltså } \int \frac{1}{x} dx = 1 + \int \frac{1}{x} dx$$

Subtrahera $\int \frac{1}{x} dx$ från båda leden.

Resultat $0 = 1$

Finn felet i Annas "bevis".

3333,

$$VL = \int \frac{1}{x} dx = \ln x + C_1$$

\Rightarrow

$$HL = 1 + \int \frac{1}{x} dx = 1 + \ln x + C_2$$

$C_1 \neq C_2 \Rightarrow \int \frac{1}{x} dx$ kan inte subtraheras från bägge leden

3334 Kurvan $y = \sin x$ begränsar tillsammans med x -axeln och linjen $x = \pi/2$ ett område, vars tyngdpunkt betecknas (x_T, y_T) .

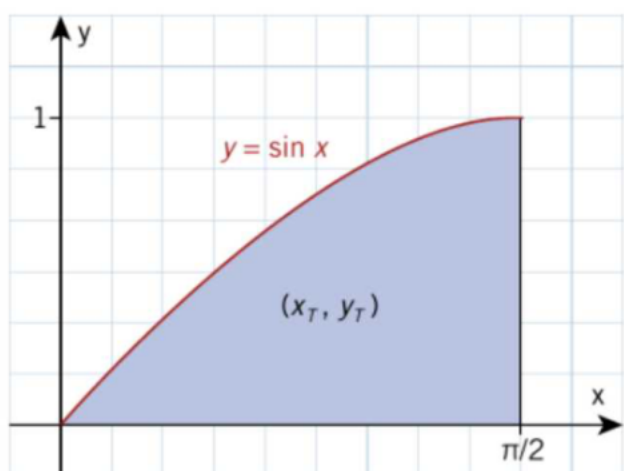
Tyngdpunktens koordinater kan beräknas med integralerna

$$x_T = \frac{1}{A} \int_0^{\pi/2} x \sin x \, dx$$

$$y_T = \frac{1}{2A} \int_0^{\pi/2} \sin^2 x \, dx$$

där A är områdets area.

Ange tyngdpunktens koordinater i exakt form och kontrollera rimligheten i svaret med hjälp av figuren nedan.



$$A = \int_0^{\pi/2} \sin x \, dx = [\cos x]_{\pi/2}^0 = 1 \text{ a.e.}$$

$$\Rightarrow x_T = \int_0^{\pi/2} x \sin x \, dx$$

$$y_T = \frac{1}{2} \int_0^{\pi/2} \sin^2 x \, dx$$

$$x_T = \int_0^{\pi/2} x \sin x \, dx = [-x \cos x]_0^{\pi/2} + \int_0^{\pi/2} \cos x \, dx = [-x \cos x]_0^{\pi/2} + [\sin x]_0^{\pi/2} = 1$$

$$\cos 2x = \cos^2 x - \sin^2 x = 1 - \sin^2 x - \sin^2 x = 1 - 2\sin^2 x \Rightarrow$$

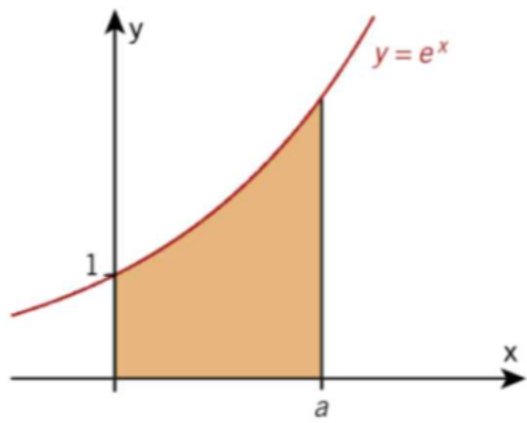
$$\sin^2 x = \frac{1 - \cos 2x}{2}$$

$$y_T = \frac{1}{2} \int_0^{\pi/2} \sin^2 x \, dx = \frac{1}{4} \int_0^{\pi/2} (1 - \cos 2x) \, dx = \frac{1}{4} \left[x - \frac{1}{2} \sin 2x \right]_0^{\pi/2} = \frac{\pi}{8}$$

$$\underline{(x_T, y_T) = \left(1, \frac{\pi}{8}\right)}$$

3337

a



Det färgade området roterar runt x-axeln.

- a) Beräkna rotationsvolymen då $a = 2$.
 b) Beräkna a då rotationsvolymen är 100π v.e.

3337.

$$a) \quad dV = \pi y^2 dx = \pi e^{2x} dx$$

$$V = \int_0^a dV = \int_0^a \pi e^{2x} dx = \frac{\pi}{2} [e^{2x}]_0^a = \frac{\pi}{2} (e^4 - 1) \approx 84,2 \text{ v.e.}$$

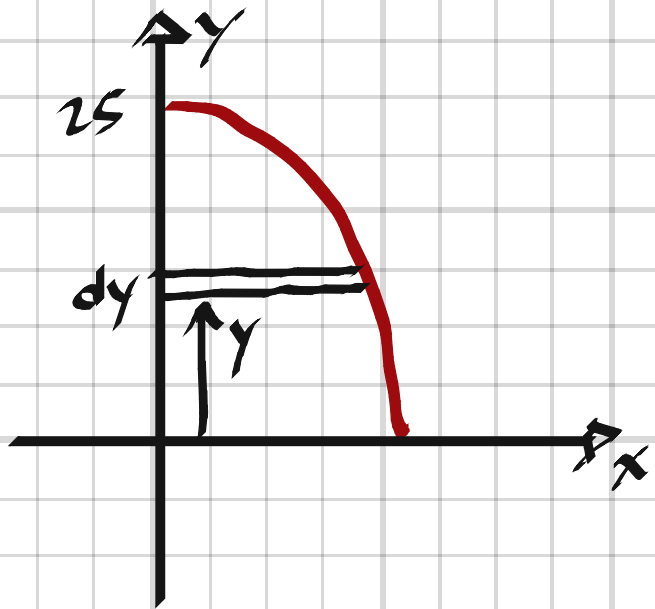
$$b) \quad \int_0^a \pi e^{2x} dx = 100\pi$$

$$\frac{\pi}{2} [e^{2x}]_0^a = 100\pi$$

$$e^{2a} - 1 = 200$$

$$a = \frac{\ln 201}{2} \approx 2,65 \text{ l.e.}$$

3338 Kurvan $y = 25 - x^2$ begränsar tillsammans med positiva x -axeln ett begränsat område. Beräkna volymen av den kropp som bildas då området roterar runt y -axeln.

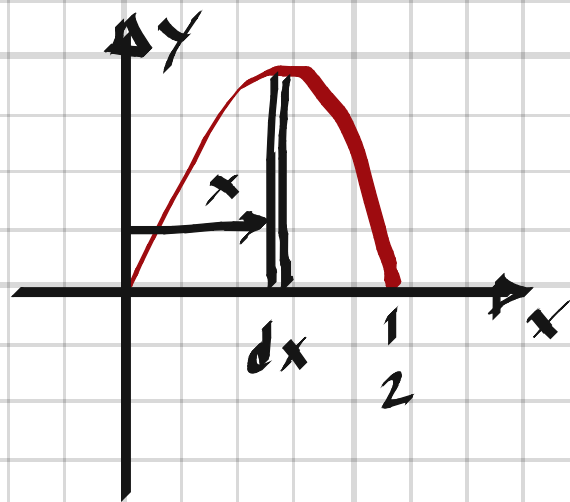


$$3338. \quad x^2 = 25 - y$$

$$dV = \pi x^2 \cdot dy = \pi (25 - y) dy$$

$$V = \int_0^{25} dV = \int_0^{25} \pi (25 - y) dy = \pi \cdot \left[25y - \frac{y^2}{2} \right]_0^{25} = \underline{32.5\pi \approx 982 \text{ v.e.}}$$

3339 Kurvan $y = x(4 - x^2)$ begränsar tillsammans med positiva x -axeln ett begränsat område. Beräkna volymen av den kropp som bildas då området roterar runt x -axeln.



$$3339. \quad dV = \pi y^2 \cdot dx = \pi x^2 (4 - x^2)^2 dx$$

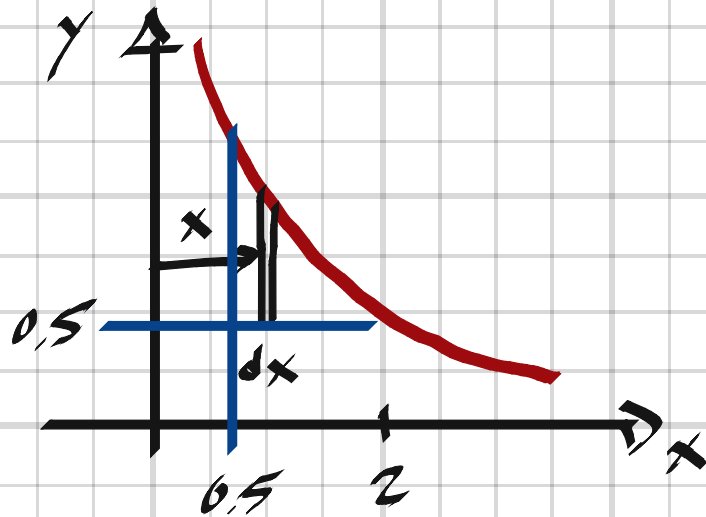
$$V = \int_0^2 dV = \pi \int_0^2 (16x^2 - 8x^4 + x^6) dx = \pi \cdot \left[\frac{16x^3}{3} - \frac{8x^5}{5} + \frac{x^7}{7} \right]_0^2 =$$

$$= \pi \cdot \frac{16 \cdot 8 \cdot 35 - 8 \cdot 32 \cdot 21 + 128 \cdot 15}{105} = \underline{\frac{1024\pi}{105} \approx 30.6 \text{ v.e.}}$$

3340 Ett område i första kvadranten begränsas av

b kurvan $y = \frac{1}{x}$ och linjerna $y = 0,5$ och $x = 0,5$.

Beräkna volymen av den kropp som bildas då området roterar runt x-axeln.



3340.

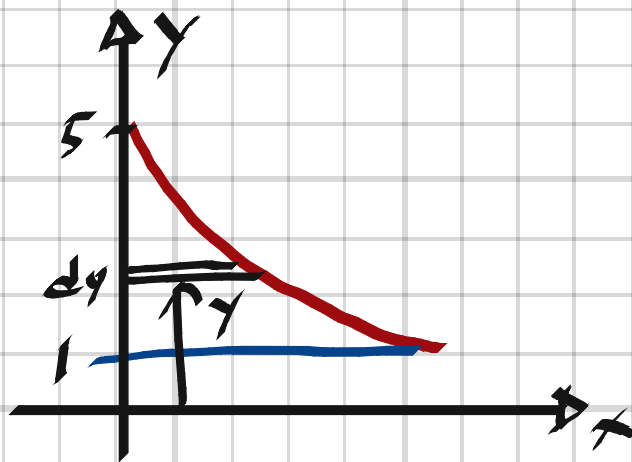
$$dV = \pi \cdot (y^2 - y_0^2) \cdot dx = \pi \left(\frac{1}{x^2} - 0,25 \right) dx$$

$$V = \int_{0,5}^2 dV = \pi \left[-\frac{1}{x} - 0,25x \right]_{0,5}^2 = \pi \left(-\frac{1}{2} - \frac{1}{2} + 2 + \frac{1}{8} \right) = \frac{9\pi}{8} \approx 3,5 \text{ v.e.}$$

3341 Ett område i första kvadranten begränsas av

y-axeln, kurvan $y = \frac{5}{1+x}$ och linjen $y = 1$.

Beräkna volymen av den kropp som bildas då området roterar runt y-axeln.



3341.

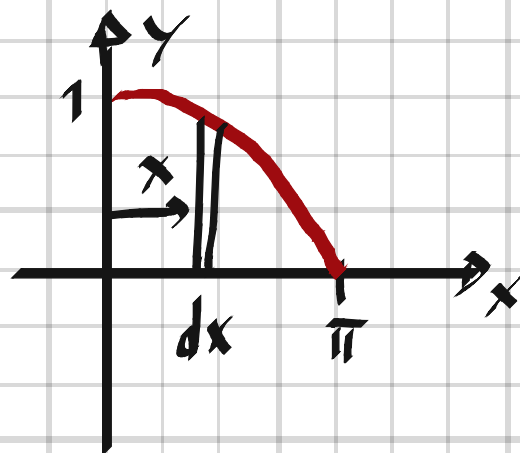
$$x = \frac{5}{y} - 1$$

$$dV = \pi x^2 dy = \pi \left(\frac{5}{y} - 1 \right)^2 dy = \pi \left(\frac{25}{y^2} - \frac{10}{y} + 1 \right) dy$$

$$V = \int_1^5 dV = \pi \cdot \int_1^5 \left(\frac{25}{y^2} - \frac{10}{y} + 1 \right) dy = \pi \left[-\frac{25}{y} - 10 \ln y + x \right]_1^5 =$$

$$= \pi (-5 - 10 \ln 5 + 5 + 25 - 1) = \pi (24 - 10 \ln 5) \approx 24,8 \text{ v.e.}$$

3342 Kurvan $y = \sin x$, $0 \leq x \leq \pi$, begränsar tillsammans med x -axeln ett område. Visa att då området roterar runt x -axeln bildas en kropp med volymen $\frac{\pi^2}{2}$ v.e.



3342,
$$dV = \pi y^2 dx = \pi \sin^2 x dx$$

$$\cos 2x = \cos^2 x - \sin^2 x = 1 - \sin^2 x - \sin^2 x = 1 - 2\sin^2 x$$

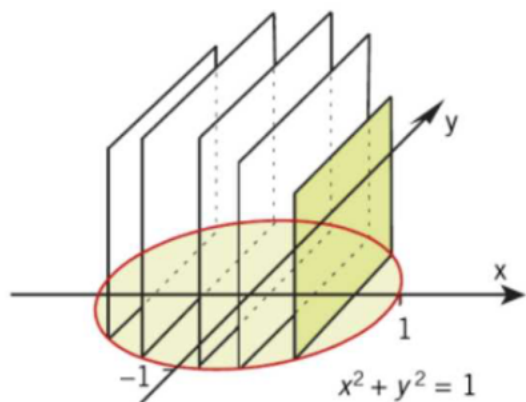
$$\sin^2 x = \frac{1 - \cos 2x}{2}$$

$$V = \int_0^{\pi} dV = \frac{\pi}{2} \int_0^{\pi} (1 - \cos 2x) dx = \frac{\pi}{2} \left[x - \frac{1}{2} \sin 2x \right]_0^{\pi} = \frac{\pi^2}{2}$$

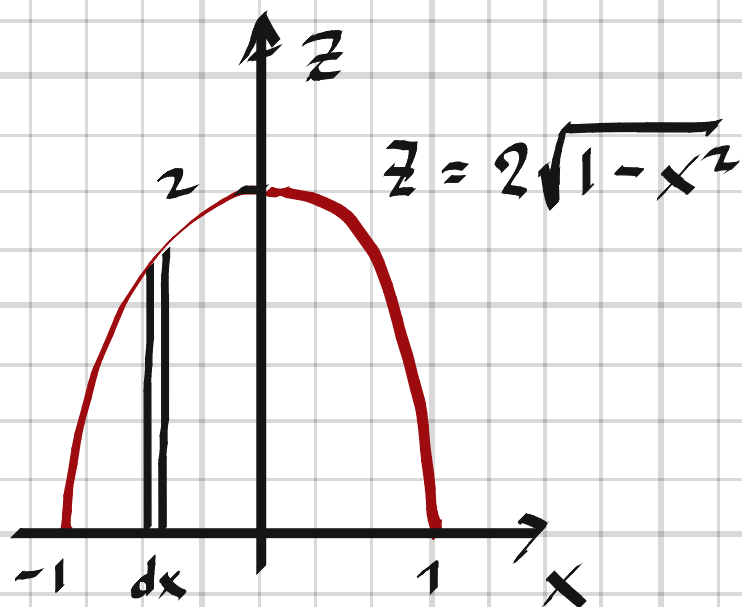
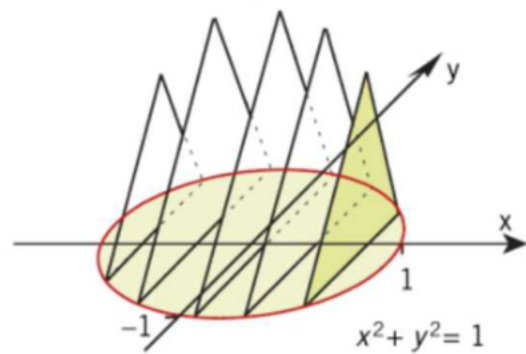
3343 En kropp har en cirkulär basyta med radien 1 längdenhet.

Beräkna kroppens volym, om varje mot y-axeln vinkelrätt plan som skär kroppen har en snittyta som är

a) en kvadrat



b) en liksidig triangel.



a)

$$dV = z^2 \cdot dx = 4(1-x^2) dx$$

$$V = \int_{-1}^1 dV = 4 \cdot \int_{-1}^1 (1-x^2) dx = 4 \cdot \left[x - \frac{x^3}{3} \right]_{-1}^1 = 4 \left(1 - \frac{1}{3} - \left(-1 + \frac{1}{3} \right) \right) = \underline{\underline{\frac{16}{3} \text{ v.e.}}}$$

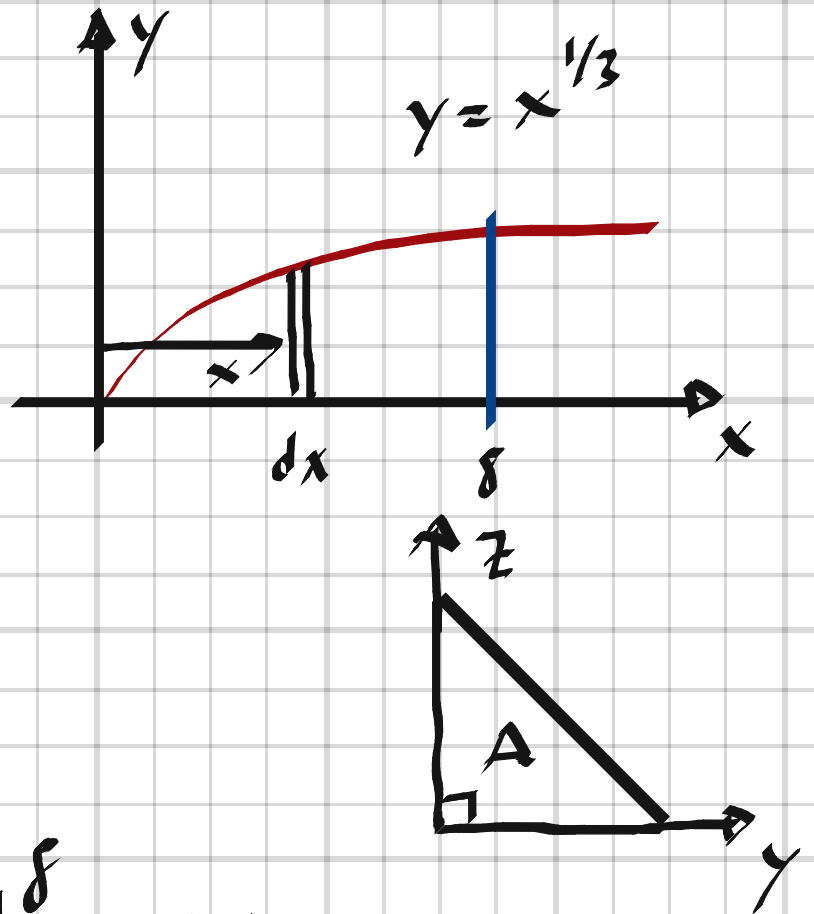
b)

$$dV = \frac{z \cdot \frac{z}{2} \cdot \sqrt{3}}{2} \cdot dx = \frac{z^2 \sqrt{3}}{4} dx = \sqrt{3} \cdot (1-x^2)$$

$$V = \int_{-1}^1 dV = \sqrt{3} \cdot \int_{-1}^1 (1-x^2) dx = \underline{\underline{\frac{4\sqrt{3}}{3} \text{ v.e.}}}$$

3344 En kropp har som basyta det område som begränsas av kurvan $y = x^{1/3}$, x -axeln och linjen $x = 8$.

Beräkna kroppens volym, om varje mot x -axeln vinkelrätt plan som skär kroppen har en snittyta som är en likbent, rätvinklig triangel med den räta vinkeln på x -axeln.



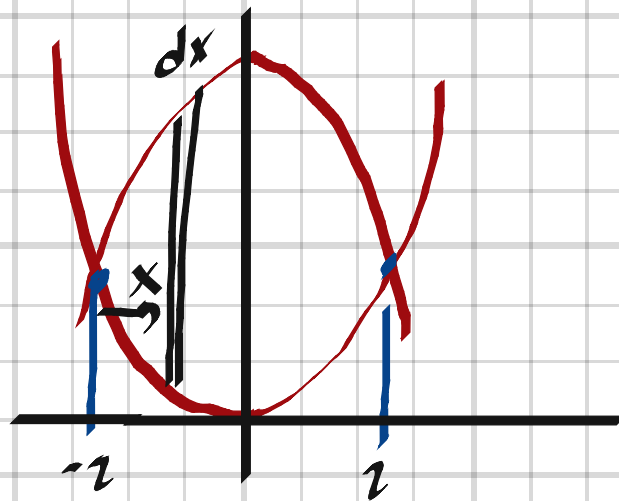
3344,
$$A = \frac{y^2}{2} = \frac{x^{2/3}}{2}$$

$$dV = A dx = \frac{x^{2/3}}{2} dx$$

$$V = \int_0^8 dV = \frac{1}{2} \int_0^8 x^{2/3} dx = \frac{3}{10} \left[x^{5/3} \right]_0^8 = \underline{\underline{9.6 \text{ v.e.}}}$$

3345 En kropp har som basyta det område som begränsas av de båda kurvorna $y = x^2$ och $y = 8 - x^2$. Varje mot x -axeln vinkelrätt plan som skär kroppen har en snittyta som är en kvadrat.

Beräkna kroppens volym.



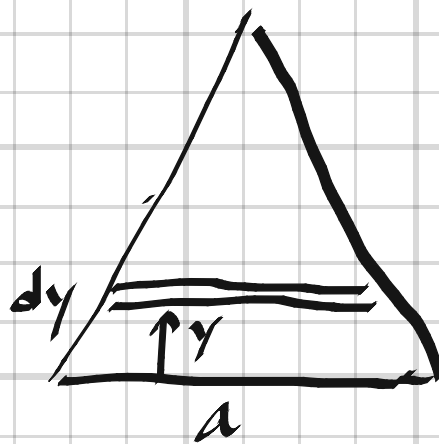
$$x^2 = 8 - x^2 \Rightarrow x = \pm 2$$

$$A = (8 - x^2 - x^2)^2 = (8 - 2x^2)^2 = 64 - 32x^2 + 4x^4; \quad dV = A \cdot dx$$

$$V = 2 \cdot \int_0^2 dV = 2 \cdot \int_0^2 (64 - 32x^2 + 4x^4) dx = 2 \left[64x - \frac{32x^3}{3} + \frac{4x^5}{5} \right]_0^2 =$$

$$= 2 \left(128 - \frac{256}{3} + \frac{128}{5} \right) = 2 \cdot \frac{128 \cdot 15 - 256 \cdot 5 + 128 \cdot 3}{15} = \underline{\underline{\frac{2048}{15} \text{ v.e.}}}$$

3346 Visa att volymen av en pyramid med kvadratisk basyta med sidan a kan beräknas med formeln $\frac{a^2 h}{3}$ där h är pyramidens höjd.



3346.

$$y = h\left(1 - \frac{x}{a}\right) \Rightarrow x = a\left(1 - \frac{y}{h}\right)$$

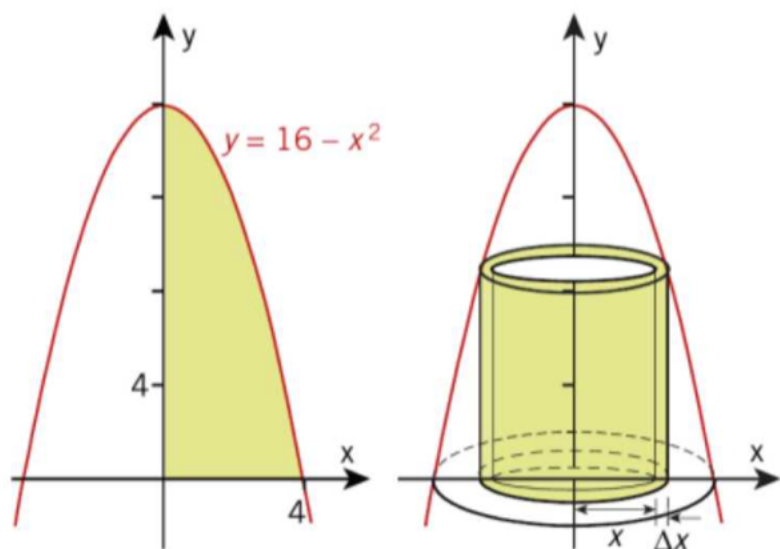
$$A = x^2 = a^2\left(1 - \frac{y}{h}\right)^2$$

$$dv = A dy = a^2\left(1 - \frac{y}{h}\right)^2 dy$$

$$V = \int_0^h dv = a^2 \int_0^h \left(1 - \frac{y}{h}\right)^2 dy = a^2 \int_0^h \left(1 - \frac{2y}{h} + \frac{y^2}{h^2}\right) dy =$$

$$= a^2 \left[y - \frac{y^2}{h} + \frac{y^3}{3h^2} \right]_0^h = a^2 \left(h - h + \frac{h}{3} \right) = \frac{a^2 h}{3} \quad \#$$

- 3348 Det område som begränsas av kurvan $y = 16 - x^2$, positiva x -axeln och y -axeln får rotera kring y -axeln. Rotationskroppen delas upp i sk "cylindriska skal".



- a) Teckna volymen ΔV av det cylindriska skal som markerats i figuren.
b) Beräkna rotationskroppens volym.

3348,

$$a) \quad \underline{\Delta V = 2\pi x \cdot \Delta x \cdot y}$$

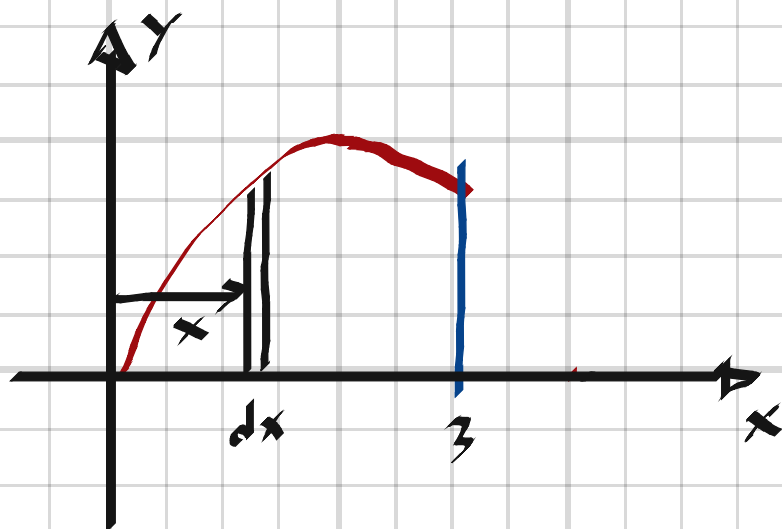
$$\lim_{\Delta x \rightarrow 0} \Delta V = dV$$

$$b) \quad V = \int_0^4 dV = 2\pi \int_0^4 x(16 - x^2) dx =$$

$$= 2\pi \left[8x^2 - \frac{x^4}{4} \right]_0^4 = 2\pi(128 - 64) = \underline{128\pi \text{ v.e.}}$$

- 3349 Det område som begränsas av kurvan $y = 4x - x^2$, x -axeln och linjen $x = 3$ får rotera kring y -axeln.

- a) Beräkna rotationskroppens volym genom att använda metoden med cylindriska skal.
b) Visa genom överslagsräkning att ditt resultat är rimligt.



3349,

$$a) \quad dV = 2\pi x dx \cdot y = 2\pi(4x^2 - x^3) dx$$

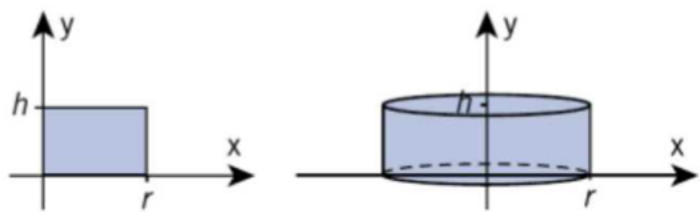
$$V = \int_0^3 dV = 2\pi \int_0^3 (4x^2 - x^3) dx = 2\pi \cdot \left[\frac{4x^3}{3} - \frac{x^4}{4} \right]_0^3 =$$

$$= 2\pi \left(36 - \frac{81}{4} \right) = \underline{\frac{63\pi}{2} \approx 99 \text{ v.e.}}$$

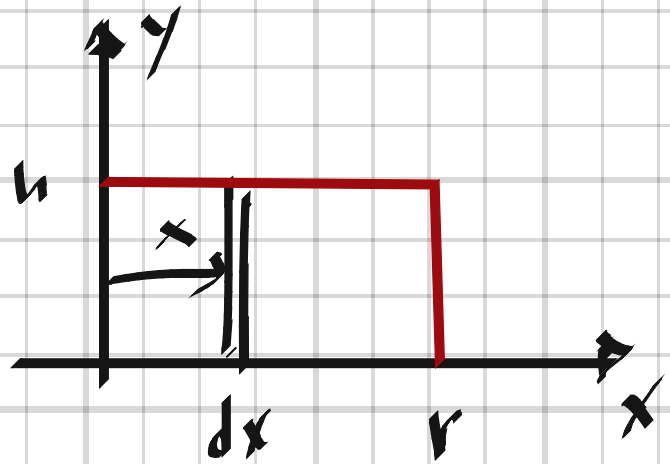
- b) En cylinder med $r = 3$ och $h = 3 \Rightarrow$

$$V = \pi \cdot 3^2 \cdot 3 = 27\pi \approx 85 \text{ v.e.} \Rightarrow \text{Ja, resultatet är rimligt.}$$

3350



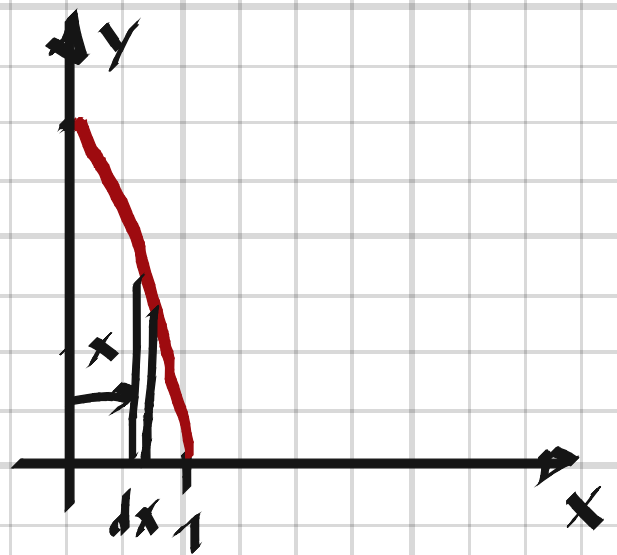
"Pucken" ovanför har volymen $V = \pi r^2 h$.
Visa hur du får detta resultat med hjälp av
skalmetoden.



$$3350. \quad dV = 2\pi x \cdot dx \cdot h$$

$$V = \int_0^r dV = 2\pi h \int_0^r x dx = 2\pi h \left[\frac{x^2}{2} \right]_0^r = \pi r^2 h$$

3351 Kurvan $y = 3 - 2x - x^2$ innesluter tillsammans med positiva koordinataxlarna ett område som roterar kring y-axeln. Bestäm rotationskroppens volym.



$$3351. \quad y=0 \Rightarrow x^2 + 2x - 3 = 0$$

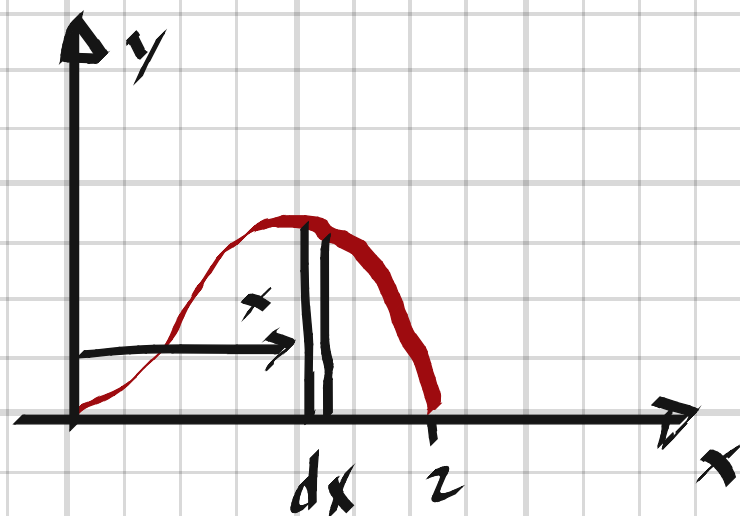
$$(x-1)(x+3) = 0$$

$$dV = 2\pi x dx \cdot y = 2\pi(3x - 2x^2 - x^3) dx$$

$$V = \int_0^1 dV = 2\pi \int_0^1 (3x - 2x^2 - x^3) dx = 2\pi \cdot \left[\frac{3x^2}{2} - \frac{2x^3}{3} - \frac{x^4}{4} \right]_0^1 =$$

$$= 2\pi \left(\frac{3}{2} - \frac{2}{3} - \frac{1}{4} \right) = 2\pi \cdot \frac{18-8-3}{12} = \frac{7\pi}{6} \approx 3.67 \text{ v.e.}$$

3352 Beräkna volymen av den rotations kropp som uppkommer då det område som begränsas av kurvan $y = 2x^2 - x^3$ och x-axeln i första kvadranten roterar kring y-axeln.



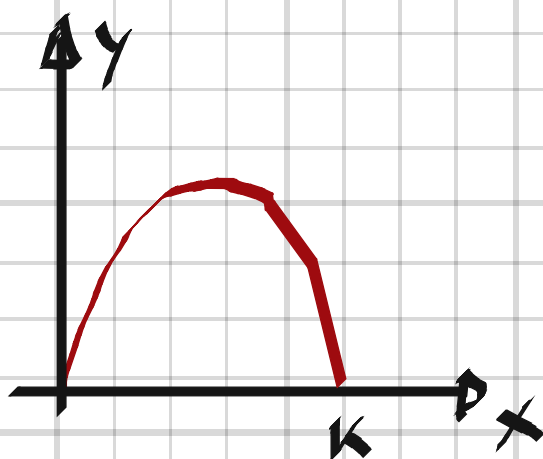
3352.

$$dV = 2\pi x dx \cdot y = 2\pi (2x^3 - x^4) dx$$

$$V = \int_0^2 dV = 2\pi \int_0^2 (2x^3 - x^4) dx = 2\pi \left[\frac{x^4}{2} - \frac{x^5}{5} \right]_0^2 = \frac{16\pi}{5} \approx 10.1 \text{ v.e.}$$

3353 Det område som begränsas av kurvan $y = kx - x^2$, där $k > 0$, och x-axeln får rotera först kring x-axeln och sedan kring y-axeln.

Bestäm konstanten k så att de båda rotationskropparna får samma volym.



3353. $y = x(k - x)$

$$dV_x = \pi y^2 dx = \pi x^2 (k - x)^2 dx = \pi (k^2 x^2 - 2kx^3 + x^4) dx$$

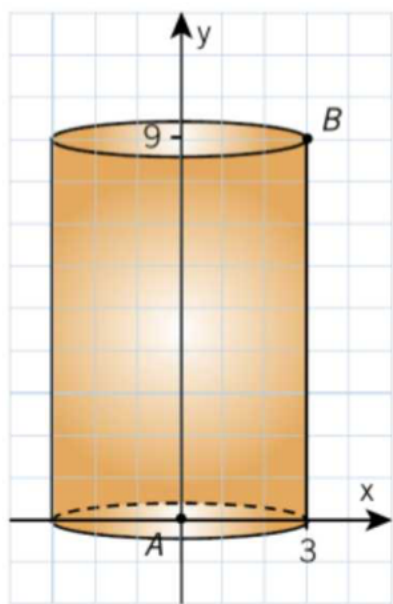
$$dV_y = 2\pi x dx \cdot y = 2\pi x^2 (k - x) dx = 2\pi (kx^2 - x^3) dx$$

$$V_x = V_y \Rightarrow \int_0^k dV_x = \int_0^k dV_y \Rightarrow$$

$$\frac{k^5}{3} - \frac{k^5}{2} + \frac{k^5}{5} = \frac{2k^4}{3} - \frac{k^4}{2}; \quad 10k^2 - 15k^2 + 6k^2 = 20k - 15k$$

$$k^2 = 5k, \quad k > 0 \Rightarrow \underline{k = 5}$$

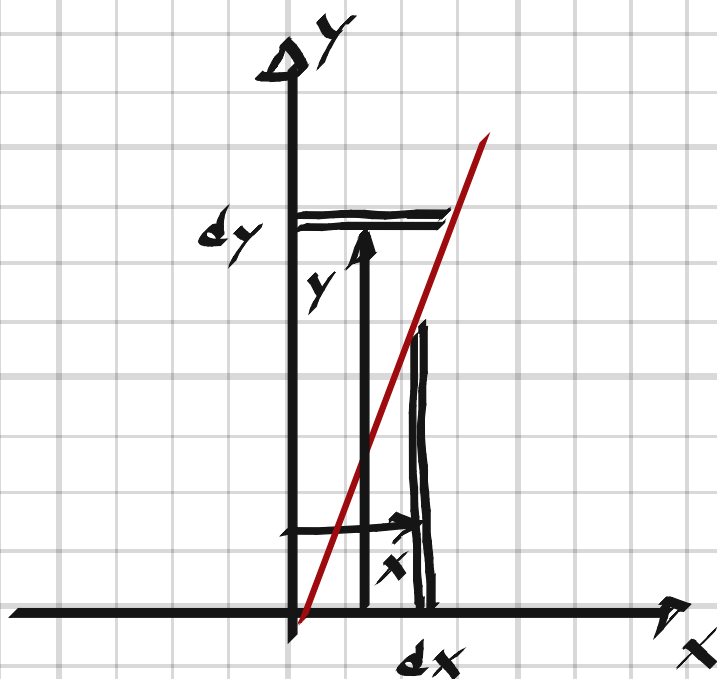
3354



Figuren visar en cylinder med två punkter, A och B i xy-planet.

Bestäm en egen funktion, $y = f(x)$, som går genom A och B.

Visa sedan hur du med hjälp av två rotationsvolymer kan bestämma hela burkens volym.



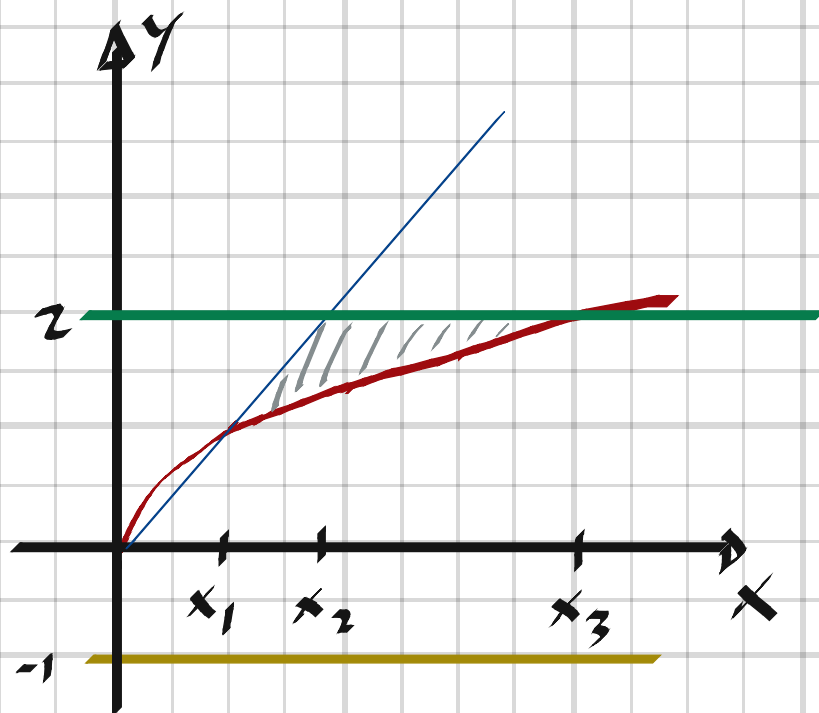
$$3354, \quad y = 3x$$

$$dV_1 = 2\pi x dx \cdot y = 6\pi x^2 dx$$

$$dV_2 = \pi x^2 dy = \frac{\pi}{9} y^2 dy$$

$$V = \int_0^3 dV_1 + \int_0^9 dV_2 = 6\pi \int_0^3 x^2 dx + \frac{\pi}{9} \int_0^9 y^2 dy = 54\pi + 27\pi = \underline{81\pi \text{ v.e.}}$$

3355 Det område som begränsas av kurvan $y = \sqrt{x}$, linjen $y = x$ och linjen $y = 2$ får rotera kring linjen $y = -1$. Beräkna rotationskroppens volym.



$$x_1 = 1, x_2 = 2, x_3 = 4$$

$$dV_1 = \pi \left((x+1)^2 - (\sqrt{x+1})^2 \right) dx$$

$$dV_2 = \pi \left((2+1)^2 - (\sqrt{x+1})^2 \right) dx$$

$$V = \int_{x_1}^{x_2} dV_1 + \int_{x_2}^{x_3} dV_2 = \pi \int_1^2 (x^2 + 2x + 1 - x - 2\sqrt{x} - 1) dx +$$

$$+ \pi \int_2^4 (4 - x - 2\sqrt{x} - 1) dx = \pi \int_1^2 (x^2 + x - 2\sqrt{x}) dx + \pi \int_2^4 (3 - x - 2\sqrt{x}) dx$$

$$\pi \left[\frac{x^3}{3} + \frac{x^2}{2} - \frac{4x\sqrt{x}}{3} \right]_1^2 + \pi \left[3x - \frac{x^2}{2} - \frac{4x\sqrt{x}}{3} \right]_2^4 =$$

$$= \pi \left(\frac{8}{3} + 2 - \frac{8\sqrt{2}}{3} - \frac{1}{3} - \frac{1}{2} + \frac{4}{3} \right) + \pi \left(12 - 8 - \frac{32}{3} - 16 + 2 + \frac{8\sqrt{2}}{3} \right)$$

$$= \pi \left(\frac{8-1-32+4}{3} - \frac{1}{2} + 2 + 12-8-16+2 \right) = \pi \left(-\frac{21}{3} - \frac{1}{2} + 12 \right) =$$

$$= \pi \cdot \frac{-42-3+72}{6} = \frac{27\pi}{6} = \frac{9\pi}{2} \text{ v.e.}$$

3357 a) $\int_1^{\infty} \frac{1}{x^4} dx$

a

b) $\int_1^{\infty} 5x^{-2/3} dx$

3357.

$$a) \lim_{t \rightarrow \infty} \int_1^t \frac{1}{x^4} dx = \lim_{t \rightarrow \infty} \left[\frac{1}{3x^3} \right]_1^t = \lim_{t \rightarrow \infty} \left(\frac{1}{3} - \frac{1}{3t^3} \right) = \underline{\frac{1}{3}}$$

(Konvergent)

$$b) \lim_{t \rightarrow \infty} \int_1^t \frac{5}{x^{2/3}} dx = \lim_{t \rightarrow \infty} 15 \left[x^{1/3} \right]_1^t = \lim_{t \rightarrow \infty} 15(t^{1/3} - 1) = \underline{\infty}$$

(Divergent)

3358 a) $\int_1^{\infty} \frac{1}{x^{1.01}} dx$

b) $\int_1^{\infty} \frac{1}{x^{0.99}} dx$

3358.

$$a) \lim_{t \rightarrow \infty} \int_1^t \frac{1}{x^{1.01}} dx = 100 \cdot \lim_{t \rightarrow \infty} \left[\frac{1}{x^{0.01}} \right]_1^t = 100 \lim_{t \rightarrow \infty} \left(1 - \frac{1}{t^{0.01}} \right) = \underline{100}$$

(Konvergent)

$$b) \lim_{t \rightarrow \infty} \int_1^t \frac{1}{x^{0.99}} dx = 100 \cdot \lim_{t \rightarrow \infty} \left[x^{0.01} \right]_1^t = 100 \cdot \lim_{t \rightarrow \infty} (t^{0.01} - 1) = \underline{\infty}$$

(Divergent)

3359 a) $\int_0^{\infty} \cos x dx$ b) $\int_0^{\infty} 2x \cdot e^{-x^2} dx$

b

3359.

$$a) \lim_{t \rightarrow \infty} \int_0^t \cos x dx = \lim_{t \rightarrow \infty} [\sin x]_0^t = \lim_{t \rightarrow \infty} (\sin t) = \underline{\pm 1}$$

(Divergent)

$$b) \lim_{t \rightarrow \infty} \int_0^t 2x e^{-x^2} dx = \lim_{t \rightarrow \infty} [e^{-x^2}]_0^t = \lim_{t \rightarrow \infty} (1 - e^{-t^2}) = \underline{1}$$

(konvergent)

3360 Kurvan $y = \frac{1}{x}$ begränsar tillsammans med

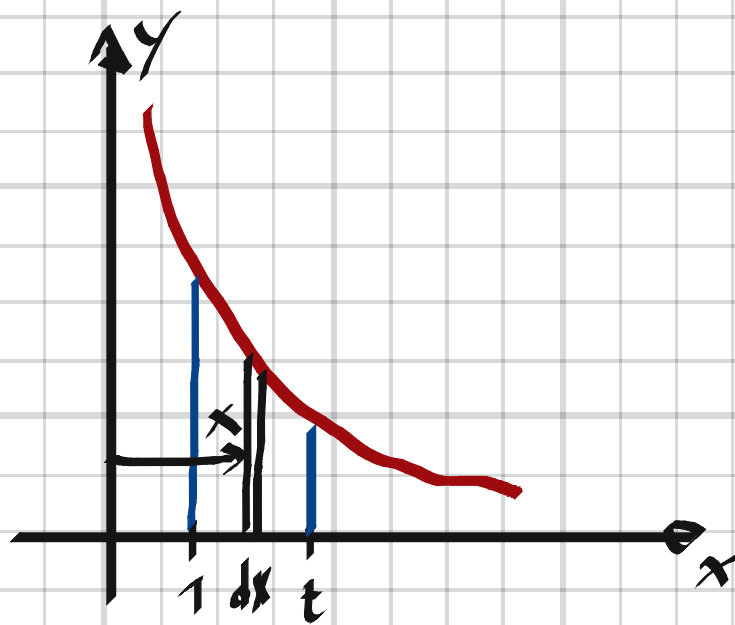
Ⓒ x -axeln, linjen $x = 1$ och linjen $x = t, t > 1$, ett område. När detta område, vars area är $A(t)$, roteras runt x -axeln, bildas en rotationskropp med volymen $V(t)$.

a) Beräkna $A(2)$ och $V(2)$.

b) Beräkna $A(10)$ och $V(10)$.

c) Undersök om arean $A(t)$ och volymen $V(t)$ närmar sig bestämda värden då t växer obegränsat.

Verkar resultaten rimliga?



$$3360. \quad dA = y dx = \frac{1}{x} dx$$

$$A(t) = \int_1^t dA = \int_1^t \frac{1}{x} dx = [\ln x]_1^t = \ln t$$

$$dV = \pi y^2 dx = \pi \cdot \frac{1}{x^2} dx$$

$$V(t) = \int_1^t dV = \pi \cdot \int_1^t \frac{1}{x^2} dx = \pi \left[-\frac{1}{x} \right]_1^t = \pi \left(1 - \frac{1}{t} \right)$$

$$a) \quad A(2) = \ln 2 \quad ; \quad V(2) = 0.5\pi$$

$$b) \quad A(10) = \ln 10 \quad ; \quad V(10) = 0.9\pi$$

$$c) \quad A(t) \rightarrow \infty, \quad t \rightarrow \infty$$

Arean divergent

$$V(t) \rightarrow \pi, \quad t \rightarrow \infty$$

Volymen konvergent