

Agent Antons Spil om tælling

Hvor mange her ?



Du skal bruge en 6-sidet terning.







Slå med terningen og skriv det tal eller talordet, som du slår.

Når en kolonne er fyldt, skal du stoppe.



Hvad er slået flest gange? Hvad er slået færrest gange?

Skriv det på linjen.

Et	To	Tre	Fire	Fem	Seks
					
					6
et					6

Flest: _____

Færrest: _____



Agent Antons Spil om tælling



Du skal bruge en 10-sidet terning. Slå med terningen og skriv det tal, som du slår.
 Hvad er slået flest gange? Hvad er slået færrest gange? Skriv det på linjen.

0	1	2	3	4	5	6	7	8	9
0		2							

Flest: _____ Færrest: _____