

21

Hvilket tall er stjerna?

$$\text{😊} + \text{😊} + \text{😊} = 9$$

$$\text{★} + \text{😊} = 5$$


$$\text{★} = ?$$

22

På en bondegård er det både griser og høner. Ute på gårdsplassen er det 12 føtter. Hvor mange griser og høner kan det være på gårdsplassen? Finnes det flere svar?

23

Hvilken farge skal være på de hvite feltene?




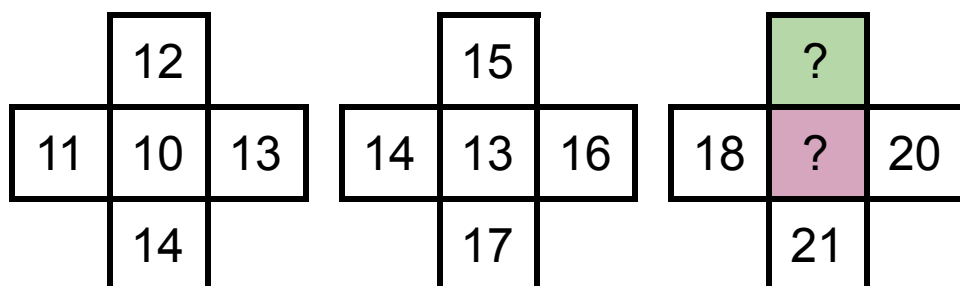
24

Sett inn + og - slik at regnestykket blir rett.

$$5 \square 1 \square 4 = 8$$

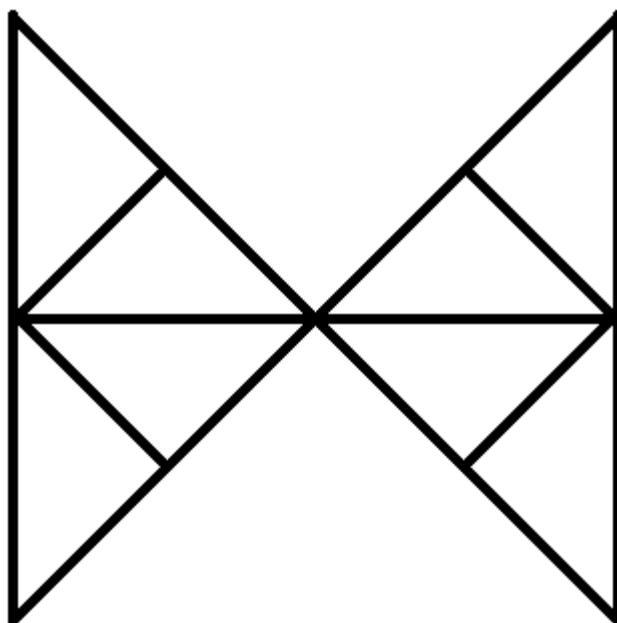
25

Hvilke tall mangler?



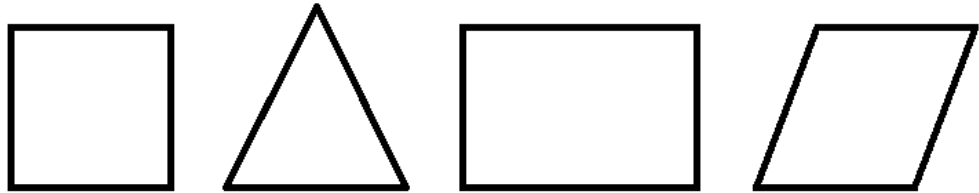
26

Hvor mange trekanter finner du?



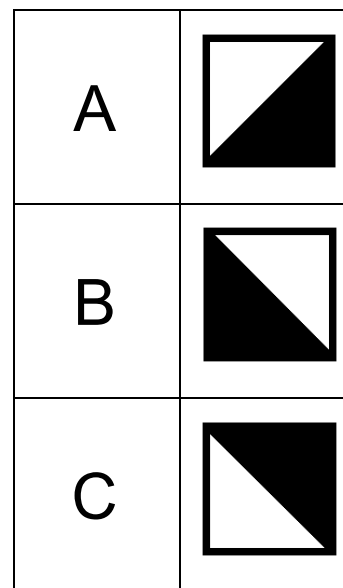

27

Hvilken figur passer ikke inn? Kan det finnes flere svar?



28

Hvilken figur mangler?



29

Sett inn + og - slik at regnestykket blir rett.

$$4 \square 4 \square 3 = 5$$

30

Hva blir svaret?

$$\blacktriangle + \blacktriangle = 4$$

$$\bullet + \bullet = 6$$

$$\text{♪} + \text{♪} = 8$$

$$\blacktriangle + \bullet + \text{♪} = ?$$

31

Jonas har 5 klinkekuler.

Kurt hadde 3 klinkekuler, men nå har han dobbelt så mange.

Lisa hadde 8 klinkekuler, men mistet halvparten.

Hvem har flest klinkekuler?

Hvem har færrest?

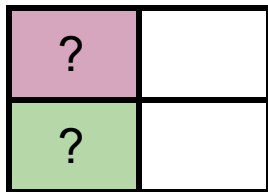
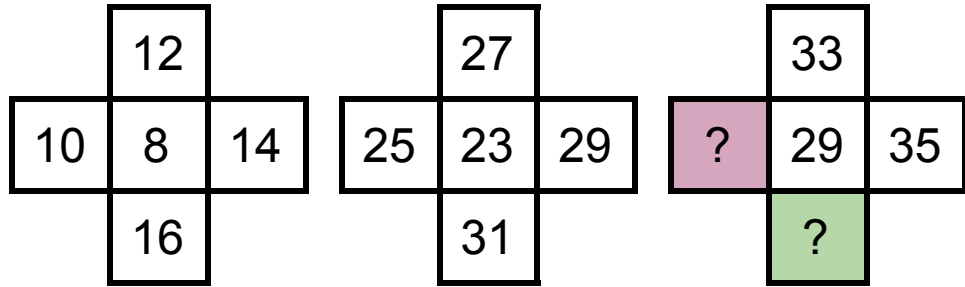
32

Hvilke symboler mangler?

↑	○	■	■
+	■	↑	■
■	■	○	■
○	↑	+	■

33

Hvilke tall mangler?



34

Sett inn + og - slik at regnestykket blir rett.

$$5 \square 5 \square 2 = 8$$

35

Hvilket tall er trekanten?

$$8 + \heartsuit = 10$$





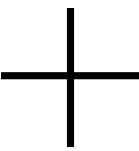
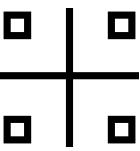



$$\heartsuit + \blacksquare = 7$$




$$\blacksquare + \blacktriangle = 11$$

$$\blacktriangle = ?$$

36

Hvilken figur mangler?

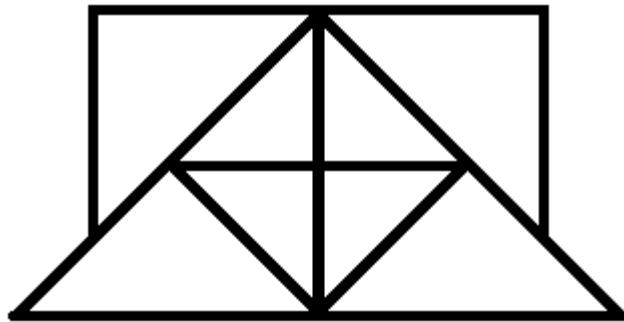
A	
B	
C	

37

Lisa og Jon har plukket 8 epler til sammen.
Lisa har plukket 4 epler fler enn Jon. Hvor
mange epler har Jon plukket?

38

Hvor mange trekanter finner du?






39

Hvilke tall mangler i rekka?

36 - 34 - 32 - ? - ?

40

Hvilken figur passer ikke inn? Kan det finnes flere svar?



FASIT

21. 2.
22. 2 griser, to høner / 1 gris, 4 høner.
23. Rød
24. - +
25. Rosa: 17. Grønn: 19.
26. 14.
27. Trekanten har bare tre kanter / Trekanten har ingen parallelle linjer.
28. A.
29. + -
30. 9.
31. Kurt har flest. Lisa har færrest.
32. Blå: +. Rosa: Sirkel. Gul: Pil. Grønn: Firkant.
33. Rosa: 31. Grønn: 37.
34. + -
35. 6.
36. B.
37. Jon har plukket 2 epler.
38. 14.
39. 30 og 28.
40. Sirkelen har ingen rette kanter / Sirkelen har ingen hjørner.