



# Frosken




Lær om frosken, pluss og minus.





# Frosken



Frosken lever i Norge hele året, men om vinteren er den i **dvale**.

Den ligger i **dvale** i skogen eller på bunnen av en innsjø.

I mars og april våkner frosken fra dvalen sin, fordi solen begynner å varme.

Når de våkner, beveger de seg raskt ned til en innsjø for å finne en **partner**.



Den mest vanlige frosken vi har i Norge heter **buttsnutefrosk**.

Frosken er **fredet** i Norge, men en kan gjerne fange rumpetroll og se på de, hvis man setter dem fri i naturen igjen.

Frosken spiser insekter og andre små levende dyr, som f.eks. edderkopper, meitemark, snegler og ormer.

# Frosken



Regn pluss- og minusstykkene og skriv svaret i det tomme feltet.

$2 + 13 =$	
------------	--

$8 - 6 =$	
-----------	--

$3 + 7 =$	
-----------	--

$4 - 3 =$	
-----------	--

$10 + 2 =$	
------------	--




# Frosken

Start ved frosken og følg tallrekken rundt til vannliljen. Start ved 2, deretter plusser du på to hver gang du går til neste felt.



		1	3	9	11	10
		→	2	4	8	10
4	2	9	7	6	6	9
3	1	12	10	8	1	7
7	2	3	12	13	15	18
8	3	5	14	16	10	19
5	7	0	9	18	18	17
17	13	12	11	20		
14	13	10	12	→		





# Frosken

Pluss froskene sammen og skriv svaret i den tomme ruten.



+



=



+



=



+



=



+



=


# Frosken




Regn minusstykkene og skriv svaret etter = tegnet.

 $4 - 1 = 3$

 $4 - 2 =$

 $5 - 3 =$

 $3 - 1 =$

 $2 - 1 =$

 $5 - 1 =$

# Frosken

Regn pluss- og minusstykkene og skriv svaret i den tomme boksen.

$$\boxed{1} + \boxed{4} = \boxed{\text{lotus}}$$

$$\boxed{6} - \boxed{3} = \boxed{\text{lotus}}$$

$$\boxed{7} + \boxed{3} = \boxed{\text{lotus}}$$

$$\boxed{6} - \boxed{2} = \boxed{\text{lotus}}$$

$$\boxed{8} + \boxed{1} = \boxed{\text{lotus}}$$



# Frosken



Legg 1 til tallet

Trekk 1 fra tallet

96

23

37

45

19

88

45

90

71

51

8



14



# Frosken

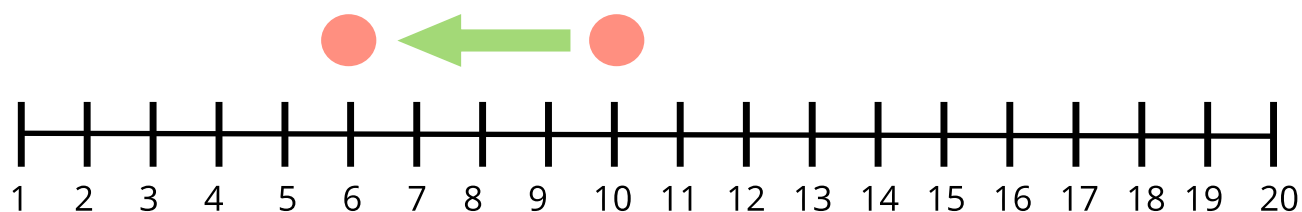
Legg 10 til tallet.

33	
42	
64	
23	
98	
57	
82	
18	



# Frosken

Finn svaret på disse minus regnestykkene. Bruk tallinjen til hjelp.



$$10 - 4 = \underline{6}$$

$$6 - 3 = \underline{\quad}$$

$$14 - 5 = \underline{\quad}$$

$$8 - 5 = \underline{\quad}$$

$$9 - 5 = \underline{\quad}$$

$$14 - 3 = \underline{\quad}$$

$$20 - 7 = \underline{\quad}$$

$$19 - 7 = \underline{\quad}$$

$$7 - 3 = \underline{\quad}$$

$$10 - 7 = \underline{\quad}$$

$$18 - 7 = \underline{\quad}$$

$$16 - 8 = \underline{\quad}$$

$$17 - 4 = \underline{\quad}$$

$$15 - 4 = \underline{\quad}$$

$$9 - 6 = \underline{\quad}$$

$$13 - 10 = \underline{\quad}$$



# Frosken

Regn minusstykkene og tegn en strek over til det riktige svaret.

$13 - 2 =$



$9 - 4 =$



$14 - 2 =$



$15 - 6 =$



$15 - 10 =$



$20 - 10 =$



$15 - 7 =$



$18 - 11 =$



$11 - 7 =$

