

# Matematikkhefte 1. klasse



Navn: \_\_\_\_\_

Klasse: \_\_\_\_\_







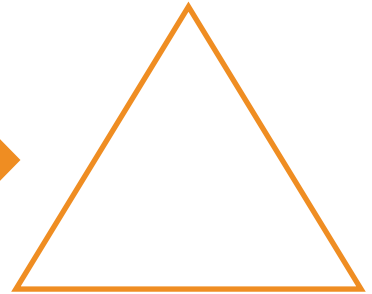




# Tell






Tell hvor mange det er og skriv antallet i trekanten.



# Sett i rekkefølge

Sett tallene i figurerne i rekkefølge. Fra minst til størst.





# Pluss




Tell og regn ut hvor mange det er.




+



=



+



=



+



=



+



=

# Finn svaret

Løs disse regnestykkene og trekk en strek til riktigt svar.



$6 + 2 =$



$16 - 10 =$

$13 + 3 =$



$11 - 3 =$

$18 - 2 =$

$4 + 12 =$



$14 - 6 =$

$3 + 3 =$

$17 - 11 =$

# Finn summen



Sett en strek mellom regnestykket og figuren med samme sum.

$3 + 4$



$20 - 5$

$15 - 4$



$6 + 5$

$8 + 7$



$7 - 4$

$4 + 4$



$2 + 5$

$9 - 6$



$10 - 2$



# Finn veien til spøkeshuset

Hjelp spøkelset å finne en vei ned til spøkeshuset. Du bestemmer selv hvilken vei du vil ta. Alle tallene på din vei skal legges sammen til slutt.



4	1	3	6	5	2
8	0	7	2	1	9
4	2	7	1	6	3
7	8	3	4	7	1
8	3	2	0	8	2
2	4	7	6	4	1
9	1	2	3	5	



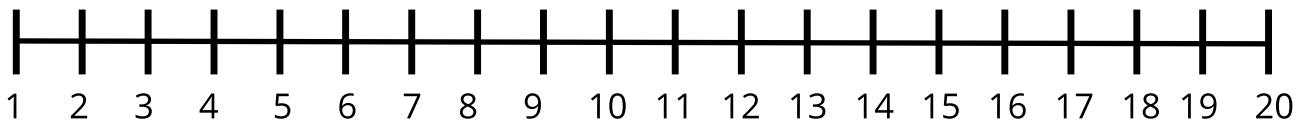
=

\_\_\_\_\_



# Løs regnestykkene

Løs disse regnestykkene. Du kan bruke tallinjen som hjelp.



$$20 - 4 = \underline{16}$$

$$14 - 11 = \underline{\quad}$$

$$8 - 3 = \underline{\quad}$$

$$4 - 3 = \underline{\quad}$$

$$19 - 8 = \underline{\quad}$$

$$17 - 4 = \underline{\quad}$$

$$12 - 7 = \underline{\quad}$$

$$16 - 5 = \underline{\quad}$$

$$13 - 12 = \underline{\quad}$$

$$9 - 2 = \underline{\quad}$$

$$18 - 6 = \underline{\quad}$$

$$20 - 13 = \underline{\quad}$$

$$8 - 4 = \underline{\quad}$$

$$7 - 3 = \underline{\quad}$$









# Pluss og minus




Legg til og trekk fra tallet i gresskaret med tallet som står i feltet under.

-  4 +


8	12	16
---	----	----

-  7 +


	10	
--	----	--

-  11 +


	11	
--	----	--

-  5 +

	9	
--	---	--

-  2 +


	17	
--	----	--

-  8 +

	15	
--	----	--

-  3 +

	23	
--	----	--

-  6 +

	8	
--	---	--





# Skriv nabotallet



Skriv tallet som kommer før og etter tallet i det midterste gresskaret.



Tallet før

Tallet etter



Tallet før

Tallet etter



Tallet før

Tallet etter



Tallet før

Tallet etter



Tallet før

Tallet etter



Tallet før

Tallet etter



Tallet før

Tallet etter



Tallet før

Tallet etter



Tallet før

Tallet etter



Tallet før


Tallet etter





# Fargelegg

Regn ut og fargelegg figurene.



$2 + 5$

$6 - 4$

$3 + 2$

$9 - 3$

$3 + 1$

$8 - 5$

$5 - 4$