

# Acordes triada (3)


1. Escribe la tercera y la quinta sobre las siguientes fundamentales para que resulten los acordes que se indican.

P. m.          P. M.          Aum.          Dis.          P. M.




2. Escribe la quinta de estos acordes triada según su clasificación.

Dis.          P. m.          P. m.          Aum.          P. M.




3. Escribe la tercera de estos acordes triada según su clasificación.

P. m.          Dis.          P. M.          P. M.          Aum.



4. Clasifica los siguientes acordes triada. Ordena sus notas para averiguarlo.



5. Indica que nota no es correcta en estos acordes triada según su clasificación.

Dis.          P. m.          P. M.          Aum.          Dis.

