


Nota nueva en clave de FA en 4ª línea



LA

Rodea las notas que se llamen LA en esta melodía.




Escribe las líneas divisorias de esta melodía.




Completa los siguientes compases.



Inventa una melodía utilizando las figuras y las notas que conoces.



Completa cada compás para que en cada uno haya el valor de 2 blancas.



Rodea la respuesta correcta.
El silencio de blanca equivale a:

3 corcheas

4 semicorcheas

4 negras

2 silencios de negra

