



Grados tonales - 3

1. Realiza las siguientes escalas y escribe a la derecha los grados tonales de cada una de ellas.

Fa # Mayor




Fa # Menor




2. Escribe los grados tonales de las siguientes tonalidades.


Re b Mayor




Fa # menor




Fa Mayor




Do # menor



Si b Mayor



Mi menor



3. ¿Cuál es el nombre de los grados escritos de estas escalas?

Re b mayor



Re # menor



Si mayor



La b menor



