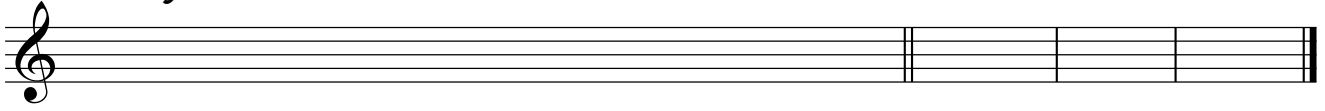


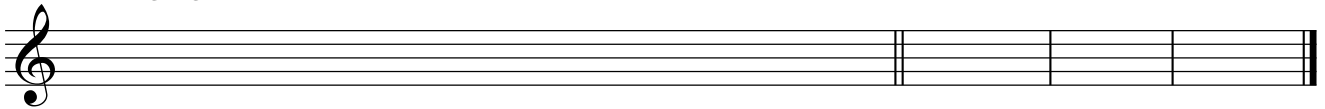
Grados tonales - 2

1. Realiza las siguientes escalas y escribe a la derecha los grados tonales de cada una de ellas.

Mi Mayor




Mi Menor




2. Escribe los grados tonales de las siguientes tonalidades.


Re Mayor




Sol menor



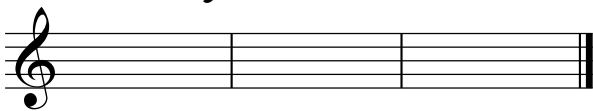
Si b Mayor



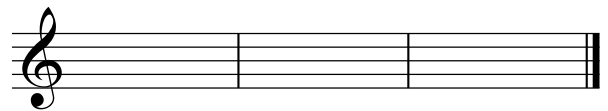
Sol # menor



La b Mayor



Si menor



3. ¿Cuál es el nombre de los grados escritos de estas escalas?

Mi mayor



Do menor



Mi b mayor



Fa # menor

