

## Chiro Zonderschot Fietsroute

Mis jij de leiding ook zo hard, ga ze dan spotten in hun kot! 😊

Wanneer je bij de huizen van de leiding passeert zie je buiten een blad hangen: hierop schrijf je je naam en je afdeling! **Vergeet dus zeker geen stylo!**






Zo weten wij welke afdeling er op het einde van de week gewonnen heeft! Deze afdeling zal beloond worden!

Kijk goed op het plannetje 😊



**!WAARSCHUWING!**: Het kan zijn dat je de fiets even aan de hand moet nemen.


-  → Tibo: Zonderschotse steenweg 29
-  → Vincent: Zonderschotse steenweg 9
-  → Tori: Withofstraat 12B
-  → Marnick: Mechelbaan 45E
-  → Yinthe: Boterstraat 12
-  → Jef: Boterstraat 8
-  → Sam & Jaan: Kloosterveldstraat 15
-  → Emma: Pluisstraat 6
-  → Arend: Pluisstraat 10A
-  → Emily: Grote Braamstraat 6
-  → Mare: Bosweg 12
-  → Jolan: Iepestraat 6

(Klein paadje aan het einde van de wijk, kijk goed op het plannetje)

-  → Amber: Hollandstraat 16
-  → Ilias: Mechelbaan 141
-  → Siemen: Plasstraatje 16
-  → Steye: Plasstraatje 12
-  → Lara: Plasstraatje 15

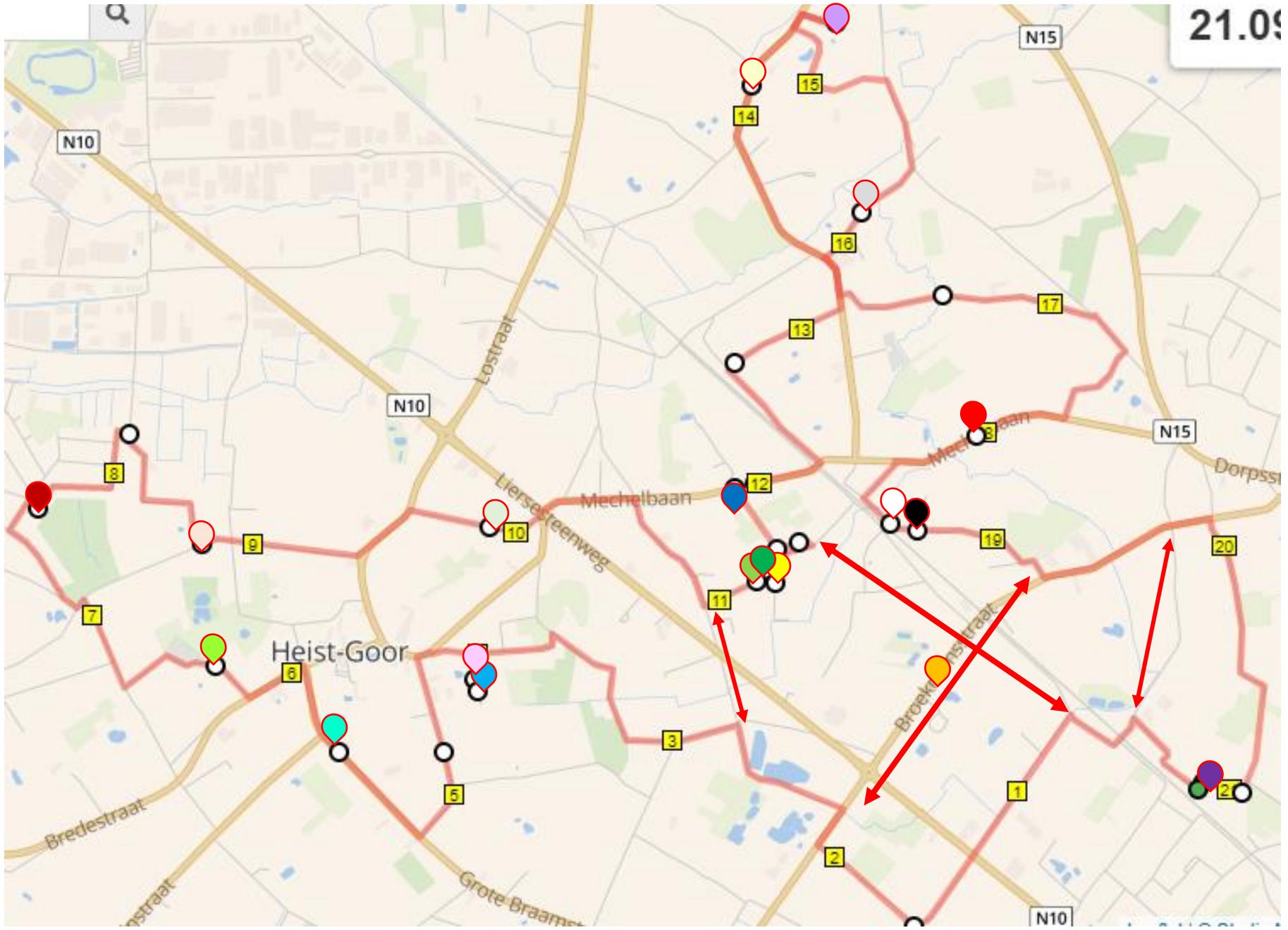
(Aan het witte huis, het doodlopend straatje in. Je rijdt hier het kleine wandelweggetje naast de wei in)

-  → Thomas & Dorien: Mechelbaan 79A
-  → Pieter: Broekmansstraat 79A

-  → Alternatieve fietsroute 🚲 (De 'normale' route gaat ook wel met de fiets maar is niet altijd even makkelijk, veld of landbouwwegje)

## Vragen voor onderweg

-  → Tibo: Welke struik hangt er rond de voordeur?.....
-  → Vincent: Hoe lang is het straatje om aan zijn huis te geraken?.....m  
(Van de straatnaampaaltje tot aan de stoel)
-  → Tori: In welke stijl is dit huis gebouwd?.....
-  → Marnick: Welke kleur heeft de brievenbus?.....
-  → Yinthe: Welk speeltuig staat er in de tuin?.....
-  → Jef: Hoeveel paarden staan er in de wei?.....
-  → Sam & Jaan: Wat is de nummerplaat van de “groene bus”?.....
-  → Emma: Hoeveel huizen moet je passeren om tot bij Arend te raken?.....
-  → Arend: Welke kleur heeft dit huis?.....
-  → Emily: Welke kleur heeft het hek rond haar huis? .....
-  → Mare: Naast wat woont Mare?.....
-  → Jolan: Is het een open, halfopen of gesloten bebouwing?.....
-  → Amber: Heeft Amber een brievenbus?.....
-  → Ilias: Welke kleur heeft de voordeur?.....
-  → Siemen: Welk evenement vindt plaats in deze straat?.....
-  → Lara: Welk dier staat boven het huisnummer?.....
-  → Steye: Uit welk materiaal is de poort gemaakt?.....
-  → Thomas & Dorien: Welke vorm heeft het raam naast de garage?.....
-  → Pieter: Wat is de naam van het bedrijf van Pieters Familie?.....



21.09

N10

N15

N10

N15

Heist-Goor

Mechelbaan

Liersesteenweg

Broekmansstraat

Dorpsstraat

Bredestraat

Grote Braamst

N10