


BOX

TRÄNA MATEMATIK

A



TID

ASKUNGE

Träna matematik

Tid

| | |
|----------------------------------|----|
| Ord och begrepp | 2 |
| Tidsenhet. | 4 |
| Uppskatta | 5 |
| Analog klocka | 6 |
| På två sätt | 8 |
| Digital klocka | 10 |
| Analog och digital tid | 11 |
| Hur länge spelade Mia? | 12 |
| Se på tv | 13 |
| Om en kvart | 14 |
| För en halvtimma sedan. | 15 |
| Leo cyklar till jobbet | 16 |

Ord och begrepp

| | | |
|---------|-----------|--------------|
| dygn | timma | timvisare |
| klocka | minut | minutvisare |
| analog | sekund | uppskatta |
| digital | tidsenhet | tidsskillnad |

dygn

En dag och en natt är ett dygn.

Ett dygn är 24 timmar.

- Hur många timmar är två dygn?

36 timmar

48 timmar

analog klocka

Vi mäter tiden med klockor.


En analog klocka har visare.

Klockan visar 12 timmar.


Timvisaren går två varv på ett dygn.

Klockan kan vara 11 på dagen eller 11 på kvällen.

Om det är på kvällen skriver vi 23.00.




- Vilken klocka visar att klockan är åtta?




Analog klocka


En analog klocka har visare.
Det finns en timvisare och en minutvisare.
Ibland finns det också en sekundvisare.


Skriv klockslagen med bokstäver.














Leo åker bil till jobbet.
Han startar kl. 08.05 och är
framme kl. 08.40.
Hur lång tid tar det för honom
att åka till jobbet?



Lina och Amal ska åka till Gotland.
De tar färjan som går kl. 16.40.
Resan tar 3 timmar och 15 minuter.
Vilken tid är de framme?



Bra
jobbat!

ISBN 978-91-7767-015-5
© 2017 Mirvi Unge Thorsén och
Askunge AB

PRODUKTION Mirvi Unge Thorsén
ILLUSTRATION Daniel Borg

Produktionsstöd har erhållits av
Specialpedagogiska skolmyndigheten.

Första upplagan
I



Boken uppfyller miljökraven
för märkning med Svanen.

Tryck
Elanders Sverige AB 2017

Kopieringsförbud

Detta verk är skyddat av
upphovsrättslagen! Det är inte tillåtet,
enligt avtal med Bonus Presskopia, att för
undervisningsbruk kopiera ur detta häfte.
Den som bryter mot lagen om upphovsrätt
kan åtalas av allmän åklagare och dömas till
böter eller fängelse i upp till två år samt bli
skyldig att erlægga ersättning till upphovs-
man/rättsinnehavare.

ASKUNGE

Askunge Thorsén Förlag AB
Mjölmarvägen 16, 131 31 Nacka
tel: 08-30 95 75 eller 073-951 13 93
e-post: askunge@askunge.se
www.askunge.se

TID

TRÄNA MATEMATIK är en serie arbetsböcker med fokus på grundläggande räknefärdigheter. Häftena tar upp olika matematiska områden. Varje häfte inleds med ett uppslag där matematiska ord och begrepp presenteras.

Tid

Häftet tar bland annat upp analog och digital tid. Du får också träna på att räkna tidsskillnader.

Följande häften finns i serien *BOX Träna matematik*:

- Addition 1–10
- Subtraktion 1–10
- Addition 1–20
- Subtraktion 1–20
- Taluppfattning 1–10
- Taluppfattning 1–20
- Taluppfattning 1–100
- Tabeller och diagram
- Multiplikation A
- Multiplikation B
- Division
- Bråk och decimaltal
- Bråk och procent
- Längd
- Vikt
- Volym
- Area
- Tid

