



INNEHÅLL

Bianca och Billy	2	Våra blommor	18
Bullens boll	4	Panta flaskor	19
Tärningen	5	Månader	20
Knappar	6	Veckans dagar	21
Pennor	7	Plocka snäckor	22
Klockan	8	Billy bakar	23
Hundkojan	9	Fikat	24
Gissa	10	Vi jämför	25
Halsbandet	11	Vi handlar	26
20-troll	12	Tjuven	27
Räkna med snäckor	13	Köttbullar	28
Tivoli	14	Bullens ben	29
Vi äter	15	Yatzy	30
Guldpenngar	16	Hemligt meddelande	31
Fynd i skogen	17		

Författare

Victoria W Gustafsson Anette S Panboon

Bilder

Ingrid Flygare

ASKUNGE

Bianca och Billy

Vi är tvillingar!

Vi gillar att busa med Bullen.

Woff!



Biancas rum




Billys rum



► Hitta 10 saker som är olika.
Ringa in dem på bilden av Billys rum.

Våra rum är lika.

Ja, fast några saker är olika.



Bullens boll

Hämta bollen!




► Rita bollen.


Bollen är framför hinken.



Bollen är bakom målet.




Bollen är under bordet.



Bollen är på målet.



Bollen är bredvid bordet.



Bollen är mellan hinken och målet.



Tärningen

Jag vill ha många sexor.



► Hur många sexor tror du att Billy får om han slår tärningen 18 gånger? _____

► Slå en tärning 18 gånger. Rita vad tärningen visar.

► Hur många av varje sort fick du?

	_____		_____
	_____		_____
	_____		_____

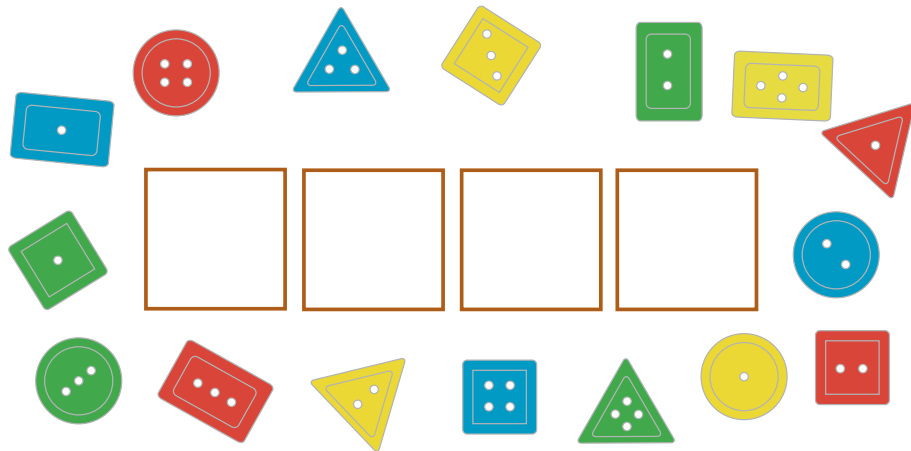
Knappar

- ▶ Hjälp Bianca att sortera knapparna. Dra streck.

Knapparna kan sorteras efter antalet hål, färg eller form.

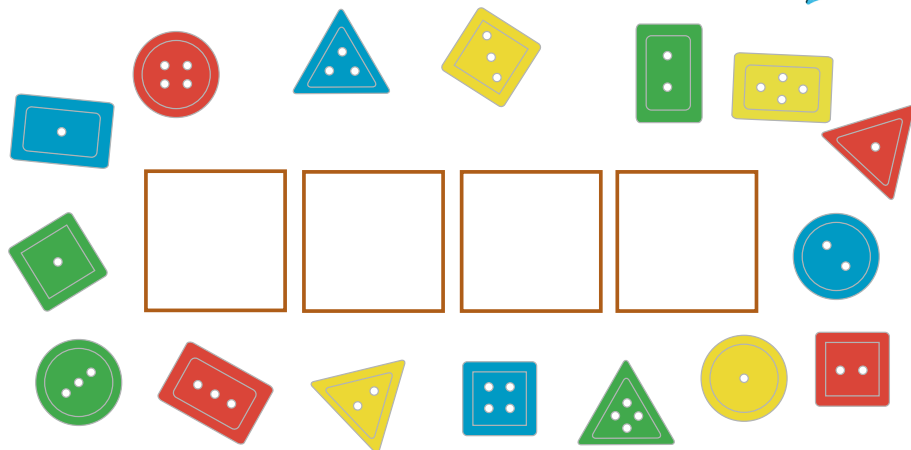


Jag har tappat ut knapparna.




- ▶ Visa hur Billy sorterar.

Jag sorterar på ett annat sätt.

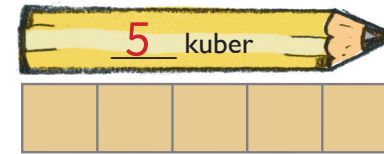


Pennor

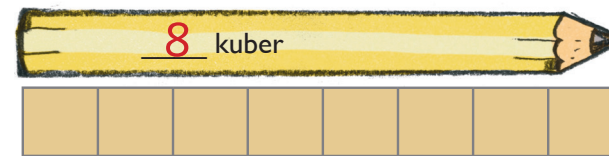
Min penna är längst. Den är 10 kuber lång.



- ▶ Skriv hur många kuber långa pennorna är.



Hur långa är mina pennor?



Klockan

► Rita visare på klockorna.

Jag ska hem om två timmar.



Vad är klockan om två timmar?

Hundkojan


Hjälp mig att måla rätt mönster.



Så fint Bullen får det.



► Måla färdigt mönstren.



Gissa


Hur många tror du att det är?



Jag gissar att det är 40.



50 20 100



10 40 80



10 100 30



15 5 35

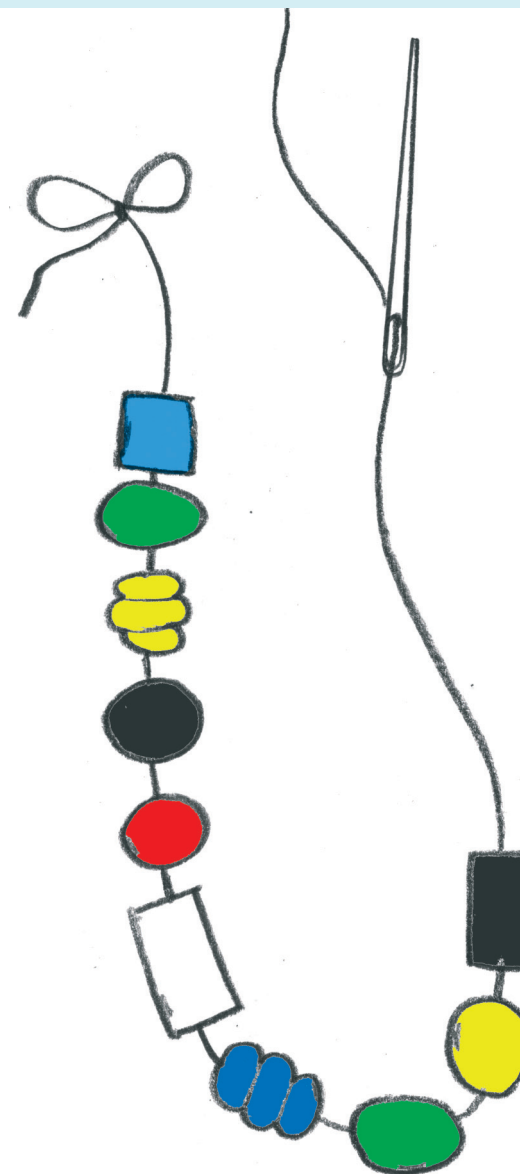
Halsbandet

Jag ska göra ett halsband.



► Måla pärlorna i rätt färg.





- Första pärlan är blå.
- Tredje pärlan är gul.
- Sjätte pärlan är vit.
- Andra pärlan är grön.
- Femte pärlan är röd.
- Sjunde pärlan är blå.
- Nionde pärlan är gul.
- Fjärde pärlan är svart.
- Åttonde pärlan är grön.



► Vilken färg har den tionde pärlan? svart

20-troll

Spela med en kompis.
Slå en 10-tärning. Måla tjugokompisen.
Vem målar först ett helt troll?
Vem målar båda trollen?



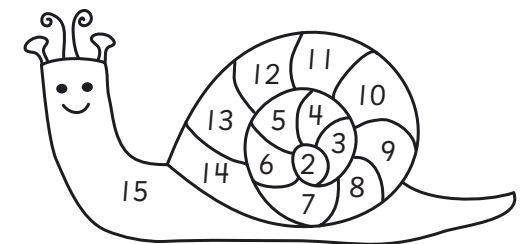
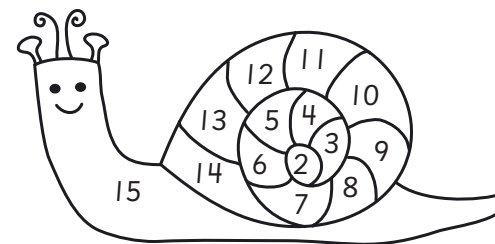
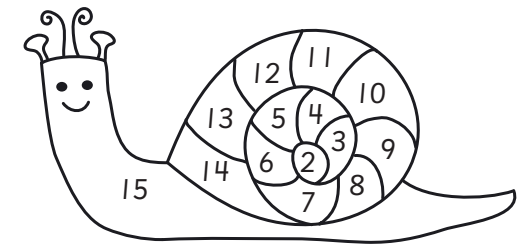
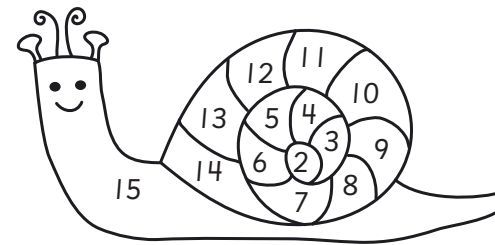

Räkna med snäckor

Spela med en kompis.
Slå tre sexsidiga tärningar.
Räkna samman prickarna på två eller tre av tärningarna.
Vem målar först en hel snäcka?

Jag kan måla 3, 6, 7 eller 8.




- .. $2+1=3$
- .. $5+1=6$
- .. $5+2=7$
- .. $5+2+1=8$




Tivoli

Vi sitter i den tredje vagnen.




första andra tredje fjärde femte
sjätte sjunde åttonde nionde tionde


► Var sitter Bianca och Billy?




De sitter i den fjärde vagnen.



De sitter i den tionde vagnen.



De sitter i den andra vagnen.



De sitter i den sjätte vagnen.

Vi äter

Jag äter...




Jag äter...



Det finns	Bianca	Billy

► Rita det som finns kvar.




Guldpenngar


Jag har 40 kronor.



Hur mycket har jag?

50 kronor




30 kronor



60 kronor




50 kronor



60 kronor

Fynd i skogen

Har vi lika många?



= lika med
 ≠ inte lika med

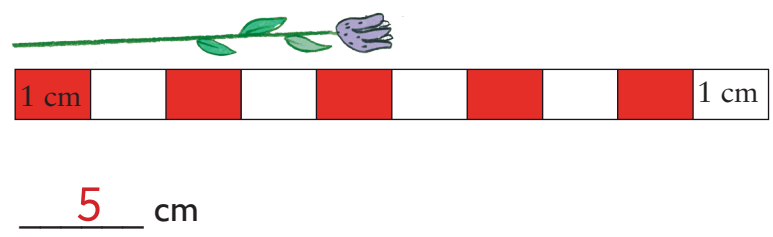
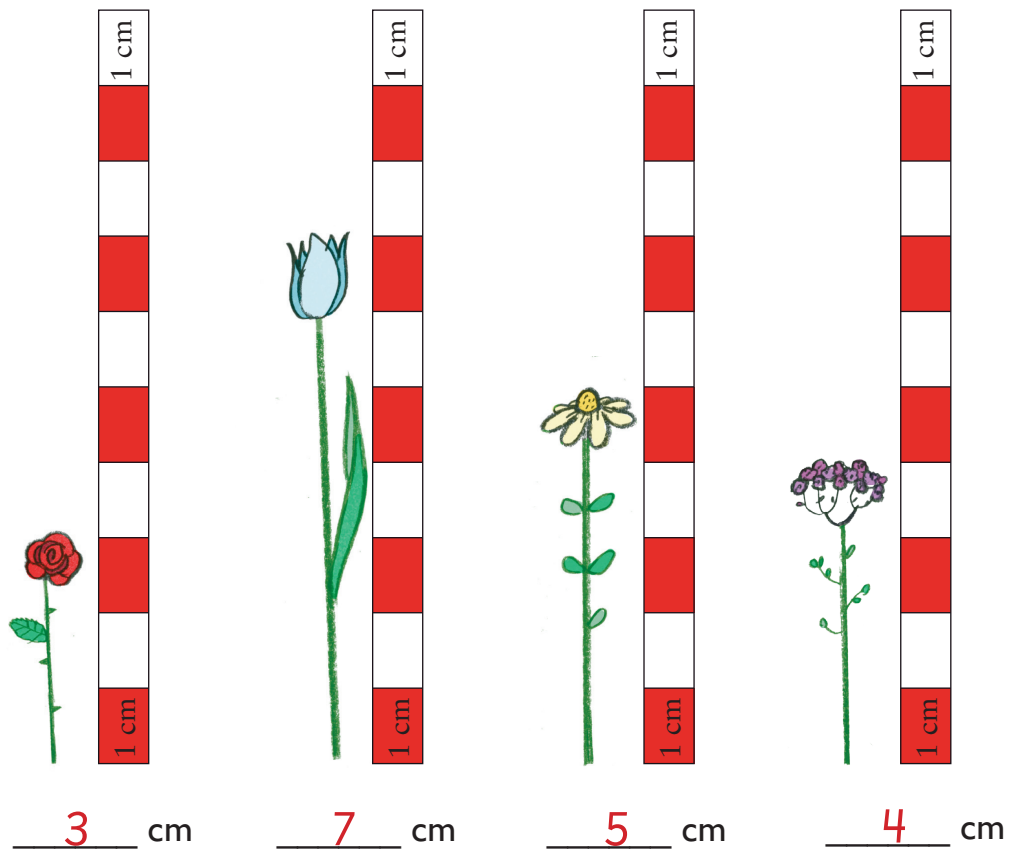


► Rita rätt tecken.



Våra blommor

► Mät blommorna.



Panta flaskor



► Hur mycket pengar får han?

	$2 + 2 + 1 + 1 = 6$ kr
	$2 + 1 + 1 + 1 = 7$ kr
	$2 + 2 + 2 + 1 = 7$ kr

► Vilka flaskor har Billy pantat? Rita.

Exempel:



Månader

Jag fyller år i april.



► Vilken månad fyller du år?

► Vilken månad är det nu? _____

Årstiderna kan skilja något

► Dra streck till rätt årstid. **beroende på var i landet man bor.**

januari
februari
mars
april
maj
juni
juli
augusti
september
oktober
november
december

vinter

vår

sommar

höst

Veckans dagar

► Skriv veckans dagar i rätt ordning.

måndag

tisdag

onsdag

torsdag

fredag

lördag

söndag

Min favoritdag
är onsdag.



► Vilken är din favoritdag? _____

► Skriv rätt dag.

Idag är det _____ dag.

Imorgon är det _____

Igår var det _____

För tre dagar sedan var det _____









Om två dagar är det _____




Plocka snäckor






► Hur många är det sammanlagt?

		$\underline{5} + \underline{4} = \underline{9}$ snäckor
		$\underline{8} + \underline{4} = \underline{12}$ snäckor
		$\underline{6} + \underline{7} = \underline{13}$ snäckor
		$\underline{9} + \underline{3} = \underline{12}$ snäckor


Billy bakar



► Hur många muffins finns under duken?



Fikat



Nu ska vi fika!

► Rita eller skriv.

Billy äter 2 muffins.
Bianca äter dubbelt så många.
Bullen äter en.

► Hur många muffins finns kvar? 18 muffins

De muffins som finns kvar lägger Billy i tre påsar.








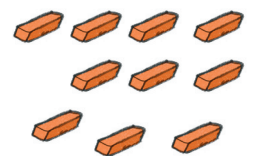


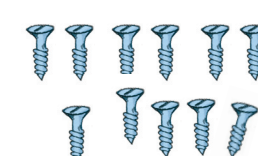



► Hur många muffins är det i varje påse? 6 muffins

Vi jämför

Jag har så
här många.

Så här många
har jag.

		Hur många fler har Billy?
		1
		6
		2
		9
		4

Vi handlar

Jag handlar tre saker.



KAFFE	10 KR
SAFT	7 KR
KAKA	4 KR
BULLE	5 KR
KEX	2 KR

- Vad köper Billy?
Vad kostar det?

Det finns flera lösningar t.ex.
Billy köper saft, kaka och bulle.
 $7 + 4 + 5 = 16$
Det kostar 16 kr.

Jag handlar fyra saker.



- Vad köper Bianca?
Vad kostar det?

Det finns flera lösningar t.ex.
Bianca köper 2 glas saft och 2 bullar.
 $7 + 7 + 5 + 5 = 24$
Det kostar 24 kr.

Tjuven

Nu har Bullen varit i mitt rum!



Så här många hade Billy.	Så här många tog Bullen.	Hur många finns kvar?
	2	3
	4	5
	6	6
	10	5
	3	8

Varför skyller du alltid på mig?




Köttbullar





Vi delar så att vi får lika många.


► Ringa in så att de får lika många.



Exempel på lösning:




Bullens ben



Bullen älskar ben!

► Skriv räknesor om Bullen och hans ben.




Exempel på lösning:

Bullen har 4 ben.

Han hittar 3 ben.

Då har han 7 ben.



Exempel på lösning:

Bullen har 7 ben.

Han ger bort 2 ben till sin hundkompis.

Då har han 5 ben kvar.

Yatzy



► Räkna ut poängen.

	Billys tärningar	Billys poäng	Biancas tärningar	Biancas poäng
ettor		3		4
tvåor		6		4
treor		6		9
fyror		12		8
femmor		20		15
sexor		12		18

Hemligt meddelande

► Lös det hemliga meddelandet.

9	10	11	12	13	14	15	16	17	18	19	20
A	D	E	M	N	O	R	L	T	U	Ä	J

$$15 - 5 = 10 \quad \boxed{D}$$

$$9 + 9 = 18 \quad \boxed{U}$$

$$8 + 11 = 19 \quad \boxed{\text{Ä}}$$

$$19 - 4 = 12 \quad \boxed{R}$$

$$20 - 9 = 11 \quad \boxed{E}$$

$$8 + 9 = 17 \quad \boxed{T}$$

$$19 - 2 = 17 \quad \boxed{T}$$

$$6 + 6 = 12 \quad \boxed{M}$$

$$12 - 3 = 9 \quad \boxed{A}$$

$$12 + 5 = 17 \quad \boxed{T}$$

$$3 + 14 = 17 \quad \boxed{T}$$

$$18 - 7 = 11 \quad \boxed{E}$$


$$8 + 8 = 16 \quad \boxed{L}$$

$$7 + 4 = 11 \quad \boxed{E}$$

$$14 + 6 = 20 \quad \boxed{J}$$

$$18 - 4 = 14 \quad \boxed{O}$$

$$8 + 5 = 13 \quad \boxed{N}$$



ISBN 978-91-86611-92-7

© 2014 Victoria W Gustafsson, Anette S Panboon
och Askunge AB

PRODUKTION • Mirvi Unge Thorsén

ILLUSTRATION • Ingrid Flygare

Första upplagan

I



Denna bok uppfyller miljökraven
för märkning med Svanen.

TRYCK

Elanders Sverige AB 2014

KOPIERINGSFÖRBUD

Detta verk är skyddat av upphovsrättslagen! Det är inte tillåtet, enligt avtal med Bonus Presskopia, att för undervisningsbruk kopiera ur detta häfte. Den som bryter mot lagen om upphovsrätt kan åtalas av allmän åklagare och dömas till böter eller fängelse i upp till två år samt bli skyldig att erlägga ersättning till upphovsman/rättsinnehavare.

ASKUNGE

Askunge Thorsén Förlag AB,
Mjölnavägen 16, 131 31 Nacka
08-30 95 75, 073-951 13 93
www.askunge.se
askunge@askunge.se