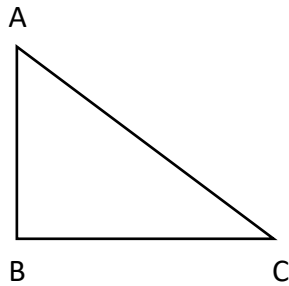
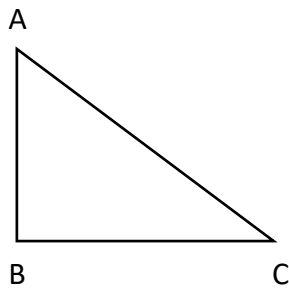


Toets driehoeksmeting in rechthoekige driehoeken:

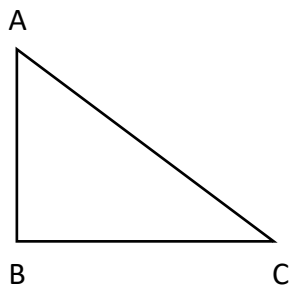
1. Bereken de ontbrekende hoeken als je weet dat $|AB| = 3$
 $|BC| = 4$ en $\hat{B} = 90^\circ$



2. Bereken alle overige zijden wanneer je weet dat $|AB| = 5$
 $\hat{B} = 90^\circ$ en $\hat{C} = 40^\circ$

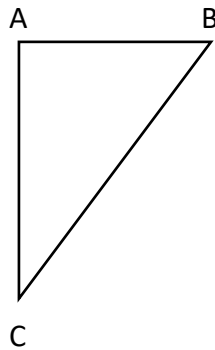


3. Bereken alle overige zijden wanneer je weet dat
 $\hat{B} = 90^\circ$ en $\hat{C} = 45^\circ$





4. Bereken de ontbrekende zijden wanneer je weet dat $\hat{A} = 90^\circ$ en $\hat{B} = 60^\circ$ en $|AC| = 7$



5. Bereken de ontbrekende hoeken wanneer je weet dat $|AC| = 7$, $\hat{A} = 90^\circ$ en $|AB| = 3$

